

1) Aşağıdaki cümlelerin hangisinde bir yazım yanlışı vardır?

- A) Bizimle birlikte Ömerler de pikniğe geldi.
B) Dedem her sabah Çomar'ı gezdirir.
C) İstanbul'da Sivaslılar günü yapıldı.
D) Amcam T.T.K.'unda çalışıyor.

2) I – Dedem köyde kümes hayvanları (tavuk, hindi , kaz , ördek) besliyor.

II- Yurtta sulh, cihanda sulh. (M.K.Atatürk)

III- TDK Türk (Dil Kurumu) Atatürk tarafından kurulmuştur.

Yukarıdaki cümlelerin hangilerinde yay araç doğru kullanılmıştır?

- A) I – II – III
B) I – II
C) II – III
D) I – III

3) şiir - törende – kardeşi – okuldaki okudu – merasimde – Sinem'in

Ayşe yukarıdaki kelimelerden 6 tanesini kullanarak anlamlı ve kurallı bir cümle oluşturmak istiyor. Buna göre aşağıdaki kelimelerden hangisini kullanmayabilir?





- A) şiir
B) törende
C) okudu
D) kardeşi

4) Aşağıdaki cümlelerden hangisi duygu ifade eden bir cümledir?

- A) Hava güzel olursa yarın pikniğe gideceğiz.
B) Odunları birlikte taşıyalım .
C) Çatıdan aşağıya bakınca çok korktum.
D) Ela'nın resmi çok güzel olmuş.

5)  

Yukarıdaki çocuklar hem eş anlamlısı hem de zıt anlamlısı olan kelimelere örnek vermişler. Buna göre hangi çocuğun verdiği örnek yanlıştır?

A)  B) 
C)  D) 

6) \diamond Olay
 \circ Yer
 \triangle Kahramanlar
 \square Zaman

Yukarıdakilerden hangileri hikayenin unsurlarıdır ?

- A) \diamond \triangle
B) \diamond \circ \triangle
C) \diamond \triangle \square
D) Hepsi

7) Duyarsız insanlar çevrelerinde olup bitenleri umursamazlar. Kalpleri taş gibidir, acıma duyguları yoktur. Onlar diğer insanlara göre vurdumduymazdırlar. Örneğin sokaktaki aç bir köpeği görmezden gelirler.

Yukarıdaki paragrafta aşağıdaki cümle türlerinden hangisi yoktur ?

- A) Örneklendirme
- B) Karşılaştırma
- C) Sebep – sonuç
- D) Benzetme

8) Poşetleri mutfağa koyduk.
 Babamla birlikte pazara gittik.
 Poşetleri taşıırken babama yardım ettim.
 Pazardan alacaklarımızı kağıda yazdım.
 Pazardan sebze ve meyve aldık.

Yukarıdaki cümleler oluş sırasına konduğunda şekline ait cümleden önce hangi şekle ait cümle yazılmalıdır?

- A) B) C) D)

9) Aşağıdaki cümlelerin hangisinde tarihlerin yazımıyla ilgili yanlışlık yapılmıştır?

- A) Babam 14.05.1982'de doğmuş.
- B) 14 / Eylül / 2014 yılında ilkokula başladım.
- C) 29/10/1923 tarihinde devletimizin adı Türkiye Cumhuriyeti oldu.
- D) Babamla annem 25 Temmuz 2004'te evlenmişler.

10) Aşağıdaki cümlelerin hangisinde kişisel özelliklerden bahsedilmiştir?

- A) Gaye'nin mavi renkli üç tane balığı var.
- B) Mehtap kıvrıkcık saçlarından çok şikayetçi.
- C) Kısa boylu çocuk yarışı kazandı.
- D) Arkadaşlarım hiç yalan söylemez.

11)

24 Haziran'da köye gittim. 48 gün sonra tekrar eve döndüm.

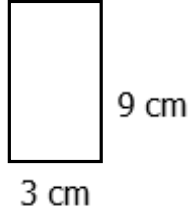


Ali

Yukarıdaki bilgiye göre Ali hangi tarihte eve dönmüştür?

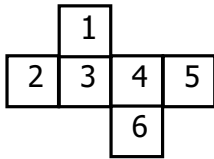
- A) 8 Ağustos
B) 15 Ağustos
C) 11 Ağustos
D) 9 Ağustos

12) Ölçüleri verilen dikdörtgen-
den kaç tane yan yana geti-
rilirse bir tane kare elde edi-
rir?



- A) 2
B) 3
C) 4
D) 5

13)



Açık olarak verilmiş küp katlandığında 5 rakamının karşısına hangi rakam gelir?

- A) 3
B) 1
C) 4
D) 2

14) Ercan ve babasının yaşları toplamı 50'dir.
7 yıl önce ikisinin yaşları toplamı kaçtı ?

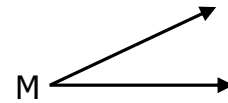
- A) 43
B) 40
C) 36
D) 35

15) \square 80 mm = 8 cm
 \triangle 2 m 5 cm = 250 cm
 \circ 410 cm = 4 m 10 cm
 \square 740 mm = 74 cm

Yukarıdakilerden hangisi yanlıştır?




- A) \square
B) \circ
C) \circ
D) \triangle

16)



Yukarıdaki M açısı doğru açının $\frac{1}{6}$ 'sıdır.
Buna göre M açısı kaç derecedir ?

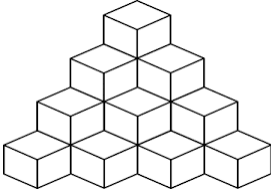
- A) 40°
B) 25°
C) 15°
D) 30°

17)  = 108
 = 122
 = ?

Yukarıdaki işlemlere göre soru işareti yerine aşağıdakilerden hangisi gelmelidir?

- A) 23 B) 25 C) 28 D) 30

18)



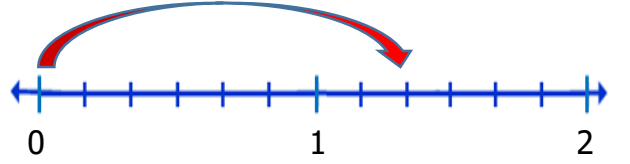
Yukarıdaki yapıya 5 tane daha küp eklersek yapıda toplam kaç küp olur?

- A) 20 B) 23 C) 25 D) 27

19) Sıla'nın annesi 4 tane tabak almış ve 60 lira ödemiş. Aynı tabaklardan Ömer'in annesi 9 tane alırsa kaç lira öder ?

- A) 135 B) 130
C) 125 D) 15

20)



Ok işareti ile gösterilen noktanın kesir sayısıyla ifade edilmiş şekli aşağıdakilerden hangisidir ?

- A) $1 \frac{3}{6}$ B) $1 \frac{2}{6}$
C) $1 \frac{1}{6}$ D) $\frac{10}{6}$

21)

Ercan on iki yaşında bir çocuk. Geçine-medikleri için babasının zoruyla bir işte çalışıyor. Bu yüzden uzun zamandır okula gidemiyor. Çoğu zaman çalıştığı için arkadaşlarıyla buluşup oyun da oynamıyor.

Yukarıda verilen bilgilere göre Ercan hangi haklarını kullanamamaktadır?

- A) Sağlık – Eğitim – Beslenme
- B) Barınma – Eğitim – Oyun oynama
- C) Çalıştırılmama – Eğitim - Sağlık
- D) Çalıştırılmama – Eğitim – Oyun oynama

22)

Hayatımızı planlamalı ve işlerimizi bu plana göre yürütmeliyiz.

Yukarıdaki gibi yaparsak aşağıdakilerden hangisini gerçekleştirmiş oluruz?

- A) Su tasarrufu
- B) Elektrik tasarrufu
- C) Zaman tasarrufu
- D) Yakıt tasarrufu

23) I – Giderimiz gelirimizden fazla olmalıdır.

II- Temel ihtiyaçlar aile bütçesinde her zaman öncelikli olmalıdır.





III- Gelire göre aile bütçesi oluşturulmalıdır.

Yukarıdakilerden hangileri doğrudur?

- A) II – III
- B) I – II - III
- C) I – III
- D) I – II

24) Ülkemizde üretilen ürünlerin üzerine belirli standartlara uygun olduğunu gösteren damga vurulur.

Yukarıda sözü edilen damga aşağıdakilerden hangisidir?

- A)  B) 
- C)  D) 

25)







Yukarıdaki görsel ekonomik faaliyetlerin hangi aşamasıdır ?

- A) Üretim
- B) Tüketim
- C) Dağıtım
- D) Paketleme

26) Mucitler planlı çalışırlar.
 Yeni icatlar hayatı zorlaştırmıştır.
 Mucitler meraklı kişilerdir.
 İhtiyaçlar icatların temelini oluşturur.

Yukarıdaki bilgilerden hangileri doğrudur?

- A)
- B)
- C)
- D)

- 27)  Kuzenimle telefonda görüntülü görüştüm.
Suna
-  Bilgisayarı araştırma yapmak için kullanırım.
Okan
-  Televizyonu karanlıkta izlerim.
Zafer
-  Islak olan saçlarımı saç kurutma makinesiyle kuruttum.
Mine

Yukarıdakilerden hangisi teknolojiyi zarar verecek şekilde kullanmıştır?

- A) Zafer B) Mine
C) Okan D) Suna

- 28) Leonardo Da Vinci uçan arabalar tasarlamıştır.
- Evliya Çelebi kollarına kanat takarak uçuş denemeleri yapmıştır
- Wright kardeşler ilk motorlu uçağı yaptılar.

Yukarıdaki cümlelerin başına doğru olanlara "D", yanlış olanlara "Y" yazarsak hangi sonuç ortaya çıkar?

- A)

D
Y
Y

 B)

D
D
D

 C)


Y
D
D

 D)

D
Y
D

- 29) Depremle ilgili aşağıdaki bilgilerden hangisi yapılacağı zaman yönünden diğerlerinden farklıdır?

- A) Balkon ve pencerelerden uzak durmalıyız.
B) Sağlam bir eşyanın yanına çömelmeliyiz.
C) Deprem çantası hazırlamalıyız.
D) Paniğe kapılmamalı, başımızı kollarımızın arasına almamız .

- 30)  Yaşadığım şehirde ve çevresinde en çok görülen doğal afet heyelendir.

Buna göre çocuğun yaşadığı şehir hangi bölgededir?

- A) İç Anadolu Bölgesi
B) Karadeniz Bölgesi
C) Ege Bölgesi
D) Doğu Anadolu Bölgesi

- 31) Fonograf, mikrofon, hoparlör, kaset, gramofon, megafon, işitme cihazı, stetoskop



Suna

Öğretmen Suna'ya ses şiddetini yükselten cihazların neler olduğunu sormuş. Suna'nın söylediği cihazlardan kaç tanesi doğrudur?

- A) 2 B) 3 C) 4 D) 5

- 32) Günümüzden yaklaşık 200 yıl önceyi konu alan bir film izledim.



Ozan

Ozan izlediği filmde hangi aydınlatma araçlarını görmüş olabilir?

- A) Kandil – Mum – Gaz lambası
B) Kandil – Ampul – Floresan
C) Mum – Gaz lambası – Led lamba
D) Ampul – Mum – Led lamba

- 33) Gaz – Sıvı Sıvı – Sıvı
 Katı - Katı Sıvı - Katı

Yukarıdaki karışım türlerinden hangisinde süzme yöntemi kullanılabilir?

- A) B)
C) D)

- 34) Saf madde ve karışıma aşağıdakilerden hangisinde doğru örnekler verilmiştir?

	<u>Saf Madde</u>	<u>Karışım</u>
A)	Toprak	Hava
B)	Demir	Şeker
C)	Tuz	Toprak
D)	Hava	Limonata

- 35)

Demir 80°C	Su 10°C
---------------	------------





Eşit kütle ve hacimli yukarıdaki maddeler birbirine temas ettiriliyor.

Buna göre aşağıdakilerden hangisi söylenebilir ?

- A) Suyun sıcaklığı azalır.
B) Her ikisinde sıcaklık 45°C' da eşitlenir.
C) Sudan demire ısı akışı olur.
D) Sıcaklıklarda bir değişiklik olmaz.

- 36)Aşağıdakilerden hangisi katı, sıvı ve gaz maddelerin ortak özelliğidir?

- A) Belirli bir şekilleri vardır.
B) Belirli bir kütlesi ve hacmi vardır.
C) Buldukları ortama yayılırlar.
D) Elle tutulabilirler.

- 37)  Kütle ölçü birimi kilogramdır.
Sıla
-  Katıların hacimlerini ölçemeyiz.
Umut
-  Maddelerin hacmini eşit kollu terazi ile ölçeriz.
Meral
-  Tüm maddelerin kütleleri ölçülebilir.
Ömer

Yukarıdaki çocuklardan hangileri **yanlış** bilgi vermiştir?

- A) Umut – Meral B) Umut - Ömer
C) Sıla - Ömer D) Sıla - Meral

- 38)

Çelik kaşık	Gümüş kolye
Altın yüzük	Demir iğne

Yukarıdaki şekilden mıknatısla çekilmeyen maddeler çıkarıldığında hangi şekil elde edilir ?

- A)

--	--

 B)

- C)

 D)

- 39) E – Kokusu D - Tadı
O - Şekli L - Yönü
Y- Hızı S - Sayısı

Kuvvetin etkisiyle bir cisimde değişiklikler meydana gelir. Bu değişikliklerin başlarındaki harfler kullanılarak aşağıdaki kelimelerden hangisi yazılabilir?

- A) YEL B) SOL
C) YOL D) SEL



I

II



III

IV

Yukarıdaki görsellerden hangilerinde ses kirliliği söz konusudur?

- A) I - II B) II - IV
C) II - III D) I - IV

CEVAP ANAHTARI

TÜRKÇE

- 1) D
- 2) B
- 3) B
- 4) C
- 5) A
- 6) D
- 7) C
- 8) A
- 9) B
- 10) D

MATEMATİK

- 11) C
- 12) B
- 13) A
- 14) C
- 15) D
- 16) D
- 17) B
- 18) C
- 19) A
- 20) B

SOSYAL BİL.

- 21) D
- 22) C
- 23) A
- 24) B
- 25) B
- 26) C
- 27) A
- 28) D
- 29) C
- 30) B

FEN BİLİM.

- 31) D
- 32) A
- 33) C
- 34) C
- 35) B
- 36) B
- 37) A
- 38) B
- 39) C
- 40) D