

Biz dünyaya gelmeden,  
Her yeri düşman almış,  
Atatürk düşmanları,  
Yurdumuzdan çıkarmış.



23 Nisan günü,  
Meclis kuruldu diye,  
Büyük bayram verilmiş,  
Çocuklara hediye.

Gülelim eğlenelim,  
Kutlayalım bayramı,  
Verelim hep el ele,  
Yükseltelim vatanı.  
Melahat UĞURKAN



(1-4. soruları metne göre cevaplayınız.)

- 1) Düşmanlar her yeri ne zaman almışlar?
- A) Uzun yıllar önce almışlar.  
B) 23 Nisan günü almışlar.  
C) Biz dünyaya gelmeden önce almışlar.

- 2) Meclis hangi tarihte kurulmuş?

A) 23 Nisan  
B) 19 Mayıs  
C) 29 Ekim

- 3) Hangisi metin için uygun bir başlık değildir?

A) 23 Nisan  
B) Çocuk Bayramı  
C) Okul Heyecanı

- 4) Metin ile ilgili verilen bilgilerden hangisi yanlıştır?

A) Metnin türü şiirdir.  
B) Şairi Melahat Uğurkan'dır.  
C) Şiir 12 dörtlükten oluşmuştur.

- 5) Aşağıdakilerden hangisi "bayram" kelimesinin çağrıştırdığı bir kelime değildir?

A) Coşku  
B) Keder  
C) Sevinç

6)	Genç	Yaşlı	İhtiyar
	Beyaz	..?..	..?..

Yukarıda soru işareti ile belirtilen kutucuklara sırası ile hangi sözcükler gelmelidir?

A) Ak Siyah

B) Siyah Kara

C) Kara Ak

7) Atatürk Ankara'ya geldi.

Yukarıdaki cümlede hangi sorunun cevabı yoktur?

A) Ne zaman?

B) Nereye?


C) Kim?

8) Hangi seçenekteki sözcükler sözlük sırasına göre sıralanmıştır?

A) Çocuk > Bayram > Birlik

B) Devlet > Coşku > Zafer

C) Meclis > Millet > Vatan

9)   
23 Nisan günü Atatürk( )ün önderliğinde meclis açılmış( )  
Bu günü Atatürk çocuklara bayram olarak hediye et( )miş( )

Yukarıdaki paragrafta yay ayraç ( ) ile belirtilen yerlere kaç farklı noktalama işareti yazılmalıdır?


A) 2


B) 3


C) 4

10) Hangi çocuğun kurduğu cümlede yazım yanlışı yapılmıştır?

A)  Atatürk ankara'ya gelmiş.

B)  Meclis 23 Nisan günü açılmış.

C)  O gün bayram olarak ilan edilmiş.



Yukarıdaki arı önce 5 kutu sağa, sonra 3 kutu yukarıya, daha sonra da 4 kutu sola uçarak çiçeklerden bal özleri toplamıştır.

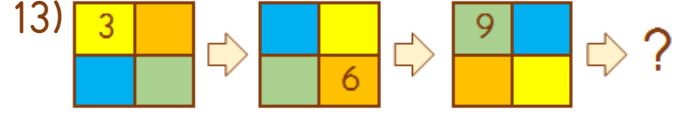
Arı sırası ile hangi çiçeklerden bal özleri toplamıştır?

- A) 
  |  |
- B) 
  |  |
- C) 
  |  |

12) AÇGKMOZ


Yukarıdaki harflerden sadece simetrik olanlar kullanılarak hangi sözcük yazılabilir?

- A) Koma B) Çam C) Koza



Yukarıda verilen örüntüye göre sıradaki şekil hangisi olmalıdır?

- A) 
 B) | C) |



Yukarıdaki kirazların sayısını bulmak için hangi işlem yapılmalıdır?

- A)  $4 + 2 =$   
 B)  $4 \times 2 =$   
 C)  $4 \div 2 =$

15) Bir otoparkta 8 otomobil ve 4 motosiklet vardır.



Otoparktaki araçlarda toplam kaç tane tekerlek vardır?

- A) 24 B) 32 C) 40

- 16) Melek'in defterine çizdiği üçgen ve karelerin köşe sayılarını toplamı 17'dir.



Melek defterine kaç tane üçgen ve kaç tane kare çizmiş olabilir?

- A) 2 üçgen, 3 kare  
B) 3 üçgen, 2 kare  
C) 4 üçgen, 1 kare
- 17)  $15 \div 5 = \blacktriangle$   $18 \div \blacktriangle = \blacksquare$

Yukarıda verilen işlemlere göre " $\blacksquare \div \blacktriangle$ " işleminin sonucu kaçtır?

- A) 2      B) 4      C) 6
- 18) Kümesteki tavukların ayak sayısı 14, tavşanların ayak sayısı 12'dir.



Buna göre kümesteki tavuk ve tavşan sayılarının toplamı kaçtır?

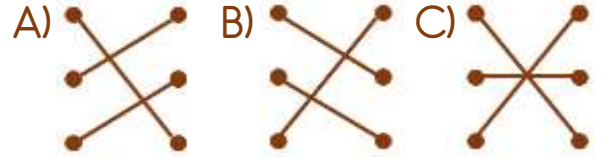
- A) 4      B) 7      C) 10

- 19) Yarısı ile çeyreğinin çarpımı kendisine eşit olan sayı hangisidir?

- A) 8      B) 12      C) 16

- 20) 4 bütün ●      ● 3 bütün  
6 yarım ●      ● 4 yarım  
8 çeyrek ●      ● 16 çeyrek

Yukarıda verilenler hangi seçenekte doğru bir şekilde eşleştirilmiştir?

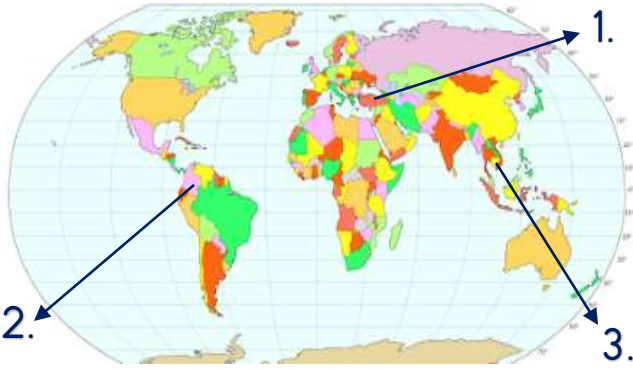


- 21) (...) Ülkemizin adı Türkiye'dir.  
 (...) Başkentimiz İstanbul'dur.  
 (...) Ülkemiz Asya kıtasındadır.

Ülkemiz ile ilgili verilen ifadelerden doğru olana "D", yanlış olana "Y" nasıl yazılmalıdır?

- A) (D)      B) (D)      C) (Y)  
 (Y)      (Y)      (D)  
 (Y)      (D)      (Y)

22)



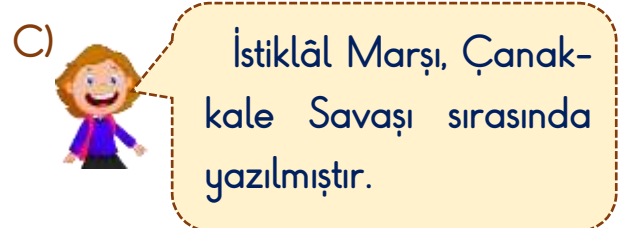
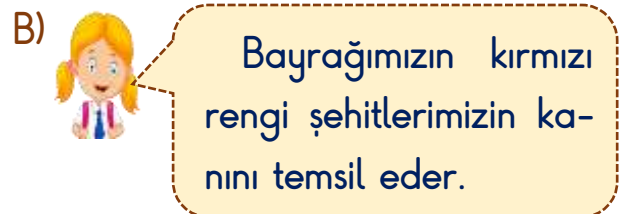
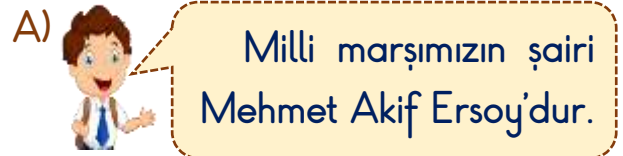
Yukarıdaki Dünya haritası üzerinde numaralandırılmış yerlerden hangisi ülkemizin yerini göstermektedir?

- A) 1.      B) 2.      C) 3.

- 23) Aşağıdakilerden hangisi bağımsızlık sembollerimizden biri değildir?



- 24) Aşağıdaki çocuklardan hangisinin verdiği bilgi yanlıştır?



- 25) ▲ Babasını kaybetti.  
■ Mahalle mektebine başladı.  
● Şemsi Efendi Mektebi'ne geçti.  
◆ Dayısının çiftliğine gitti.

Atatürk'ün hayatı ile ilgili verilen olayların oluş sırası hangi seçenekte verilmiştir?

- A) ■ - ▲ - ◆ - ●  
B) ▲ - ◆ - ● - ■  
C) ■ - ● - ▲ - ◆

- 26) Atatürk'e 'Kemal' ismini veren kişinin adı nedir?

- A) Ali Rıza Bey  
B) Mustafa Bey  
C) Kemal Bey

- 27) Aşağıdakilerden hangisi milli gün ve bayramlarda yapmış olduğumuz etkinliklerden biri değildir?

- A) Komşu ve akrabalarımızı ziyaret ederiz.  
B) Okullarda tören yaparız.  
C) Sınıflarımızı süsleriz.

28)

*Atam o gün Samsun'a,  
Bir vapurla çıkmış.  
Kurtuluş Savaşını,  
İşte o gün başlatmış.*

Atatürk, şiirde anlatılan günü kimlere bayram olarak armağan etmiştir?

- A) Gençlere  
B) Çocuklara  
C) Ordumuza

- 29) Aşağıdaki görsellerden hangisi dini bayramlarımız ile ilgili değildir?

- A)  B)  C) 

- 30) "Kesilen kurban ..... bölünür ve bir kısmı ....."

Kurban Bayramı ile ilgili verilen cümlede boş bırakılan yerlere sırası ile hangi kelime ve kelime grupları gelmelidir?

- A) dörde - komşulara verilir.  
B) üçe - hepsi dağıtılır.  
C) üçe - ihtiyaç sahiplerine dağıtılır.

## Cevap Anahtarı

1-C 2-A 3-C 4-C 5-B 6-B 7-A 8-C 9-B 10-A 11-A 12-A 13-C 14-B 15-C 16-B 17-A  
18-C 19-A 20-A 21-B 22-A 23-B 24-C 25-C 26-B 27-A 28-A 29-B 30-C