


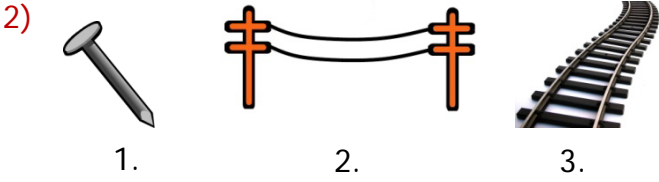


## Nokta, Doğru, Işın ve Açığı Tanıyalım


1) Aşağıdaki öğrencilerden hangisinin söylediği noktaya örnek olamaz?

- A)  Kalem ucunun deftere bıraktığı iz
- B)  Tebeşirin tahtaya bıraktığı iz
- C)  Boyacının duvarda yaptığı boya izi



Yukarıdakilerden hangisi ışın modelidir?

- A) 1. B) 2. C) 3.



Yukarıda verilen geometrik şekillerin toplam kaç açısı vardır?

- A) 12 B) 11 C) 10

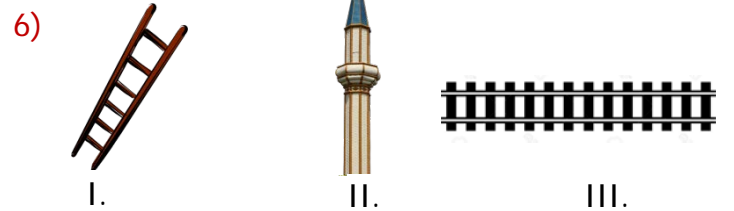
4) Aşağıda nokta ile ilgili verilen ifadelerden hangisi doğrudur?

- A) Noktanın belirli bir uzunluğu vardır.  
B) Noktayı isimlendirirken büyük harf kullanırız.  
C) Noktanın belirli bir büyüklüğü vardır.



Yukarıdakilerden hangisi doğru modelidir?

- A) 1. B) 2. C) 3.



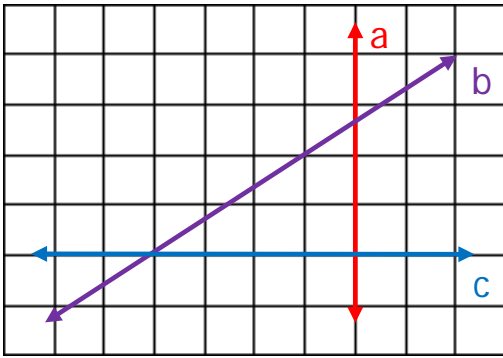
Yukarıdaki görsellerden hangisi yatay doğru modeli oluşturur?

- A) III. B) II. C) I.

7) Aşağıdaki harflerden hangisi açı modeli oluşturmaz?

- A) S B) C)

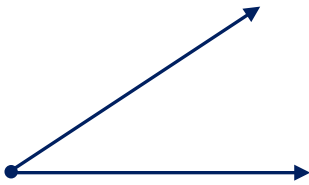
8)



Yukarıdaki hangi harfle gösterilen doğru eğik doğrudur?

- A) a B) b C) c

9)



I. Işınlardan oluşur.




II. Modeldeki nokta "A" ile isimlendirilir.

III. Modeldeki nokta "a" ile isimlendirilir.

Yukarıdaki açı modeline göre hangileri doğrudur?

- A) Yalnız I B) I ve II C) II ve III


10)

- 1 - Işın   
2 - Doğru   
3 - Açı 

Eşleştirmelerdeki yanlış düzeltmek için hangi numaralı kelimelerin yer değiştirmesi gerekir?

- A) 1 ve 3 B) 2 ve 3 C) 1 ve 2

11)



Yukarıda açısı olan harflerle oluşturulabilecek anlamlı kelime aşağıdakilerden hangisidir?

- A) Y L  
B) T L  
C) Y L

12)



Ahmet, görseldeki varlıklardan hangisi ile açı çizilebilir?

- A) I B) II C) III

## CEVAP ANAHTARI

- |       |       |
|-------|-------|
| 1) C  | 11) B |
| 2) A  | 12) A |
| 3) B  | 13)   |
| 4) B  | 14)   |
| 5) C  | 15)   |
| 6) A  | 16)   |
| 7) A  | 17)   |
| 8) B  | 18)   |
| 9) B  | 19)   |
| 10) C | 20)   |