



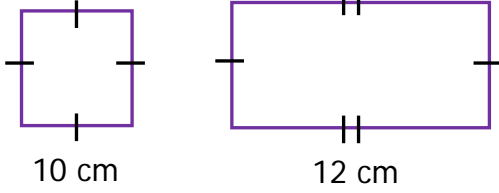
Adı Soyadı :

Numarası :

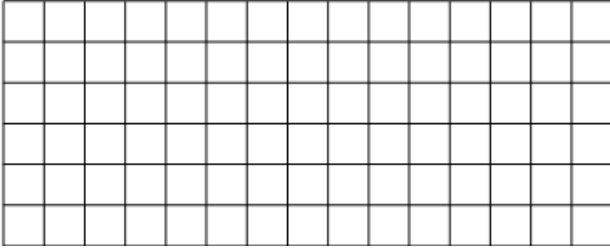
Konu: Çevre Uzunlukları ile İlgili Problemler

Aşağıdaki problemleri dikkatlice okuyalım ve cevaplayalım.


1)



Yukarıdaki kare ve dikdörtgenin çevre uzunlukları birbirine eşittir. Buna göre dikdörtgenin kısa kenarı kaç santimetredir?




2) Çevre uzunluğu 240 m olan dikdörtgen şeklindeki bahçenin uzun kenarı, kısa kenarının 3 katıdır. Buna göre bahçenin kısa kenarı kaç cm'dir?



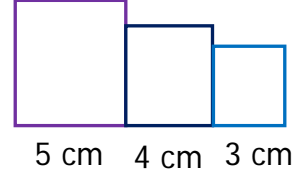
3)




Yukarıdaki kare ve üçgenin çevre uzunlukları eşittir. Buna göre üçgenin verilmeyen kenar uzunluğu kaç santimetredir?




4)



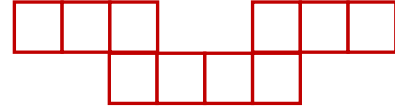
Yukarıdaki şekil eş dikdörtgenlerden oluştuğuna göre şeklin çevresi kaç cm'dir?




5) Kısa kenarı, uzun kenarının yarısı kadar olan bir dikdörtgenin çevresi 48 cm'dir. Bu dikdörtgenin uzun kenarı kaç cm'dir?



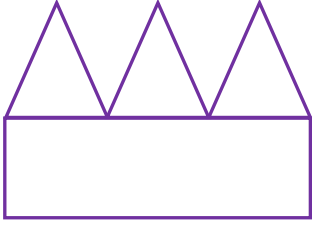
6)




Yukarıdaki şekil eş karelerden oluşmuştur. Karelerden her birinin bir kenar uzunluğu 3 cm olduğuna göre şeklin çevresi kaç cm'dir?



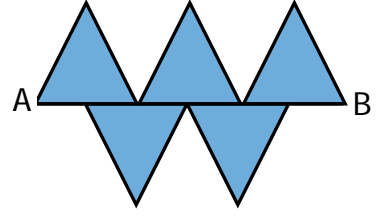
7)




Yukarıdaki şekil bir dikdörtgen ve üç eşkenar üçgen oluşmaktadır. Dikdörtgenin uzun kenarı kısa kenarının iki katıdır ve çevresi 72 cm'dir. Buna göre eşkenar üçgenlerden birinin çevresi kaç cm'dir?




10)




Yukarıdaki şekil eş kenar üçgenlerden oluşmaktadır. AB uzunluğu 18 cm'dir. Buna göre boyalı kısmın çevresi kaç santimetredir?



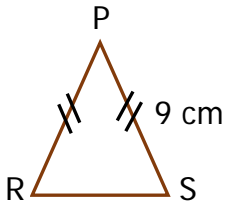
8) Bir kenar uzunluğu 27 cm olan kare şeklindeki bahçenin etrafına 4 sıra tel çekildi. Telin 1 metresinin fiyatı 9 TL olduğuna göre, 4 sıra telin fiyatı kaç TL'dir?




11) Bir kenar uzunluğu 15 cm olan eş karelerden 5 tanesi yan yana birleştirilerek bir dikdörtgen oluşturuluyor. Buna göre, oluşan dikdörtgenin çevresi kaç cm'dir?



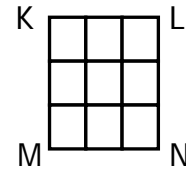
9)



Yukarıdaki PRS ikizkenar üçgenin çevresi 26 cm'dir. Buna RS kenarının uzunluğu kaç cm'dir?



12)



KLMN karesinin içerisine kenar uzunlukları birbirine eşit 9 tane kare yerleştirilmiştir. Her bir küçük karenin çevresi 12 cm olduğuna göre KLMN karesinin çevresi kaç cm'dir?

