




1)



Tanıma göre aşağıdaki çevrelerden hangisi **doğal çevreye** örnek verilebilir?

- A) barajlar B) mağaralar
C) hayvanat bahçesi

2)

	Hava, su ve toprak kirliliği çok görülür.
	Kendini yenileyebilme özelliğine sahiptir.
	İnsanlara, makinelere ve binalara çok rastlanır.

Her biri meyve ile eşleştirilen ifadelerden hangisi **doğal çevrenin** özelliğidir?

- A) portakal B) elma C) armut

3) **Ormanlar** doğal çevrenin en değerli alanlarıdır. Buna göre aşağıdakilerden hangisi **ormanların** faydalarından değildir?

- A) Çeşitli hayvanların barındığı yerdir.
B) İhtiyaç duyduğumuz oksijeni üretir.
C) Toprak kaymasına yardımcı olur.

4)



Aşağıdakilerden hangisi **ormanların** yok edilmesinin sonuçlarından biri değildir?

- A) Yağmur ve rüzgâr toprağın verimli kısmını aşındırır.
B) Oksijen üretimi artmaya başlar.
C) Birçok havyan barınmakta güçlük çeker.

5)



Geri dönüşüm; Kâğıt, şişe, plastik, metal gibi "**çöp**" değimiz atıkların, çeşitli işlemlerden geçirilerek tekrar kullanılabilir hale getirilmesidir.

Yukarıdaki **açıklamaya** göre, cümlelerden hangisi **geri dönüşümün** doğal çevreye faydalarından biridir?

- A) Enerji israfını artırır.
B) Hava ve çevre kirliliğini azaltır.
C) Ülke ekonomisine fayda sağlamaz.

6)



Aşağıdaki düşüncelerden hangisi çevreyi koruyan, **bilinçli** bir insan düşüncesi değildir?

- A) Doğalgaz yerine kömür tüketilmelidir.
B) Suyun kirlenmesiyle toprak da kirlenir.
C) Fabrika atıkları sulara akıtılmamalıdır.

7)



Yukarıdaki **kirliliğin** önüne geçmek için ne yapılmalıdır?

- A) Temiz enerji kaynağı kullanılmamalıdır.
- B) Fabrikalar ormanların içine yapılmalıdır.
- C) Fabrika bacalarına filtre takılmalıdır.

8)



Doğal çevreyi korumak isteyen biri yukarıdaki soruya hangi cevap verir?

- A) Biten piller çöp kutusuna atılır.
- B) Geri dönüşüm kutusuna atılmalıdır.
- C) Biten piller toprağa gömülür.

9)



Vaşakların yeryüzündeki sayıları her geçen sene azalmaya devam etmektedir.

Aşağıdaki olaylardan hangileri **vaşak** sayısının azalmasına yol açan sebeplerden değildir?

- A) Ormanların sık ağaçlı olması
- B) Kötü insanların yasak avlanmaları
- C) Yaşam alanlarının yok edilmesi

10)



Yukarıdaki resimde oluşan kirliliğin sebebi **aşağıdakilerden** hangisidir?

- A) Sel sularının çöp oluşturmasıdır.
- B) İnsanların bilinçsiz hareketleridir.
- C) Hayvanların düşünemiyor olmasıdır.

11) **I.** Arabaların periyodik olarak egzoz muayenesi yapılmalıdır.

II. Piknik alanları temiz bırakılmalıdır.

III. Evlerde oluşan atık yağlar lavaboya dökülmelidir.

Yukarıdaki **bilgilerden** hangileri doğrudur?

- A) **I** ve **II**
- B) **II** ve **III**
- C) **I**, **II** ve **III**

12)



Aşağıdaki ifadelerden hangisi, yukarıdaki **hava kirliliğini** önlemek için alınabilecek önlemlerdendir?

- A) Kısa mesafeler için araba kullanmak
- B) Arabaların egzoz borularını tıkamak
- C) Toplu taşıma araçlarına yönelmek

CEVAP ANAHTARI

- 1) B
- 2) A
- 3) C
- 4) B
- 5) B
- 6) A
- 7) C
- 8) B
- 9) A
- 10) B
- 11) A
- 12) C