

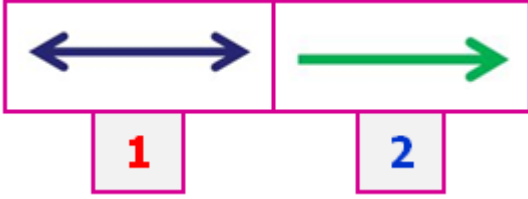
1)

Her iki uçtan istenildiği kadar uzatılabilen, başlangıcı ve bitişi olmayan çizgi modellerine denir.

Yukarıdaki tanımda **noktalı alana** aşağıdakilerden hangisi gelmelidir?

- A) ışın B) doğru
C) doğru parçası


2)



Yukarıdaki **geometrik** gösterimlerle ilgili aşağıdakilerden hangisi **yanlış** değildir?

- A) 2 numaralı model ışın değildir.
B) 1 numaralı model doğru değildir.
C) Her ikisi de doğru parçası değildir.

3)



Yukarıdaki varlıklardan kaç tanesi **ışın** modelidir?

- A) 3 B) 2 C) 1

4)



Doğrular her iki yönde sınırsız uzarlar.



Işınlar her iki yönde de uzayamaz.

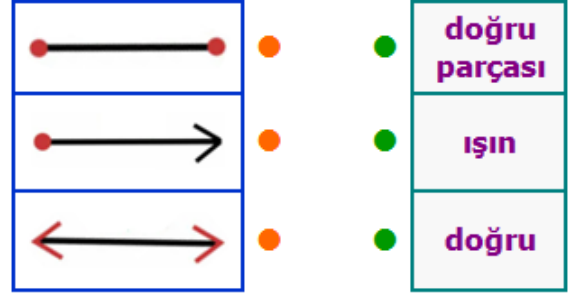


Aynı noktadan çıkan iki ışın birleşerek açı oluşturur.

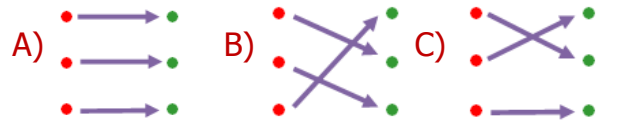
Her biri bir **hayvan** ile eşleşen ifadelerden hangisi doğru değildir?

- A) aslan B) kurbağa C) zürafa

5)



Yukarıdaki modellerle isimleri eşleştirilirse ortaya nasıl bir **görüntü** çıkar?

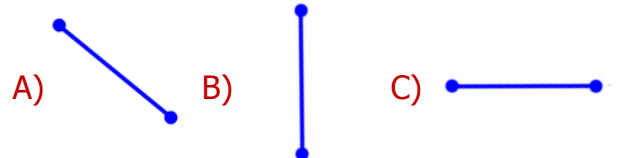


6)



Yatay doğru parçası nasıl çizilir?

Yukarıdaki sorunun doğru cevabı şıklardan **hangisindedir**?



7) **H N E**

Yukarıdaki **harflerden** hangisi hem dikey hem de yatay doğru parçasından oluşmaz?

- A) H B) E C) N

8)

Parmaklar arasındaki açıklık açısı oluşturamaz.	
Saatteki akrep ve yelkovan açısı oluşturabilir.	
Karenin dört köşesi olduğu için dört açısı vardır.	

Yukarıdaki cümlelerden doğru olanlara **D**, yanlış olanlara **Y** yazarsak nasıl bir görüntü oluşur?

- A)

D
D
Y

 B)

Y
D
D

 C)

Y
Y
D



Yukarıdaki şekillerden kaç tanesinde **açı** bulunmamaktadır?

- A) 2 B) 1 C) 3

10)

Ayşe: C ve U harflerinin açıları vardır.

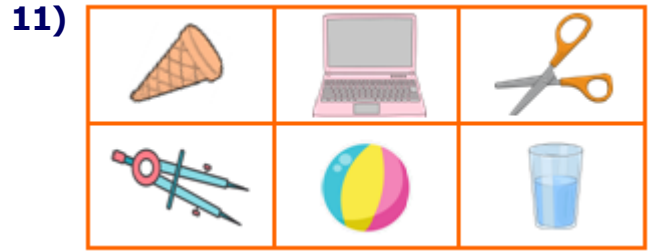
Veli: F ve Z harflerinin açıları yoktur.

Oya: O ve D harflerinin açıları yoktur.

Baki: M ve T harflerinin açıları vardır.

Açılar ile ilgili yukarıdaki **kişilerden** hangilerinin ifadeleri doğrudur?

- A) Baki ve Oya
B) Veli ve Ayşe
C) Oya ve Veli



Yukarıdaki **cisimlerden**, açı örneği olanları boyarsak nasıl bir görüntü oluşur?

- A)

■	■	■
■	■	■

 B)

■	■	■
■	■	■
- C)

■	■	■
■	■	■

12)

Cami minaresi aşağıdaki modellerden hangisinin **örneğidir**?

- A) yatay B) ışın C) doğru

CEVAP ANAHTARI

- 1) B
- 2) C
- 3) A
- 4) B
- 5) A
- 6) C
- 7) C
- 8) B
- 9) A
- 10) A
- 11) C
- 12) B