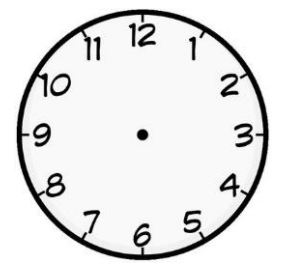
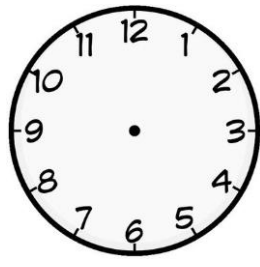




## ZAMANI ÖLÇME

1. Etkinlik : Aşağıdaki saatleri okuyup altına yazalım. Yanındaki saate çeyrek saat (15 dakika) sonrasını gösterelim ve okuyup yazalım.



2. Etkinlik : Aşağıdaki saatleri okuyup altına yazalım. Yanındaki saate çeyrek saat (15 dakika) öncesini gösterelim ve okuyup yazalım.

