



ZIT ANLAMLI KELİMELER

* Aşağıda verilen kelimelerin zıt anlamlılarını bulup altına yazalım. Sonra her ikisini de cümle içerisinde kullanalım.

Kelime	Cümleler
yeni
.....
soru
.....
şişman
.....
kapalı
.....
ıslak
.....
genç
.....
pahalı
.....
ağır
.....
acı
.....
kuru
.....



NOKTALAMA İŞARETLERİ

* Aşağıdaki cümleler belirtilen yerlere doğru noktalama işaretlerini koyalım.



Hasan () Melih () Ercan ve Yavuz parkta oynuyorlar ()



Yaşasın () Kaybolan kedimiz bulundu ()



Arkadaşların bize gelecek mi ()



Annem tabağa elma () armut ve muz koydu ()



Tatilde Nevşehir () Konya () Niğde ve Mersin'e gittik ()



Eyvah () annemi aramayı unuttum ()



Dün sahura kim kaldırdı seni ()



Ablam çatal () kaşık ve bıçakları yıkadı ()



Zavallı kedi () Çok acıkmış ()



Defterimi () kitabımı () kalemliğimi çantama koydum ()



Rana () annesine yardım etti mi ()



Salı () çarşamba () perşembe günleri yüzme kursuna gidiyor ()



Sarı () kırmızı ve mavi renkli boyalarımı evde unutmuşum ()



Of () yine çok ödevim var ()





FARKLI KÜLTÜRLER

1. Etkinlik: Aşağıdaki ifadelerden doğru olanlara "D.", yanlış olanlara "Y." yazalım.

- 1.) (....) Ülkemizde farklı kültürlerden insanlar bir arada yaşarlar.
- 2.) (....) İnsanların yaşadıkları yerleri bırakarak başka yerlere gitmelerine göç denir.
- 3.) (....) İstenildiği zaman , istenilen bir ülkeye göç edilebilir.
- 4.) (....) İnsanlar dil öğrenmek ve eğitim için başka bir ülkeye göç edebilirler .
- 5.) (....) Ülkemizde yaşayan farklı kültürlerdeki insanlar kültürlerini değiştirmek zorundadırlar.
- 6.) (....) Ülkemize zorunlu göç eden insanlar hiçbir zorlukla karşılaşmazlar
- 7.) (....) Savaş , doğal afetler ve açlık gibi nedenler isteğe bağlı göç nedenleridir.
- 8.) (....) Bir arada yaşamak için farklılıklara saygı göstermeliyiz.
- 9.) (....) Ülkemize göç eden insanlara yardım etmeliyiz.

2. Etkinlik: Aşağıdaki resimdeki insanların göç etme nedenleri nelerdir? Göç eden bu insanların ülkemizde karşılaştıkları sıkıntılar nelerdir?



.....

.....

.....

.....


.....

.....

YAKIN ÇEVREMİZDE ÜRETİM

1. Etkinlik: Aşağıdaki faaliyetlerle görselleri rakamları kullanarak eşleştirelim.

1	Büyük baş hayvancılık	2	Mobilyacılık	3	Tavukçuluk
4	Arıcılık	5	Halıcılık	6	Tarım
7	Madencilik	8	Balıkçılık	9	Küçük baş hayvancılık



2. Etkinlik: Aşağıdaki bulmacada yurdumuzda üretimi yapılan ürünler verilmiştir. Bu ürünleri resimlerden faydalanarak bulalım ve boyayalım.

E	B	Ü	Z	Ü	M	İ	K	S
M	A	R	K	T	I	A	U	B
O	Ö	F	H	İ	A	K	M	S
B	E	Ç	A	Y	R	İ	A	T
İ	G	Z	V	E	A	L	Ş	O
L	E	Ö	L	R	S	İ	N	Z
Y	I	C	U	Y	Z	M	Ç	U
A	R	A	B	A	D	S	Ö	L
F	E	Y	I	Ü	C	V	B	O
T	Y	A	F	I	N	D	I	K
P	E	O	M	E	P	Z	O	U
S	R	İ	N	C	İ	R	Ö	M



SAATİ OKUYALIM

1.Etkinlik : Aşağıdaki saatlerin kaç gösterdiğini örnekteki gibi yapalım. (Hepsi de öğleden önce)



Saat 02.00

Saat

Saat


Saat

Saat iki

Saat

Saat

Saat



Saat

Saat

Saat

Saat

Saat

Saat

Saat

Saat



Saat

Saat

Saat

Saat

Saat

Saat

Saat

Saat



Saat

Saat

Saat

Saat

Saat

Saat

Saat

Saat

SAATİ OKUYALIM

1.Etkinlik : Aşağıdaki saatlerin kaç gösterdiğini örnekteki gibi yapalım. (Hepsi de öğleden sonra)



Saat 15.00

Saat

Saat

Saat

Saat üç

Saat

Saat

Saat



Saat

Saat

Saat

Saat

Saat

Saat

Saat

Saat



Saat

Saat

Saat

Saat

Saat

Saat

Saat

Saat



Saat

Saat

Saat

Saat

Saat


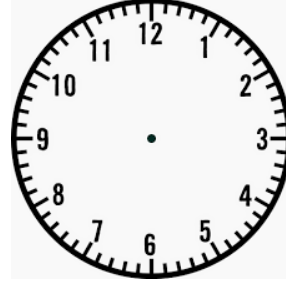


Saat

Saat

Saat

SAATİ OKUYALIM

1.Etkinlik : Aşağıdaki saatlere, belirtilen zamanı gösterecek şekilde akrep ve yelkovan çizelim.


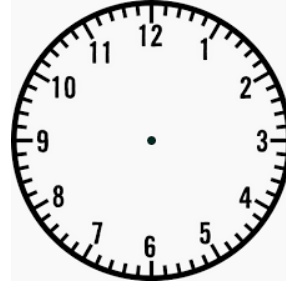
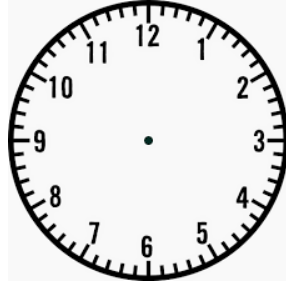



Saat 04.00

Saat 07.00

Saat 01.00

Saat 10.00


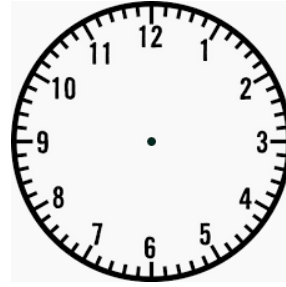
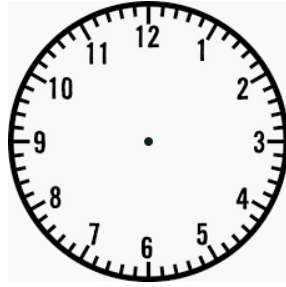



Saat 02.30

Saat 09.30

Saat 05.30

Saat 11.30


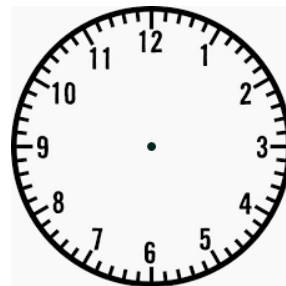
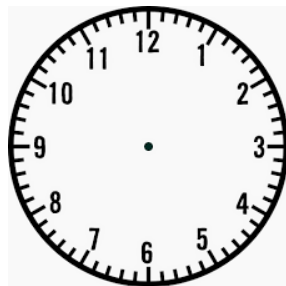



Saat 06.15

Saat 12.15

Saat 08.15

Saat 03.15



Saat 02.45


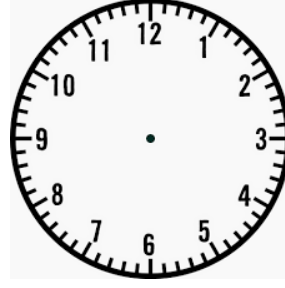


Saat 09.45

Saat 04.45

Saat 11.45

SAATİ OKUYALIM

1.Etkinlik : Aşağıdaki saatlere, belirtilen zamanı gösterecek şekilde akrep ve yelkovan çizelim.


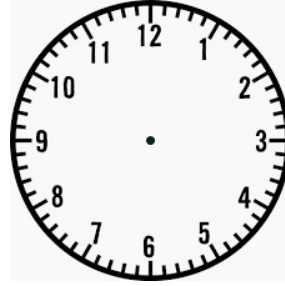
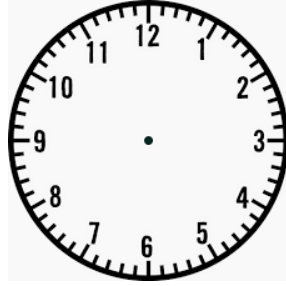



Saat 19.00

Saat 15.00

Saat 21.00

Saat 13.00


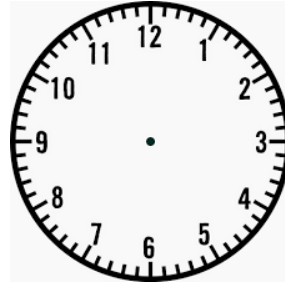
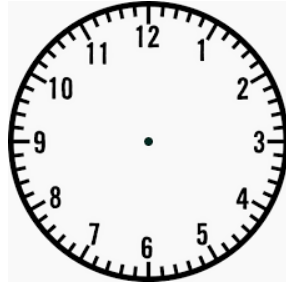



Saat 23.30

Saat 16.30

Saat 20.30

Saat 17.30


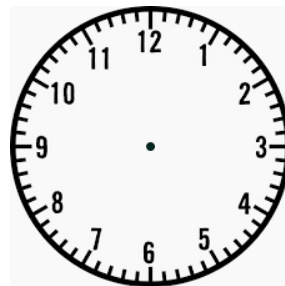
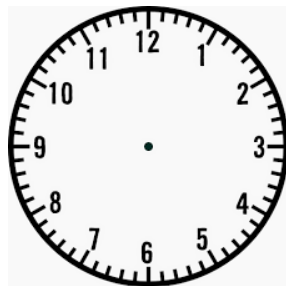



Saat 14.15

Saat 20.15

Saat 22.15

Saat 18.15



Saat 17.45

Saat 21.45

Saat 15.45

Saat 13.45

SAATİ OKUYALIM

1.Etkinlik : Dijital saatlerde gösterilen zamanı analog saatlerle örnekteki gibi eşleştirelim.

13:00

1

14:15

2

19:00

3

20:15

4

17:45

5

18:30

6

21:30

7

15:15

8

14:45

9

23:00

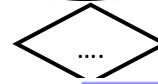
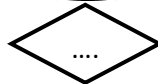
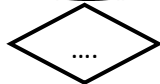
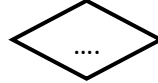
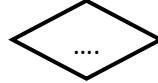
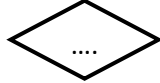
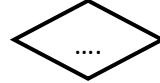
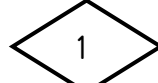
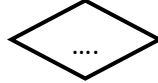
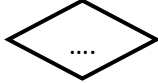

10

22:45

11



16:00

12

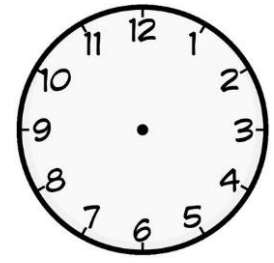



ZAMANI ÖLÇME

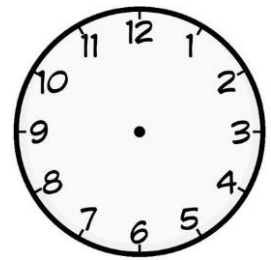
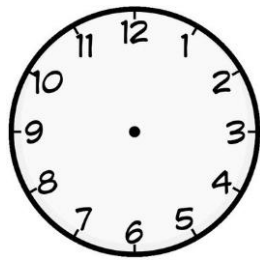
1. Etkinlik : Aşağıdaki saatleri okuyup altına yazalım. Yanındaki saate 2 saat sonrası gösterelim ve okuyup yazalım.



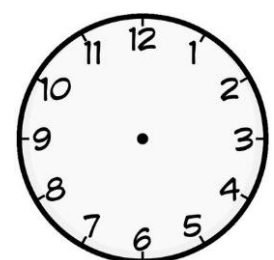
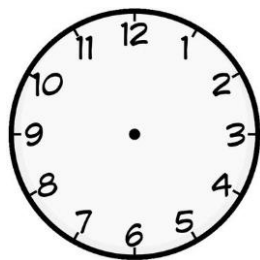
2. Etkinlik : Aşağıdaki saatleri okuyup altına yazalım. Yanındaki saate 3 saat sonrası gösterelim ve okuyup yazalım.



3. Etkinlik : Aşağıdaki saatleri okuyup altına yazalım. Yanındaki saate 2 saat öncesini gösterelim ve okuyup yazalım.

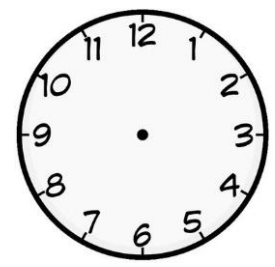
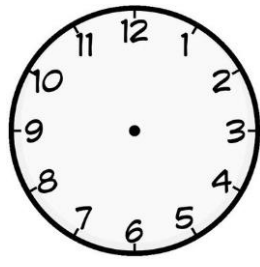

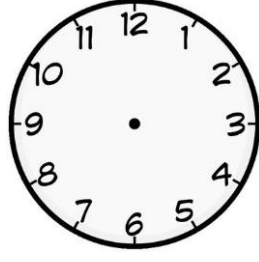


4. Etkinlik : Aşağıdaki saatleri okuyup altına yazalım. Yanındaki saate 3 saat öncesini gösterelim ve okuyup yazalım.

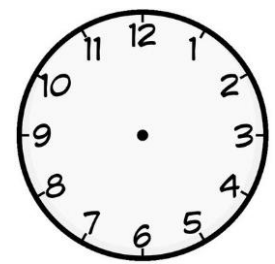
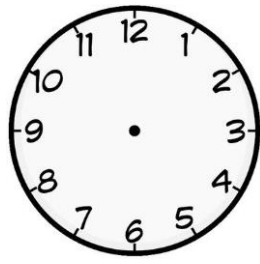
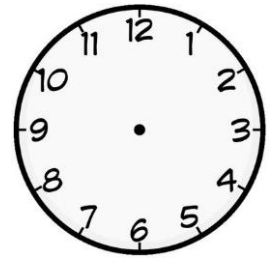
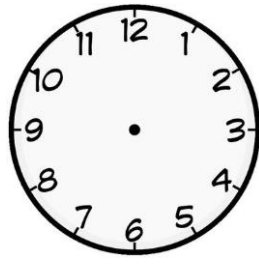


ZAMANI ÖLÇME

1. Etkinlik : Aşağıdaki saatleri okuyup altına yazalım. Yanındaki saate yarım saat sonrasını gösterelim ve okuyup yazalım.

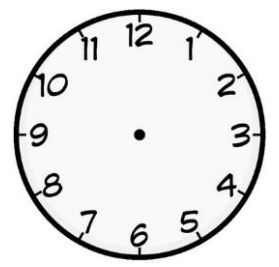
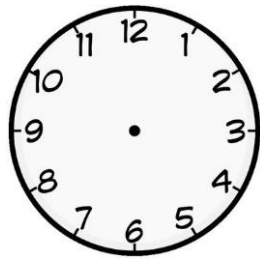




2. Etkinlik : Aşağıdaki saatleri okuyup altına yazalım. Yanındaki saate yarım saat öncesini gösterelim ve okuyup yazalım.



ZAMANI ÖLÇME

1. Etkinlik : Aşağıdaki saatleri okuyup altına yazalım. Yanındaki saate çeyrek saat (15 dakika) sonrasını gösterelim ve okuyup yazalım.



2. Etkinlik : Aşağıdaki saatleri okuyup altına yazalım. Yanındaki saate çeyrek saat (15 dakika) öncesini gösterelim ve okuyup yazalım.

