



CÜMLEDE ZAMAN

☘ Aşağıdaki cümlelerdeki iş , oluş ve hareketin gerçekleştiği zamanı inceleyelim. Sonra yapılacak veya gerçekleşecek olanları işaretleyelim.

Selin odasında kitap okuyacak.

Babam yarın hastaneye gidecek.

Ozan törende şiir okudu.

Gaye tahtayı siliyor.

Annem bahçede çilek topluyor.

Ablam bize kek yapacak.

Arkadaşlarım bize gelecek.

Sude saçını tarıyor.

Arda ve arkadaşları futbol oynayacaklar.

Kerem sitenin havuzunda yüzecek.

Bu yaz tatile gideceğiz.

Dün misafirler geç saatlere kadar oturdu.

Dedem bize güzel bir masal anlattı.

Rana kuruyan elbiseleri katlayacak.

Babamla birlikte kutuları eve taşıyacağız.





GERÇEK VE HAYAL ÜRÜNÜ İFADELER

☘ Aşağıdaki cümlelerde gerçek ifadeler "G" harfi , hayal ürünü ifadeler "H" harfi yazalım.

Balkona üç tane güvercin konmuş.

Anneme doğum gününde çiçek aldım.

Kuş sevinç içinde bir o yana bir bu yana uçuyordu.

Tilki kümese girmek için plan yapıyordu.

Bugün beş kasa elma topladık.

Çiçekler dedemin anlattığı masalı dinlediler.

Küçük çocuğun hikayesini dinleyen bulutlar ağlamaya başladı.

Kapana yakalanan fare yardım istiyordu.

Kedi büyük ağaca tırmandı.

Tuğçe balkondaki çiçekleri suladı.

Devler köylülerden yiyecek bir şeyler istediler.


Çocuk uçan halıya binip ormana doğru gitti.

Hasanlar tatil için hazırlık yapıyorlar.

Ay uyumam için bana masal anlattı.


Bir köylü pazarda yaptığı peynirleri satıyor.

Mert'in kalemi çok yorulmuştu.





ATATÜRK'ÜN KİŞİLİK ÖZELLİKLERİ

 Atatürk'ün kişisel özelliklerini işaretleyiniz.

Atatürk vatanını ve milletini severdi.

Atatürk çok çalışkandı.

Atatürk çocukları çok severdi.

Atatürk başkalarının fikrine önem verirdi.

Atatürk büyük bir liderdi.

Atatürk sadece kendi bildiklerini yapardı.

Atatürk işlerinde çok sabırsızdı.

Atatürk işlerini planlayarak yapardı.

Atatürk Türk milletinden başka milletleri sevmezdi.

Atatürk güçlükler karşısında çabuk pes ederdi.



Mustafa Kemal Atatürk düşman ordusunu İstanbul'da görünce "Geldikleri gibi giderler." demiş.

Yukarıda Atatürk'ün söylediği bu sözle hangi kişisel özellikleri ortaya çıkmaktadır? Yazalım.



DOĞAL ÇEVRE NASIL KORUNABİLİR ?

Doğal çevreyi korumak adına resimlerde doğru davranışlara " doğru " , yanlış davranışlara " yanlış " yazalım.























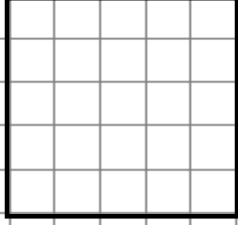


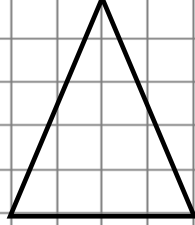


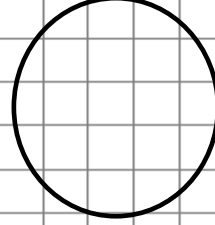
SİMETRİ DOĞRULARINI BELİRLEYELİM

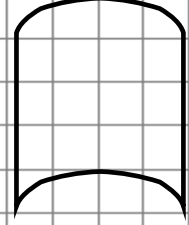


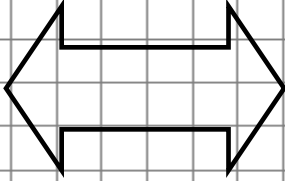
Aşağıdaki şekillere kaç tane simetri doğrusu çizilebilir? Tablodan sayılarla eşleştirelim.

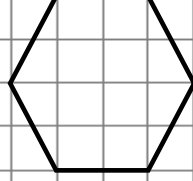











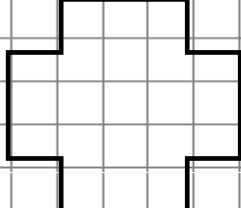


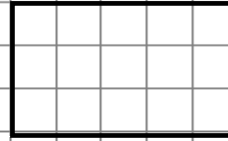


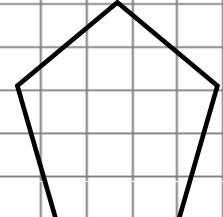


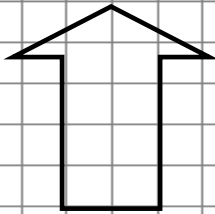


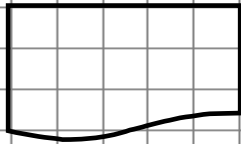


















A	B	C	Ç	D	E	F	G
0	1	6	4	5	1	0	2
Ğ	H	I	İ	J	K	L	M
sayısız	0	1	2	4	1	2	1



UZUNLUKLARI ÖLÇELİM

★ Aşağıdaki şekilleri simetri doğrularına göre tamamlayınız.



Karış = 15 cm

Kulaç = 100 cm

Ayak = 18 cm

Parmak = 1 cm

Adım = 60 cm

Taner yatağını 2 kulaç ve 1 karış olarak ölçmüş. Buna göre yatağın boyu kaç cm'dir?

Taner odasının genişliğini 6 adım ölçmüş. Buna göre odanın genişliği kaç cm'dir?

Taner kapının genişliğini 5 ayak ölçmüş. Buna göre kapının genişliği kaç cm'dir?

Taner masasının boyunu 6 karış ve 4 parmak olarak ölçmüş. Buna göre masanın boyu kaç cm'dir?

Taner kitabın 1 karış ve 7 parmak olarak ölçmüş. Buna göre kitabın boyu kaç cm'dir?

Taner halının boyunu 4 adım ve 2 ayak olarak ölçmüş. Buna göre halının boyu kaç cm'dir?

Taner sınıftaki tahtanın uzunluğunu 3 kulaç ve 4 karış ölçmüş. Buna göre tahtanın uzunluğu kaç cm'dir?

Taner evlerinin koridorunu 10 adım ve 3 ayak olarak ölçmüş. Buna göre koridorun boyu kaç cm'dir?



UZUNLUKLARI ÖLÇELİM



Aşağıdaki şekilleri simetri doğrularına göre tamamlayınız.



Kalem = 15 cm



Silgi = 7 cm



Sopa = 80 cm



Kurdele = 200 cm



Kitap = 27 cm

Pınar sırasının boyunu 3 kitap ve 1 silgi olarak ölçmüş. Buna göre sırasını boyu kaç cm'dir?

Pınar okulun koridorunu 15 kurdele olarak ölçmüş. Buna göre koridorun uzunluğu kaç cm'dir?

Pınar resim çantasının uzunluğunu 4 kalem ölçmüş. Buna göre resim çantasının uzunluğu kaç cm'dir?

Pınar balkonun boyunu 6 sopa ve 2 kitap olarak ölçmüş. Buna göre balkonun boyu kaç cm'dir?

Pınar kitaplığının genişliğini 3 kitap ve 3 silgi olarak ölçmüş. Buna göre kitaplığın genişliği kaç cm'dir?

Pınar bahçedeki iki ağacın arasını 3 kurdele ve 2 sopa olarak ölçmüş. Buna göre iki ağacın arası kaç cm'dir?

Pınar pantolonunun boyunu 6 kalem ve 2 silgi olarak ölçmüş. Buna göre pantolonun boyu kaç cm'dir?

Pınar televizyonun boyunu 5 kalem ve 3 silgi olarak ölçmüş. Buna göre televizyonun boyu kaç cm'dir?