

1) Aşağıdakilerden hangisi yanlıştır?

- A) Ormanlar birçok hayvanın ve bitkinin yaşam alanıdır.
- B) Kesilen ağaçların yerine yenilerini dikmemiz gerekir.
- C) Hayvanlar doğanın bir parçası değildir.

2) Aşağıdakilerden hangisi sokak hayvanları için yapılması gereken bir davranış değildir?

- A) Sokak hayvanlarının beslenmelerine yardımcı olmak.
- B) Sokak hayvanlarını görmezden gelmek.
- C) Sokak hayvanlarının barınmalarına yardımcı olmak.

3) Aşağıdaki hayvanlardan hangisinin insanlar tarafından bakımı ve beslenmesi mümkündür?



A)



B)



C)

- 4) ■ saksı
● tohum
▲ toprak

Yukarıdakilerden hangisi bitki yetiştirmek için gerekli değildir?

- A) ▲ B) ■ C) ●

5) Aşağıdakilerden hangisi bitkilerin yararlarından değildir?

- A) Havayı temizlemek.
- B) Doğayı güzelleştirmek.
- C) Suyu kirletmek.

6) Aşağıdakilerden hangisi yanlıştır?

- A) Bitkiler besin kaynağımızdır.
- B) Bitkiler doğayı kirletir.
- C) Meyve ve sebzeleri bitkilerden sağlarız.

7) Aşağıdaki hayvanlardan hangisi evcilleştirilebilir?




- A) zürafa
- B) kurt
- C) kedi

8) Aşağıdakilerden hangisi doğaya katkı sağlar?


- A) ağaç dikmek
- B) piknik yapmak
- C) ormanda dolaşmak


9) Ormanlar hakkında aşağıdaki bilgilerden hangisi yanlıştır?

- A) Havayı temizler.
- B) Hayvanlara yaşam alanı sağlar.
- C) Suyu ve çevreyi kirletir.

- 10)  Beslenme ihtiyacımızı karşılar.
 Giyinme ihtiyacımızı karşılar
 Havayı temizler.

Yukarıdaki maddelerden hangisi sadece bitkilere ait bir özelliktir?

- A)  B)  C) 

- 11) 
 - ❖ tavuk
 - ❖ kedi
 - ❖ köpek Yanda verilen hayvanların ortak özelliği aşağıdakilerden hangisidir?

- A) ormanda yaşamaları
- B) evcil olmaları
- C) ot ile beslenmeleri

12) Aşağıdakilerden hangisi bitkileri korumak için yapılması gereken bir davranış değildir?

- A) sulama yapmak
- B) topraklarını havalandırmak
- C) yapraklarını koparmak

- 13)
 1. Dibine su dökülür.
 2. Fidan dik bir şekilde yerleştirilir.
 3. Toprak kazılarak bir çukur açılır.
 4. Çukurda kalan boşluklar doldurulur.

Yukarıda karışık olarak verilen fidan dikme aşamaları nasıl sıralanmalıdır?

- A) 3-2-4-1
- B) 1-4-2-3
- C) 4-2-1-3

- 14)
 - 1-Kurt-Vahşi hayvan
 - 2-Kedi-Evcil hayvan
 - 3-Koyun-Yabani hayvan

Yukarıdaki eşleştirmelerden hangisi yanlıştır?

- A) 1 B) 3 C) 2

15) Aşağıdakilerden hangisi hem hayvan hemde bitkiler için gereklidir?

- A) yem
- B) toprak
- C) su