

1)

Her gün 10 ₺ biriktirirsem 5 gün sonra istediğim oyuncak alabilirim.



Murat

Murat'ın ifadesine göre alacağı oyuncak kaç ₺ dir?

- A) 45 ₺      B) 40 ₺      C) 50 ₺

2)



Suna

Paramın 35 ₺ si ile anneme hediye aldım.

Geriyeye 10 ₺ si kaldığına göre Suna'nın ne kadar parası vardı?

- A) 45 ₺      B) 55 ₺      C) 50 ₺

3) Elif'in cüzdanında 3 tane 1 ₺, 2 tane 10 ₺, 3 tane de 5 ₺ si vardır. Elif'in toplam kaç ₺ parası vardır?

- A) 37 ₺      B) 38 ₺      C) 28 ₺

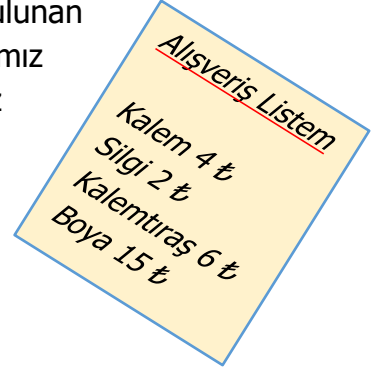
4) Yanda verilen kalemden 5 tane alırsam satıcıya kaç ₺ ödemem gerekir?



₺ 2

- A) 12 ₺      B) 8 ₺      C) 10 ₺

5) Yandaki listede bulunan malzemeleri almamız için kaç ₺ paramız olması gerekir?



- A) 27 ₺  
B) 25 ₺  
C) 20 ₺

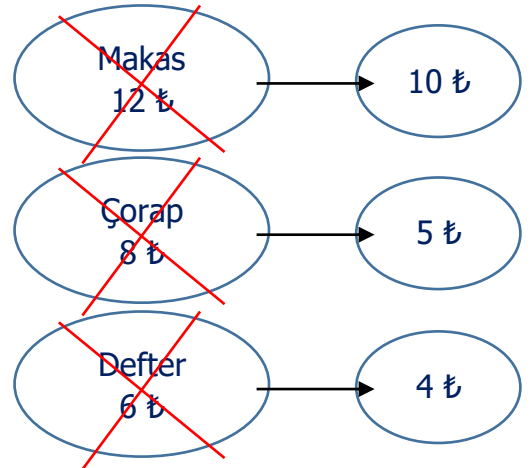
6) 

simit 50 kr	içecek 2 ₺	peynir 5 ₺
-------------	------------	------------

Zeynep'in 8 ₺ harçlığı vardır. Zeynep kantinden yukarıdaki malzemeleri aldığı zaman geriye ne kadar parası kalır?

- A) 1 ₺      B) 25 kr      C) 50 kr

7)



Yukarıdaki ürünlerde toplam ne kadar indirim yapılmıştır?

- A) 4 ₺      B) 7 ₺      C) 8 ₺

8) Tanesi 25 ₺ olan tişörtlerden 3 tane alırsam satıcıya kaç ₺ ödeme yapmam gerekir?

- A) 75 ₺      B) 80 ₺      C) 90 ₺



9)

₺12

₺10

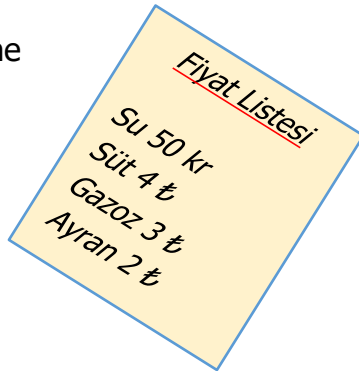
₺45

Yukarıda bazı ürünler ve fiyatları verilmiştir. Her üründe 5 ₺ indirim yapılırsa toplamda kaç ₺ ödeme yaparız?

- A) 52 ₺      B) 67 ₺      C) 62 ₺

10) Yandaki fiyat listesine göre en pahalı ürün hangisidir?

- A) su  
B) ayran  
C) süt



11)

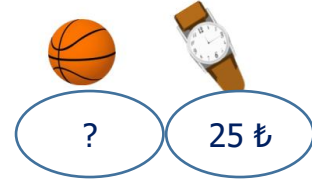


İstedğim kalemi almak için cebimdeki 8 ₺ yetmedi.

Annesi 5 ₺ verirse Deniz istediği kalemi alabiliyor. Buna göre kalem kaç ₺ dir?

- A) 10 ₺      B) 13 ₺      C) 15 ₺

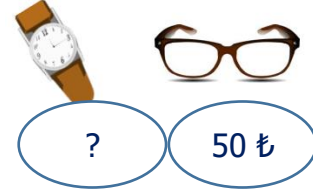
12)



Yukarıda verilen topun fiyatı saatin fiyatından 10 ₺ ucuzdur. Buna göre topun fiyatı kaç ₺ dir?

- A) 15 ₺      B) 13 ₺      C) 10 ₺

13)



Yukarıda verilen saat, gözlükten daha pahalı olduğuna göre saatin fiyatı hangisi olabilir?

- A) 40 ₺      B) 45 ₺      C) 60 ₺

14) Cebimdeki paranın önce 10 lirasını, daha sonra da 10 lirasını harcadım. Geriye 20 ₺ param kaldığına göre başlangıçta kaç ₺ param vardı?

- A) 40 ₺  
B) 50 ₺  
C) 60 ₺

15) Yandaki görsele göre hangisi doğrudur?



- A) Kalem ucuz, top pahalıdır.  
B) Kalem pahalı, top ucuzdur.  
C) İkisinin fiyatı 10 ₺ dir.