



Adı Soyadı :

Numarası :

Konu: Uzunlukları Ölçme (Standart Olmayan Ölçme Araçları) Etkinliği 3

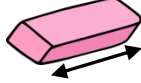
Aşağıdaki görsellerin uzunluklarını standart olmayan ölçme araçlarından hangileriyle ölçebileceğimizi kutulardaki noktalı yerlere örnekteki gibi yazınız.



İsmi: Parmak

Sayılar: .1,.....

1




2



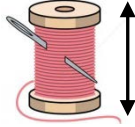
İsmi:

Sayılar:

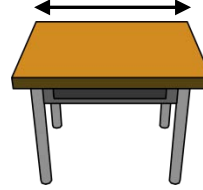
3



4



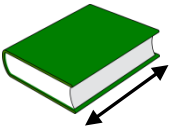
5



6



7




8



9



10



İsmi:

Sayılar:

11




12



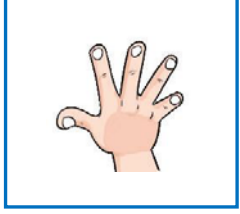
İsmi:

Sayılar:


Aşağıdaki standart olmayan ölçme araçlarının yaklaşık uzunlukları ile eşleştirelim.



15 cm



Yarım metre



Bir metre



4 cm



Aşağıda uzunluğu verilen resimlerde 1 metreden uzun olanları işaretleyiniz.



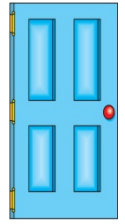
Ağacın yüksekliği



Sehpanın yüksekliği



Kaşığın boyu



Kapının yüksekliği



Cep telefonunun boyu



Apartmanın yüksekliği



Zürafanın boyu



Kovanın boyu

