



Kırda otlayan keçilerden biri otları beğenmeyerek sürüden ayrılmış. Kurdu bir keçi görmüş. "İşte ağızma layık bir lokma!" diye sevinmiş. Keçi kurdu görmüş. Başına gelecekleri anlayınca kurda seslenmiş: Kurt kardeş, anladım, isteğin beni yemek. Madem öleceğim, senden bir isteğim var. Şöyle biraz kaval çal da bari neşeli öleyim. Kurt bir kaval bularak çalmaya başlamış. O çaldıkça keçi oynamış. Kaval sesini duyan köpekler koşup gelmişler. Kurt kaçarken kendi kendine "Neyine gerek senin sazlı sözlü kurban, keçiye yiyeyim derken canından olacaktın." demiş.

(1, 2 ve 3. Soruyu metne göre cevaplayınız.)

- 1) Kırda otlayan keçilerden biri niçin sürüden ayrılmış?
 - A) Kırda dolaşmak istediği için
 - B) Diğer keçiler onu dışladığı için
 - C) Otları beğenmediği için

- 2) Keçi kurttan ne yapmasını istemiş?
 - A) Kendisine acımasını istemiş.
 - B) Kaval çalmasını istemiş.
 - C) Biraz ot toplamasını istemiş.
- 3) Kurt ile keçinin yanına koşarak kimler gelmiş?
 - A) Köylüler gelmiş.
 - B) Köpekler gelmiş.
 - C) Çobanlar gelmiş.
- 4) Aşağıdakilerden hangisi metnin başlığı olabilir?
 - A) Kurt ile Keçi
 - B) Yalancı Çoban
 - C) Kurt ile Köpek
- 5) Metnin konusu aşağıdakilerden hangisidir?
 - A) Sürüden ayrılan keçinin kendisini yemek isteyen kurttan kurtulması
 - B) Çobanın dikkatsizliği nedeniyle keçisini kırda kaybetmesi
 - C) Çoban köpeklerinin çok zeki ve çalışkan hayvanlar olması

- 6)

okulda

kitabımı

unuttum

bugün

Yukarıdaki sözcüklerle anlamlı ve kurallı bir cümle oluşturulduğunda hangi sözcük cümlenin sonunda yer alır?

- A) okulda B) unuttum C) bugün

- 7) "Ormanda çok çeşitli hayvanlar yaşar."

Yukarıdaki cümle ile ilgili verilen bilgilerden hangisi yanlıştır?

- A) Anlamlı ve kurallı bir cümledir.
B) Beş sözcükten oluşmuştur.
C) "Nerede?" sorusunun cevabı yoktur.

- 8) Elif()in tokası kayboldu() An() nesine sordu()

Yay araç () ile belirtilen yerlere sırası ile hangi noktalama işaretleri konmalıdır?

- A) (,) (.) (-) (?)
B) (') (.) (') (.)
C) (') (.) (-) (.)

- 9) **Mevsimler**
Bir yılda dört mevsim var,
En güzeli ilkbahar.
Çok sıcak mevsimdir yaz,
Meyvesi eksik olmaz.
Ali Osman ATAK

Yukarıdaki şiirde işaretli kelimeler ile ilgili verilen bilgilerden hangisi yanlıştır?

- A) ▲'in eş anlamlısı senedir.
B) İşaretli sözcüklerin hepsinin zıt anlamlısı vardır.
C) ☀'in zıt anlamlısı fazladır.



Yukarıdaki görselden hangi sonuca ulaşamaz?

- A) Görsel bir pazar yerine aittir.
B) Nasrettin Hoca satıcılık yapmaktadır.
C) Görsele göre mevsim kıştır.

11)

x	6	7	8	9	10
2					▲
3	☀	●			
4	◆				★
5				■	

Yukarıdaki işlem tablosuna göre aşağıdaki eşitliklerden hangisi yanlıştır?

- A) ■ - ● = ◆
 B) ☀ + ◆ = ■
 C) ▲ + ▲ = ★

- 12) Melisa hafta içi her gün; 3 saat canlı ders, 2 saat konu tekrarı ve 1 saat de okuma yapmaktadır.



Yukarıda verilen bilgiye göre Melisa için hangisi söylenemez?

- A) Melisa bir haftada 15 saat canlı ders yapmaktadır.
 B) Melisa iki haftada 20 saat konu tekrarı yapmaktadır.
 C) Melisa 3 günde 6 saat okuma yapmaktadır.

13) $15 \div 3 = \blacktriangle$ $20 \div \blacktriangle = \blacksquare$

Yukarıdaki bölme işlemlerine göre " $\blacktriangle \times \blacksquare = ?$ " işleminin sonucu kaçtır?

- A) 9 B) 20 C) 36

- 14) 18 elma ve 12 armudu üç çocuk eşit şekilde paylaşmıştır.

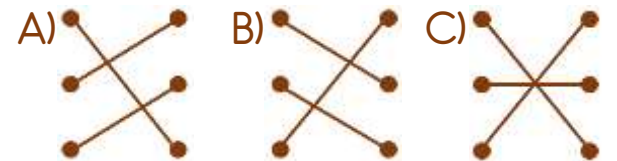


Paylaşım sonrası bir çocuğun kaç tane meyvesi olmuştur?

- A) 6 B) 10 C) 14

- 15) 3 bütün ● ● 2 bütün
 8 yarım ● ● 16 çeyrek
 8 çeyrek ● ● 6 yarım

Yukarıda verilenler hangi seçenekte doğru bir şekilde eşleştirilmiştir?

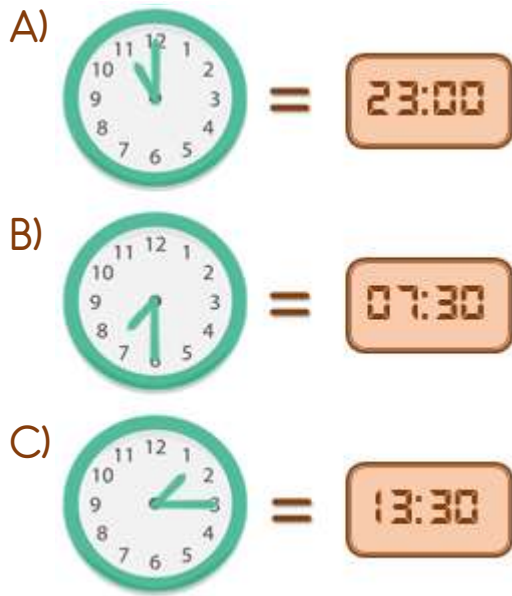


- 16) Zeynep'in doğum gününü partisine gelen arkadaşlarından her biri çeyrek pizza yi-yerek 4 pizzayı bitir-miştir.



Buna göre Zeynep'in doğum günü ile ilgili hangi ifade doğrudur?

- A) Doğum gününe 16 arkadaşı katılmıştır.
B) 3 arkadaşı 1 bütün pizza ye-miştir.
C) 2 pizzayı 4 arkadaşı ye-miştir.
- 17) Aşağıda verilen analog ve dijital saat eşleştirmelerinden hangisi yanlıştır?



18)



Yukarıdaki görselde verilen bilgilere göre otobüsün yolculuğu kaç saat sürmüştür?

- A) 6 B) 8 C) 10


19)



Yukarıdaki paraların miktarı hangisine eşittir?



20) Her gün 5 lira biriktiren Nehir, yandaki ayıcığı kaç günde alabilir?



- A) 3 B) 6 C) 8

21)



“Küçük yaşlarda kaybedince ve kız kardeşiyle birlikte çiftliğine gitmiştir.”

Yukarıdaki paragrafta boş bırakılan yerlere sırası ile hangi sözcükler gelmelidir?

- A) annesini-babası-amcasının
B) babasını-annesi-teyzesinin
C) babasını-annesi-dayısının

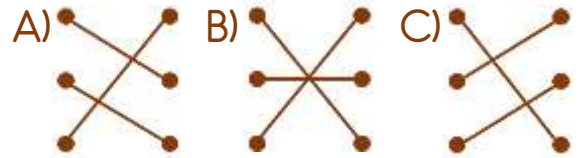
22) “Atatürk küçük yaşlarda arkadaşları ile oyun oynarken komutan olmuştur.”

Yukarıda anlatılan olaydan hangi sonuca ulaşabiliriz?

- A) Atatürk ailesini çok sever ve onlara değer vermiştir.
B) Atatürk büyüyünce asker olmak istiyormuş.
C) Atatürk çalışkan ve başarılı bir öğrenciymiş.

- 23) 15 Temmuz • Zafer Bayramı
30 Ağustos • Cumhuriyet Bayramı
29 Ekim • Milli Birlik ve Demokrasi Günü

Milli gün ve bayramlarımız kutlama tarihleri ile doğru bir şekilde nasıl eşleştirilmelidir?



24)

Çocuklar, 19 Mayıs deyince aklınıza ne geliyor?



Hangi çocuğun ifadesi Hasan öğretmenin söylediği gün ile ilgili değildir?

- A)  O gün Büyük Taarruz kazanılmıştır.
- B)  Atatürk o gün Samsun'a çıkmıştır.
- C)  Atatürk o günü gençlere armağan etmiştir.

- 25) ▲ Cumhuriyet Bayramı
■ Kurban Bayramı
● Ramazan Bayramı
◆ Zafer Bayramı

Yukarıdakilerden hangileri dini bayramlarımızdır?

- A) ■ ve ●
B) ▲ ve ◆
C) ● ve ◆

26)



Babamla birlikte bayram namazına gittik. Eve dönünce ailemle bayramlaştık. Evimizin bahçesinde kurban kestik. Kurbanın bir kısmını ihtiyaç sahiplerine dağıttık.

İbrahim hangi bayrama ait bir anısını anlatmaktadır?

- A) Ramazan Bayramı
B) Zafer Bayramı
C) Kurban Bayramı

27) Hangisi ülkemize ait yemeklerden biri değildir?



28) Kültürel miras öğelerimiz ile ilgili verilen bilgilerden hangisi doğrudur?

- A) Yöresel farklılıklar olmaz.
B) Şehirden şehire değişiklik göstermez.
C) Milletimizi bir arada tutar.

29) Farklı ülkelerden ülkemize göç etmiş insanlara nasıl davranmalıyız?

- A) Kesinlikle konuşmamalıyız.
B) Bize ihtiyaç duyduklarında yardımcı olmalıyız.
C) Arkadaşlık yapmamalıyız.

30) "Üretim faaliyetleri üçe ayrılır. Bunlar; tarım, sanayi ve hayvancılıktır."

Ülkemizde yapılan üretim faaliyetleri ile ilgili verilen bilgilerden hangisi doğrudur?

- A) Tarım ve hayvancılık daha çok şehir merkezlerinde yapılır.
B) Fabrika ve atölyeler genellikle köylerde bulunur.
C) Balıkçılık denize kıyısı olan şehirlerimizde yaygındır.

Cevap Anahtarı

1-C 2-B 3-B 4-A 5-A 6-B 7-C 8-C 9-B 10-C 11-B 12-C 13-B 14-B 15-C 16-A 17-C
18-B 19-A 20-B 21-C 22-B 23-C 24-A 25-A 26-C 27-B 28-C 29-B 30-C