

- 1) Yandaki defterden üç tane alan Celil, kırtasiyeye kaç lira ödemelidir?



- A) 21 TL B) 24 TL C) 28 TL

- 2) Miraç, 27 lira olan futbol topunu almak için satıcıya 50 lira vermiştir.



Miraç kaç lira para üstü almalıdır?

- A) 13 TL B) 23 TL C) 33 TL

3)



10 liraya kalemlik almak isteyen Ayşe'nin kumbarasından yukarıdaki paralar çıkmıştır.

Kalemlik almak için Ayşe'nin kaç liraya ihtiyacı vardır?

- A) 2 TL B) 3 TL C) 4 TL

- 4) Kumbarasına her gün 4 lira atan Ezel, yandaki çantayı kaç gün sonra alabilir?



- A) 9 B) 18 C) 21

- 5) Fadime 20 lira ile kantine giderek 6 liraya tost, 3 liraya meyve suyu almıştır.



Fadime'nin kaç lirası kalmıştır?




- A) 9 TL B) 11 TL C) 13 TL

6)



Kerem'in kumbarasından yukarıdaki paralar çıkmıştır.

Kerem'in paraları hangisini almak için ne eksik ne de fazladır?

- A)  B)  C) 
- 50 TL 90 TL 80 TL

7) Yandaki şekerden 6 tane alıp 5 lira veren İlayda kaç lira para üstü almalıdır?



- A) 50 kr. B) 1 TL C) 2 TL

8) Eymen'in 13, Melek'in 8 lirası vardır. İki arkadaş paralarını birleştirip 30 liraya bir oyuncak almak istiyor.



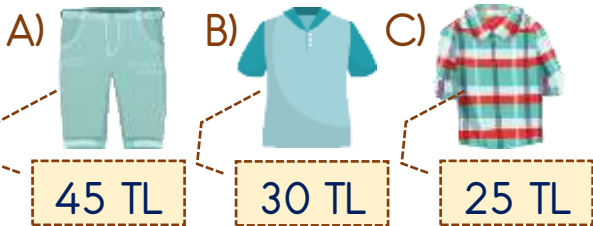
Eymen ile Melek'in oyuncacı almak için kaç liraya ihtiyaçları vardır?

- A) 6 TL B) 9 TL C) 12 TL

9)



Yukarıdaki para ile hangi kıyafetten tam iki tane alınabilir?



10)



Hafta içi her gün okulda 4 lira harcıyorum.

Pazartesi günü annesinden 20 lira harçlık alan Muhammed'in 3 gün sonra kaç lirası kalır?

- A) 8 TL B) 12 TL C) 16 TL

11) Melek dondurmacıdan 5 liralık dondurma ve 15 lira para üstü aldı.



Buna göre Melek dondurmanın parasını ödemek için dondurmacıya kaç lira vermiştir?

- A) 10 TL B) 20 TL C) 30 TL

12) Evimizde her gün 2 ekmek tüketiliyor.



Ekmeğin tanesi 2 TL olduğuna göre bir haftada aile bütçemizden kaç lira ekmeğe ödenmektedir?

- A) 14 TL B) 21 TL C) 28 TL

Cevap Anahtarı

1-A 2-B 3-C 4-A 5-B 6-C 7-C 8-B 9-A 10-A 11-B 12-C