




- 1) Evde, okulda, iş yerinde çeşitli amaçlarla **elektrikli araç gereçleri** kullanırız. Günlük yaşamda birçok işi **elektrikli araç gereçler** sayesinde daha kolay yaparız.

Aşağıdaki **araç gereçlerden** hangisi elektrikle çalışmaz?

- A) ütü B) çekici C) televizyon

	Günlük hayatta kullandığımız tüm araç gereçler elektrikle çalışır.
	Elektrikli araçlar işlerin yapılma sürelerini kısaltır.
	Elektrikli araçları sadece temizlik alanında kullanırız.

Her biri bir **meyve** ile eşleşen ifadelerden hangisi yanlış değildir?

- A)  B)  C) 

- 3) **Sağlık** **Ulaşım**  
**İletişim** **Eğitim**

Yukarıdakilerden kaç tanesi **elektriğin kullanım alanlarındandır**?

- A) 2 B) 3 C) 4






Her biri şekil ile eşleşen araç gereçlerden hangisinin **kullanım alanı** farklıdır?

- A)  B)  C) 






Hangi öğrencinin verdiği **her iki örnek** de öğretmenin isteğine uygundur?

- A)  B)  C) 

- 6) **Haberleşme** bir kişinin çeşitli durumlardan haber vermesi, çeşitli durumlar konusunda da başkasından haber almasıdır.

Aşağıdaki teknolojik ürünlerden hangisi **haberleşme** alanında kullanılmaz?

- A)  B)  C) 

7)	Evlerde temizlik amaçlı bazı ürünler elektrikle çalışır.	
	Elektrik enerjisi insanların hayatını kolaylaştırır.	
	Elektrikle çalışan ulaşım aracı yoktur.	

Yukarıdaki cümlelerden doğru olanlara **D**, yanlış olanlara **Y** yazarsak nasıl bir görüntü oluşur?

- A) 

Y
Y
D

      B) 

D
Y
Y

      C) 

Y
D
D

8)



**Buzdolabıyla** ilgili aşağıdaki bilgilerden hangisi doğru değildir?

- A) Buzdolabı sayesinde yiyeceklerimiz bozulur.  
B) Yiyecekleri soğutmaya yarayan bir eşyadır.  
C) Yiyecekleri sıcaklığın etkisinden korur.

9) Evde kullandığımız birçok **elektrikli** araç gereç bulunmaktadır. Aşağıdakilerden hangisi bu araç gereçlerden değildir?

- A) ot biçme makinesi      B) çamaşır makinesi      C) saç kurutma makinesi

10)



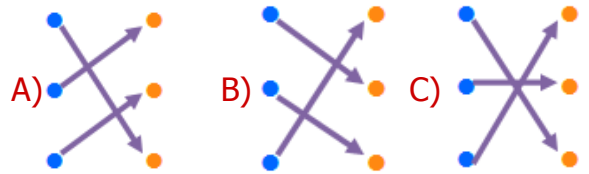
Yukarıdaki elektrikli araç gereçler hangi **alanla** ilgilidir?

- A) eğitim      B) temizlik      C) sağlık




11)

Lamba	●	●	Elektrik enerjisini hareket enerjisine dönüştürür.
Fırın	●	●	Elektrik enerjisini ışığa dönüştürür.
Vantilatör	●	●	Elektrik enerjisini ısı enerjisine dönüştürür.

Yukarıdaki araç gereçler ve cümleler eşleştirilirse nasıl bir **görüntü** oluşur?



12) Aşağıdakilerden hangisi okulda kullanılan **elektrikli** araç gereçlerden değildir?

- A)  projeksiyon cihazı      B)  yazıcı      C)  elektrikli testere

# CEVAP ANAHTARI

- 1) B
- 2) A
- 3) C
- 4) A
- 5) C
- 6) B
- 7) B
- 8) A
- 9) A
- 10) C
- 11) B
- 12) C