

ZAMANI ÖLÇME

1.Etkinlik : Aşağıdaki soruları örnekteki gibi işlem yaparak cevaplayalım.



3 saat sonrasında saat kaç olur ?

$$\begin{array}{r} 02.15 \\ + 3.00 \\ \hline 05.15 \end{array}$$



2 saat sonrasında saat kaç olur ?



2 saat öncesi saat kaç olur ?



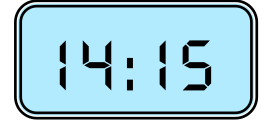
4 saat öncesi saat kaç olur ?



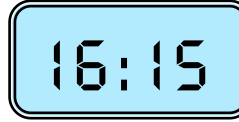
5 saat öncesi saat kaç olur ?



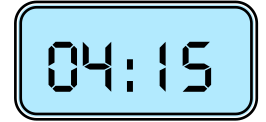
6 saat sonrası saat kaç olur ?



2 saat öncesi saat kaç olur ?



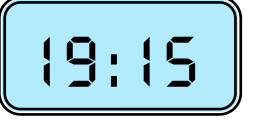
3 saat sonrası saat kaç olur ?



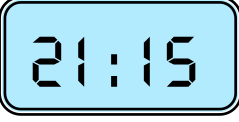
7 saat sonrası saat kaç olur ?



5 saat sonrası saat kaç olur ?



4 saat öncesi saat kaç olur ?



2 saat sonrası saat kaç olur ?