

1.

Görseldeki varlığın isminde aşağıdaki hecelerden hangisi yoktur?

A) kas

B) ma

C) mak

2.

| Önceki Harf | Harf | Sonraki Harf |
|-------------|------|--------------|
| b | t | u |
| t | u | ü |
| r | s | t |

Yanda verilen tabloya ortadaki harflerden bir önce ve bir sonra gelen harfler yazılmıştır. Buna göre yanlış yazılan kutular boyandığında tablonun görünümü nasıl olur?

A)

| | | |
|--|--|--|
| | | |
| | | |
| | | |

B)

| | | |
|--|--|--|
| | | |
| | | |
| | | |

C)

| | | |
|--|--|--|
| | | |
| | | |
| | | |

3.

Aşağıdaki sözcüklerden hangisi yanlış yazılmıştır?

A) kavanoz

B) şoför

C) porkatal

4.

Yanda verilen görselin zıt anlamlısı olan sözcük aşağıdakilerden hangisidir?

A) açık

B) kapalı

C) boş



5.

| | | |
|-----|------|------|
| beş | altı | yedi |
|-----|------|------|

Yanda verilen sözcükler alfabadeki sıraya göre dizildikten sonra yeni sıralama nasıl olmalıdır?

A)

| | | |
|------|-----|------|
| yedi | beş | altı |
|------|-----|------|

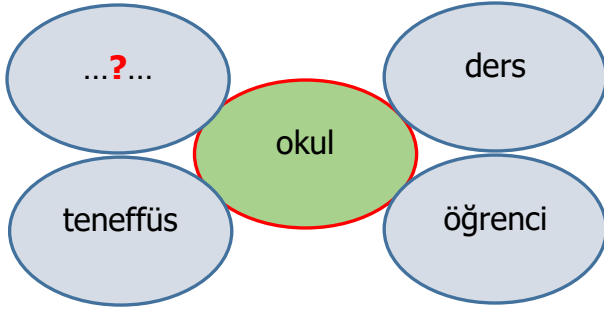
B)

| | | |
|------|-----|------|
| altı | beş | yedi |
|------|-----|------|

C)

| | | |
|-----|------|------|
| beş | altı | yedi |
|-----|------|------|

6.



Çemberlerin içine okul sözcüğü ile ilgili kelimeler verilmiştir. Buna göre soru işareti '?' yerine hangi sözcük yazılmalıdır?

- A) öğretmen B) çiçek C) sokak

7.

Ders çalışıyor musun Ay, çok korktum Kışın hava soğuk olur

Yukarıdaki cümlelerin sonuna sırası ile hangi noktalama işaretleri konulmalıdır?

- A) . ? ! B) ? ! . C) . . !

8.

'Kavanoz' sözcüğünün harfleriyle aşağıdaki sözcüklerden hangisi oluşturulamaz?

- A) vazo B) kovan C) vagon

9.



Osman

.....?

Okula gideceğiz.



Ece

Osman, Ece'ye hangi soruyu sormuş olabilir?

- A) Ne zaman gideceksin? B) Nereye gideceksiniz? C) Neden gideceksiniz?

10.

'Pazardan kendime bir çanta aldım.'

Yukarıdaki cümlede aşağıdaki sorulardan hangisinin cevabı yoktur?

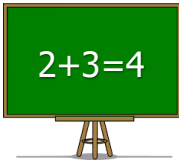
- A) Ne aldım? B) Nereden aldım? C) Neden aldım?

11.

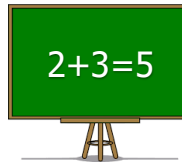
Yanda verilen görsel için aşağıdakilerden hangisi söylenemez?

- A) Balonlardan 1 tanesi patlarsa balon sayısı azalır.
 B) Balonlara 1 tane daha eklersek balon sayısı 5 olur.
 C) Balonlardan 2 tanesi patlarsa geriye 3 balon kalır.

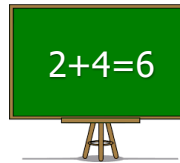
12.

Aşağıdaki işlemlerden hangisinin sonucu yanlıştır?

A)

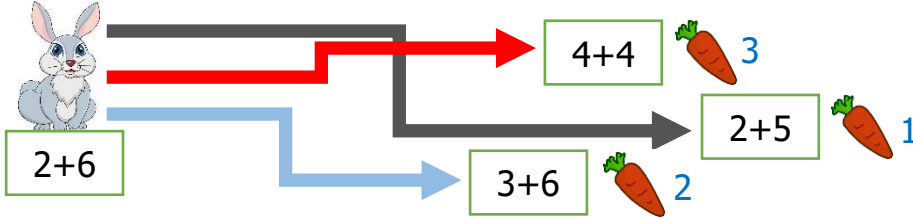


B)



C)

13.



Tavşan bir toplama işlemi yapmış ve sonucu bulmuştur. Tavşan bulduğu sonucun aynısı olan havucu yiyecektir. Buna göre tavşan kaç numaralı havucu yer?

- A) 1 B) 2 C) 3

14.

 $\rightarrow 8 - 2 = ?$

 $\rightarrow 4 + 2 = ?$

A)  ve 

 $\rightarrow 5 + 2 = ?$

 $\rightarrow 6 - 2 = ?$

B)  ve 

Hangi sembollerle verilen işlemlerin sonucu aynıdır?

C)  ve 

15.



Yandaki oyuncak alıp satıcıya 10 lira ödeyen birisi kaç lira para üstü alır?

- A) 4 B) 5 C) 6

16.

Hasan



7 yaşındayım.
Birinci sınıfa
gidiyorum.

Ali



9 yaşındayım.
Üçüncü sınıfa
gidiyorum.

Emel



8 yaşındayım.
İkinci sınıfa
gidiyorum.

Yukarıda verilen bilgilere göre aşağıdakilerden hangisi yanlıştır?

- A) Emel, geçen yıl birinci sınıfa gidiyordu. B) Ali, Hasan'dan 2 yaş büyüktür.
C) Hasan, seneye 9 yaşında olacaktır.

17.

5 TL

10 TL

5 TL



Yandaki çocukların paralarının toplamı hangi seçenekte verilmiştir?

A)




B)



C)



18.



Yanda verilen görselde kaç tane üçgen kullanılmıştır?

A) 6

B) 4

C) 3

19.



Yanda verilen örüntüde kuralı bozan şeklin yerine hangi şekiller konulmalıdır?

A)



B)



C)



20.

12' den önce gelen sayı ile 6' dan sonra gelen sayıyı toplarsak sonuç kaç olur?

A) 14

B) 18

C) 17

21.

kıskançlık

güven

saygı

hoşgörü

Yukarıdaki özelliklerden kaç tanesini taşıyan birisi ile arkadaş olmak istemeyiz?

A) 1

B) 3

C) 4

22.

Görsel sanatlar dersinin olduğu gün aşağıdaki malzemelerden hangisi çantamızda bulunmalıdır?

A)



B)



C)



23.

- ❖ Okul servisine sırayla binmek,
- ❖ Emniyet kemeri takmak,
- ❖ Yüksek sesle konuşmak,

Yanda verilenlerden kaç tanesi okul servisinde uymamız gereken kurallardandır?

A) 3

B) 1

C) 2

24.

Aşağıdaki davranışlardan hangisini okulda kazanamayız?

A)



B)



C)



25.

Sanat alanında ilerlemek için aşağıdaki kurslardan hangisine gitmemiz daha uygun olur?

A)




B)



C)



26.

Sana
söylediğimi
yapsana!Benim güzel
bir fikrim
var!Beraber
 oynayalım
 mı?Git
başından!

Ece

Hasan

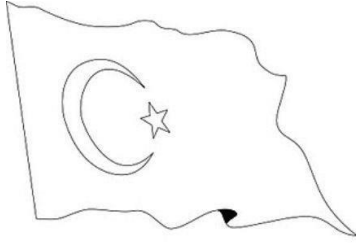
Ayşe

Elif

Yandaki öğrencilerin konuşmalarına göre hangileri nezaket kurallarına uymamıştır?

- A) Ayşe ve Hasan
- B) Hasan ve Ayşe
- C) Ece ve Elif

27.



Yanda verilen bayrağımız boyanacaktır. Buna göre aşağıdakilerden hangisi doğrudur?

- A) Bayrağın kenar çizgileri siyaha boyanmalıdır.
- B) Ay ve yıldız beyaza boyanmalıdır.
- C) Ay ve yıldız kırmızıya boyanmalıdır.

28.

Günlük planımızda aşağıdaki işlerden hangisine en az zaman ayırırız?

- A) uyku
- B) oyun
- C) diş fırçalama


29.

Aşağıdakilerden hangisi okul ile ilgili bir ihtiyacımız değildir?

- A) silgi
- B) oyuncak
- C) çanta

30.

Yemek esnasında aşağıdakilerden hangisi kullanılmaz?



A)

B)

C)