

İki **katır** yolda yan yana gidiyorlarmış. Biri **buğday**, biri **altın** yüklüymüş. **Altın** çuvalı taşıyan **katır**, değerli bir yük taşıdığı için böbürlenirmiş. Yolda arkadaşına:

– “Doğrusu yorulduğuna değmez. İki çuval **buğday** kaç para eder ki? Bense bir servet taşıyorum.” demiş.

Buğday yüklü **katır** arkadaşını dinler, sesini çıkarmazmış ama onun bu böbürlenmesine de kızarmış.

Uzun bir yolculuktan sonra, büyük bir ormandan geçerken hırsızların saldırısına uğramışlar. **Buğday** yüklü **katıra** hiç kimse karışmamış. Fakat ötekine gelince, hemen üstüne atlayıp hem **altın** çuvalarını almışlar hem de **katırı** hırpalamışlar.

Hırsızlar gittikten sonra **buğday** yüklü **katır**, ayakta duramayacak kadar halsiz olan zavallı **katıra**, alaycı bir gülümsemeyle:

– “O kadar övünüp durduğun yükün yüzünden başına neler geldi. Artık başkasının varlığıyla bir daha böbürlenmezsin!” demiş.

➤ İlk soruyu metne göre cevaplayınız.

1) Aşağıdaki **cümlelerden** hangisi, metinden çıkarılacak derslerden değildir?

- A) Kendimizi kimseden üstün görmemeliyiz.
- B) Değer gören kişiler kibirlenmelidirler.
- C) Yersiz ve boş övünmeden kaçınmalıyız.

2)



Efe

Mart kapıdan baktırır, kazma kürek yaktırır.



Arzu

Bir elin nesi var, iki elin sesi var.



Uğur

Cahil adam, meyvesiz ağaca benzer.

Öğrencilerden hangisinin cümlesinde diğerlerinden daha az hece vardır?

- A) Arzu
- B) Efe
- C) Uğur

3)



Garson, örtüsünde **eş sesli** kelime yazan **masaların** **boş** olduğunu, diğerlerinin ayrılmış olduğunu söyledi.

Buna göre **Ali**, aşağıdaki **masalardan** hangisine oturamaz?



A)



B)



C)

4)

iddaa

tehtid

şarj

traş

Yukarıdaki **bulutlardan** kaç tanesinde yanlış yazılmamış kelime vardır?

- A) 3
- B) 2
- C) 1

- 5) **eş anlamlı kelimeler** **eş anlamlı kelimeler** **zıt anlamlı kelimeler**




Her biri meyve ile eşleşen alanlara uygun **örnekleri** yapıştırarak olan **Mert**, hangi şıktaki **örnekleri** kullanırsa tüm alanlara doğru örnekleri yapıştırmış olur?



- A) **yanıt cevap** **cimri cömert** **esir tutsak**
- B) **kaygı tasa** **küçük ufak** **neşe sevinç**
- C) **fayda yarar** **temiz pak** **uzak yakın**

- 6) **I** – Kedimin adını Minnoş koydum.
II – Teyzem, yengem ve eniştem geldiler.
III – İzmir’den Mersin’e doğru yola çıktık.
IV – Dünya, Güneş’in etrafında dolanır.
Yukarıdaki **cümlelerden** hangisinde birden fazla özel isim vardır?

- A) **I** ve **II** B) **III** ve **IV** C) **II** ve **III**

- 7)  Atatürk 19 mayıs 1919’da samsun’a çıktı.

Aşağıdakilerden hangisi üstteki **cümlede** düzeltilecek hatalardan değildir?

- A) “**mayıs**” büyük harfle başlamalı.
B) Cümlenin **ilk harfi** büyük yazılmamalı.
C) “**samsun**” büyük harfle başlamalı.




- 8)   






Sevimli arı, **satır sonunda yanlış ayrılmış kelimelerin olduğu çiçeklere konmamaktadır.**

Buna göre arı, yukarıdaki çiçeklerden kaç tanesine konar?

- A) 3 B) 2 C) 1

- 9) **Nereye baksam gözlerim seni arıyor ()** 
- Gezdiğimiz yeri daha önceden görmüş müydün ()** 
- Ne zaman sana ihtiyaç olsa ortalarda yoksun ()** 

Çiçeklerle eşleşen hangi cümlenin sonuna farklı bir **noktalama** işareti gelir?

- A)  B)  C) 

- 10)   

Ali sözlük sırasına göre, üstünde **1.** sıradaki kelime bulunan giysiyi **okulda**, **2.** sıradaki kelime bulunan giysiyi **evde** ve **3.** sıradaki kelime bulunan giysiyi **dışarıda** giyiyor.

Buna göre **Ali’nin** evde giydiği giysinin üzerindeki kelime nedir?

- A) bakım B) bebek C) baraj

11)



Bir yıl boyunca yukarıdaki paraları biriktiren **Ali**, beğendiği bisikleti almak istiyor.

Bisikletin fiyatı, rakamları farklı üç basamaklı **en büyük sayı** olduğuna göre **Ali'nin** ne kadar daha paraya ihtiyacı vardır?

- A) ₺ 482 B) ₺ 494 C) ₺ 499

12)



Yukarıdaki tabloya göre **karenin** alacağı değer $\frac{1}{8}$ 'i aşağıdakilerden hangisidir?

- A) 28 B) 26 C) 24

13)



Dijital saatin 18.35 olduğunu gören **Ozan**, duvar saatinde 18.35'i akrep ve yelkovan ile oluşturmak istiyor.

Ozan'ın analog duvar saatinde 18.35'i doğru oluşturması için ne yapması gerekir?

- A) Akrep 8'i, yelkovan ise 6'yı gösterecek.
 B) Yelkovan 6'yı, akrep ise 8'i gösterecek.
 C) Akrep 6'yı, yelkovan ise 7'yi gösterecek.

14)

	Başlangıç Tarihi	Bitiş Tarihi
 Emre	14 Nisan	26 Haziran
 Şule	8 Haziran	3 Eylül

Yukarıdaki tabloda iki arkadaşın **yüzme kursuna** başlama ve kurstan ayrılma tarihleri verilmiştir.

Tabloya göre aşağıdaki ifadelerden hangisi yanlış değildir?

- A) Emre'nin kurs süresi Şule'den daha uzundur.
 B) Emre'nin kurs süresi 2 aydan daha kısadır.
 C) Şule'nin kurs süresi 3 aydan daha kısadır.

15)



8 kg karpuz 64 liradır. Elmanın kg fiyatı ise karpuzdan 4 lira daha ucuzdur. Buna göre 24 kg elma alan birisi kaç lira öder?

- A) ₺ 88 B) ₺ 96 C) ₺ 104

16)



Benim yaşı, babamın yaşının dörtte biri kadardır.



Annemin yaşı ile benim yaşımın farkı 29'dur.



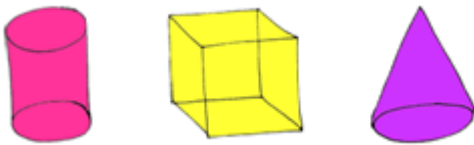
Ben yetmiş yedi yaşındayım.

Babaanne

Yukarıdaki bilgilere göre Mete kaç yaşındadır?

- A) XVII B) XIV C) XII

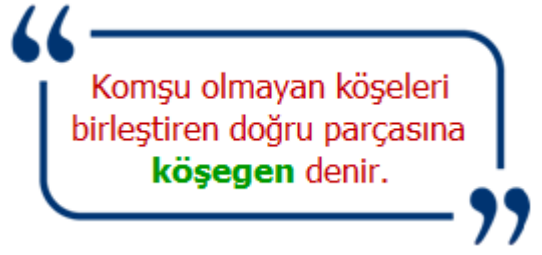
17)



Yukarıdaki geometrik cisimlerle ilgili aşağıdakilerden hangisi doğru değildir?

- A) Üçünün toplam 12 ayrıtı vardır.
B) Üçünün toplam 9 köşesi vardır.
C) Üçünün toplam 11 yüzü vardır.

18)



Üstteki bilgiye göre aşağıdaki şekillerden hangilerinin köşegenleri yoktur?

- A) altıgen - kare B) dikdörtgen - beşgen
C) üçgen - çember

19)

Beşgen	Kare	Yediggen	Altıgen
			Beşgen
Beşgen	Altıgen	?	Kare

Yukarıdaki örüntüye göre soru işareti olan yere aşağıdakilerden hangisi gelecektir?

- A) B) C)

20)



Yukarıdaki harflerden hangisi hem dikey hem de yatay doğru parçasından oluşur?

- A) F B) K C) M

21)



Dünya ile ilgili aşağıdaki bilgilerden hangisi doğrudur?

- A) Dünya yüzeyinde karalar, sulardan daha çok yer kaplar.
- B) Dış çekirdek ile yer kabuğu arasında iç çekirdek bulunur.
- C) Atmosfer, Dünya'nın etrafını ince bir battaniye gibi sarar.

22)

Dalından elmayı koparmak	Buzdolabının kapağını açmak
Salıncakta birini sallamak	Uçurtmanın ipini tutmak

Yukarıdaki ifadelerden kaç tanesi **çekme** kuvvetine örnek olarak verilemez?

- A) 2
- B) 1
- C) 3

23)

meşale	şimşek	yıldız
ateş böceği	fener	kibrit

Yukarıdaki tabloda bulunan **varlıklardan**, kendiliğinden ışık yayanları boyarsak ortaya nasıl bir görüntü çıkar?

- A)

- B)

- C)

24)



Kişisel bakımını düzenli olarak yapan **Elif**, saçına bakım yaparken kapının çalan zilini duymamıştır.

Yukarıdaki durumun sebebi aşağıdakilerden hangisidir?

- A) Saç kurutma makinesinin sesi, zil sesinden daha yakın ve daha şiddetlidir.
- B) Kapının zil sesi, makinenin sesinden daha şiddetli ses çıkarır.
- C) Makinenin ve kapının zil sesi aynı şiddettedir.

25)



Çok şiddetli sesler kulak sağlığımıza zarar verir.



Ses boşlukta ve uzayda yayılmaz.



Yaklaşan aracın sesi azalan ses örneğidir.



İnsanlar doğadaki tüm sesleri kusursuz işitirler.

Hangi **çocukların** sesler ile ilgili **ifadeleri** yanlış değildir?

- A) Mine ve Ali
- B) Esra ve Kaya
- C) Ali ve Esra

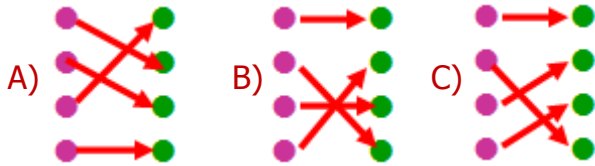
- 26) **I** – Tepki verirler.
II – Boşaltım yaparlar.
III – Hareket etmezler.

Yukarıdaki ifadelerden hangileri canlıların ortak özelliklerindendir?

- A) **I** ve **III** B) **I** ve **II** C) **II** ve **III**

27) olgun bitki	●	●	daha sonra
genç bitki	●	●	önce
çimlenme	●	●	en sonunda
çiçek açmış bitki	●	●	sonra

Bitkilerin hayat döngülerini sıralamalarla eşleştirirsek nasıl bir **görüntü** oluşur?



28) Birçok canlının doğal yaşamı olan ve koruma altına alınan doğal çevrelerdir. İnsanlar turistik gezi yapmak, burada yaşayan canlılar hakkında bilgi almak ve eğlenmek için buraları ziyaret ederler.

Yukarıda açıklaması verilen **çevreler** aşağıdakilerden hangisidir?

- A) yapay çevre B) milli parklar
C) doğal anıtlar

29)	Yapay çevre kendiliğinden oluşurken doğal çevreyi insanlar oluşturur.
	Doğal ve yapay çevrede hayvanların beslenme koşulları aynı değildir.
	Doğal çevrenin oluşumu kısa sürerken yapay çevrenin oluşum süreci uzundur.

Doğal ve yapay çevrenin farklarıyla alakalı, her biri bir sebze ile eşleştirilen yukarıdaki ifadelerden hangisi **doğrudur**?

- A) B) C)

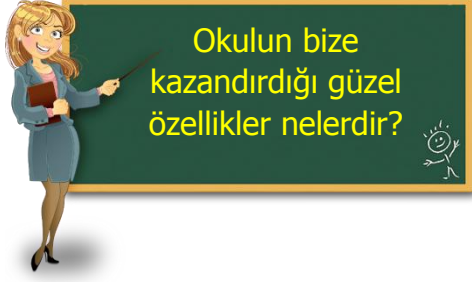
30)



Aşağıdakilerden hangisi, **hava kirliliğini** önlemek için alınacak önlemlerden değildir?

- A) Kısa mesafeler için araba kullanmak
B) Fabrikaların bacalarına filtre takmak
C) Doğalgaz kullanımını yaygınlaştırmak

31)



Yukarıdaki soruya, aşağıdaki çocuklardan hangisi **doğru** cevap vermemiştir?

- A) İş birliği ve yardımlaşma anlayışımız gelişir.
- B) İnsanlar ile iletişimin gerilemesine katkı sağlar
- C) Arkadaşlık bilincini ve karşılıklı saygıyı artırır.

32)



Arkadaşları, sessiz bir öğrenci olan **Mete** ile alay etmekte, onu hiçbir oyuna almamakta ve onu dışlamaktadırlar. Bu durum **Mete'yi** çok üzmektedir.

Buna göre, yukarıdaki **öğrencilerle** ilgili hangi ifade yanlış **değildir**?

- A) Karşılıklı saygıdan bahsetmek mümkün değildir.
- B) Empati ve hoşgörü konusunda oldukça iyidirler.
- C) Arkadaşlık bağları yeterince güçlüdür.

33)

★	Su tasarrufu için tuvalette hiç su kullanmam
⦿	Gündüz daha net görmek için tüm ışıkları açarım.
⚙️	Kişisel bakım esnasında elektrik ve suyu gereksiz kullanmam.
■	İhtiyaçlarıma isteklerimden daha fazla önem gösteririm.

Yukarıdaki ifadelerden hangileri **bilinçli** öğrenci ifadelerindedir?

- A) ★ - ⦿ B) ■ - ★ C) ⚙️ - ■

34)

Veli	Zeki	İpek
makarna çorba ekmek	pilav köfte salata	yoğurt balık tavuk

Yukarıda üç kişinin öğle yemeğinde yedikleri yemeklerin listeleri mevcuttur.

Buna göre hangi kişi diğerlerine göre **daha dengeli** beslenmiştir?

- A) Zeki B) İpek C) Veli

35)



yaya geçidi

ışıklı trafik cihazı

bisiklet geçebilir

pastane

Yukarıdaki trafik levhalarından kaç tanesinin anlamı yanlış yazılmıştır?

- A) 1 B) 2 C) 3

- 36) Denizde, bir büyüğümüzün kontrolünde yüzmeliyiz. →
- Prizlere dokunmamalı, sivri aletler sokmamalıyız. →
- Yanıcı ve yakıcı araç gereçlerle oynamalıyız. →
- İlaç ve deterjanlar küçüklerin ulaşabileceği yerde olmalıdır. →

Yukarıdaki cümlelerden doğru olanlara **D**, yanlış olanlara **Y** yazarsak nasıl bir görüntü oluşur?

- A)

Y
D
Y
D

 B)

D
D
Y
Y


 C)

D
Y
D
Y



Aşağıdakilerden hangisi **deprem** sırasında yapmamamız gereken bir davranış değildir?

- A) Evden çıkarken asansör kullanılmalıdır.
B) Balkon ve pencereden uzaklaşılmalıdır.
C) Evimiz iki katlı ise aşağı atlamalıyız.



Türk halkı, **Mustafa Kemal'in** önderliğinde el ele vermiş, vatanını düşman işgalinden kurtarmıştır.

Buna göre hangisi **Kurtuluş Savaşı'nın** kazanılmasında büyük rol oynamıştır?

- A) Savaşta yalnızca erkeklerin savaşması
B) Milletın ayrı fikirlerle hareket etmesi
C) Milli birlik ve beraberlik duygusu



Sabri her okul çıkışında engelli arkadaşını hiçbir karşılık beklemeden evine kadar götürmektedir.

Buna göre **Sabri'nin** hangi özelliklerinin gelişmiş olduğunu söyleyebiliriz?

- A) Çıkarıcılık – Rekabet
B) Dayanışma – Sorumluluk
C) Kararsızlık – Bencillik

40) **Özel eşyamıza gösterdiğimiz özeni, milletimizin ortak malını kullanırken de göstermeliyiz.**

Aşağıdakilerden hangisi **ortak kullanım** alanlarından değildir?

- A) çocuk odası B) okullar C) parklar

CEVAP ANAHTARI

TÜRKÇE

- 1) B
- 2) C
- 3) A
- 4) C
- 5) A
- 6) B
- 7) B
- 8) C
- 9) B
- 10) C

MATEMATİK

- 11) A
- 12) A
- 13) C
- 14) C
- 15) B
- 16) C
- 17) B
- 18) C
- 19) B
- 20) A

FEN BİL.

- 21) C
- 22) B
- 23) C
- 24) A
- 25) A
- 26) B
- 27) C
- 28) B
- 29) C
- 30) A

HAYAT BİL.

- 31) B
- 32) A
- 33) C
- 34) A
- 35) C
- 36) B
- 37) B
- 38) C
- 39) B
- 40) A