

- 1) “Yer şekilleri, hava koşulları, dağlar, su kaynakları, hayvanlar ve bitkiler”

Yukarıdaki cümlede boş bırakılan yere hangi sözcük yazılmalıdır?

- A) doğal unsurlardır.
B) yapay varlıklardır.
C) insanları etkilemez.

- 2) Aşağıdaki bölgelerden hangisinde yaşayan insanlar için zor şartlarda yaşadıkları söylenebilir?




- A) Şehir merkezi
B) Deniz kenarı
C) Dağlık bölgeler

- 3) Soğuk ve kar yağışının fazla olduğu yerlerde yaşayan birisi aşağıdaki kıyafetlerden hangisini tercih etmelidir?








- 4) Aşağıdakilerden hangisi doğal unsur değildir?

- A) Göl B) Baraj C) Nehir

- 5)  Bitkiler için önemlidir.
 Sel oluşumuna sebep olabilir.
 Hayvanlar su ihtiyacını karşılar.




Yukarıdakilerden hangisi veya hangileri su kaynaklarının olumsuz özelliğidir?

- A)  ve 
B) Yalnız 
C)  ve 

- 6)

Dünyanın su ihtiyacını karşıladığım gibi kış turizmi için de önemlidir.

Yukarıdaki noktalı yere hangi görsel gelmelidir?

- A)  B)  C) 

7)



Yukarıdaki görsel ile ilgili hangisi söylenebilir?

- A) Ulaşım çok kolaydır.
- B) Tarım için elverişlidir.
- C) Dağlık bir bölgedir.

8) Tarım yapmak isteyen birisi aşağıdaki yerlerden hangisini tercih etmemelidir?

- A) Ova
- B) Dağlık bölge
- C) Akarsu kenarı

9) Yandaki varlığın bulunduğu yer ile ilgili aşağıdakilerden hangisi kesinlikle söylenebilir?

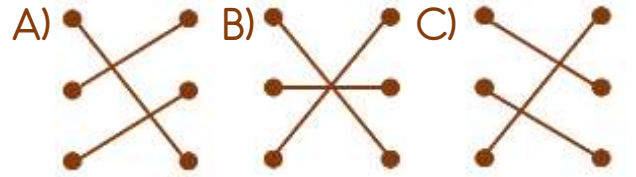


- A) Rüzgârlı bir yerdir.
- B) Güneşli bir yerdir.
- C) Karlı bir yerdir.

10)



Yukarıdaki hava olayları ile çevreye verdikleri zararlar nasıl eşleştirilmelidir?



11) () Yağmur sayesinde barajlar dolar.

() Kış turizmi için güneş önemlidir.

() Toprak canlıların yaşam alanıdır.

Yukarıdaki ifadelerden doğru olanlara "D", yanlış olanlara "Y" sırası ile nasıl yazılmalıdır?

- | | | |
|--------|--------|--------|
| A) (D) | B) (D) | C) (Y) |
| (Y) | (Y) | (D) |
| (D) | (Y) | (Y) |

Cevap Anahtarı

1-A 2-C 3-C 4-B 5-B 6-A 7-C 8-B 9-A 10-C 11-A