

- 1) “Yer şekilleri, hava koşulları, dağlar, su kaynakları, hayvanlar ve bitkiler .....”




Yukarıdaki cümlede boş bırakılan yere hangisi yazılmalıdır?

- A) doğal unsurlardır.  
B) yapay varlıklardır.  
C) insanları etkilemez.
- 2) Aşağıdaki bölgelerden hangisinde yaşayan insanlar için zor şartlarda yaşadıkları söylenebilir?
- A) Şehir merkezi  
B) Deniz kenarı  
C) Dağlık bölgeler
- 3) Soğuk ve kar yağışının fazla olduğu yerlerde yaşayan birisi aşağıdaki kıyafetlerden hangisini tercih etmelidir?








- 4) Aşağıdakilerden hangisi doğal unsur değildir?

A) Göl B) Baraj C) Nehir

- 5)  Bitkiler için önemlidir.  
 Sel oluşumuna sebep olabilir.  
 Hayvanlar su ihtiyacını karşılar.

Yukarıdakilerden hangisi veya hangileri su kaynaklarının olumsuz özelliğidir?

- A)  ve   
B) Yalnız   
C)  ve 

6)

Dünyanın su ihtiyacını karşıladığım gibi kış turizmi için de önemliyim.

Yukarıdaki noktalı yere hangi görsel gelmelidir?

- A)  B)  C) 

7)



Yukarıdaki görsel ile ilgili hangisi söylenebilir?

- A) Ulaşım çok kolaydır.
- B) Tarım için elverişlidir.
- C) Dağlık bir bölgedir.

8) Tarım yapmak isteyen birisi aşağıdaki yerlerden hangisini tercih etmemelidir?

- A) Ova
- B) Dağlık bölge
- C) Akarsu kenarı

9) Yandaki varlığın bulunduğu yer ile ilgili aşağıdakilerden hangisi kesinlikle söylenebilir?

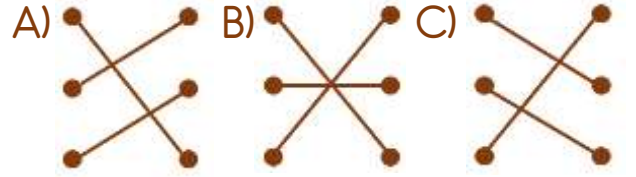


- A) Rüzgârlı bir yerdir.
- B) Güneşli bir yerdir.
- C) Karlı bir yerdir.

10)



Yukarıdaki hava olayları ile çevreye verdikleri zararlar nasıl eşleştirilmelidir?



- 11) ( ) Yağmur sayesinde barajlar dolar.  
( ) Kış turizmi için güneş önemlidir.  
( ) Toprak canlıların yaşam alanıdır.

Yukarıdaki ifadelerden doğru olanlara "D", yanlış olanlara "Y" sırası ile nasıl yazılmalıdır?

- |        |        |        |
|--------|--------|--------|
| A) (D) | B) (D) | C) (Y) |
| (Y)    | (Y)    | (D)    |
| (D)    | (Y)    | (Y)    |

## Cevap Anahtarı

1-A 2-C 3-C 4-B 5-B 6-A 7-C 8-B 9-A 10-C 11-A