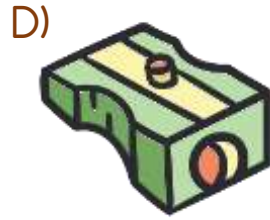
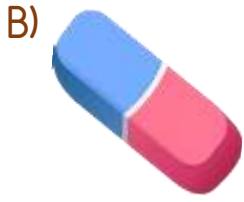



1) Aşağıdaki varlıklardan hangisi bir yönüyle diğerlerinden farklıdır?



Yukarıdaki iki kutu arasındaki fark hangi çiçek nedeniyle oluşmuştur?



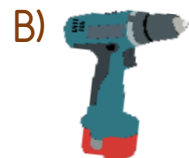
3)



Hangi hayvan yukarıdaki varlıklardan herhangi biri ile ilişkili değildir?



4) Hangisi yandaki meslek ile ilgili bir araç değildir?




5)



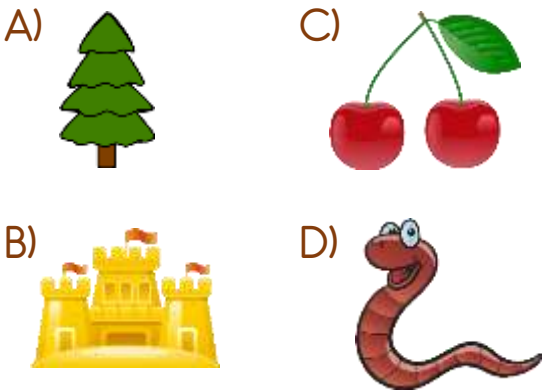
Yukarıda otomobili hangi seçenekteki parça tamamlar?



6)




Soru işareti ile belirtilen yere hangi varlık gelmelidir?



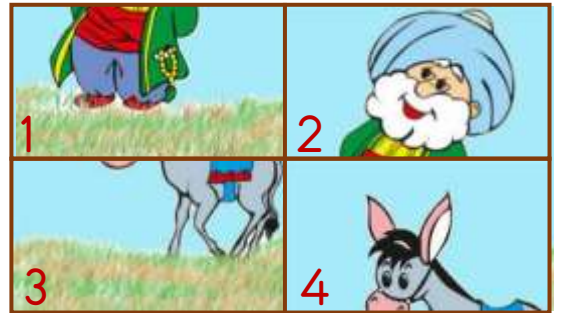
7)



Hangisi yukarıdaki görselin bir parçası değildir?



8)



Hangi parçaların yerleri değiştirilirse resim tamamlanmış olur?

- A) 1 ve 2 C) 3 ve 4
B) 1 ve 4 D) 2 ve 3

Cevap Anahtarı

1-C 2-D 3-A 4-C 5-B 6-B 7-C 8-B