

1)



Yürüdük

Jale



Okuyorum

Erkan



Sildim

Hale



Yapacağız

Ercan

Yukarıda söylenen eylemlerin zamanlarını inceleyelim. Hangi çocukların söyledikleri eylemlerin zamanı aynıdır?

- A) Hale – Ercan      B) Jale – Erkan  
C) Jale – Hale      D) Erkan - Ercan

2) Aşağıdaki cümlelerin hangisinde farklı düşünmeye yönlendiren bir ifade **yoktur**?

- A) Sınıfa gitmeliyiz yoksa öğretmen kızar.  
B) Çok yorgunum, erkenden yatacağım.  
C) Salı veya çarşamba günü bize gel.  
D) Hızlı koşmama rağmen ona yetişemedim.

3)

Ormanda ablamlarla birlikte anneme bir demet papatya topladık.

Yukarıdaki cümlede kaç tane topluluk ismi vardır?

- A) 1      B) 3      C) 2      D) 4

4)

Uğurun dayısı Fatih Amca tirenle Karabaşı Eskişehir'e götürmüştü.

Yukarıdaki cümlede kaç tane yazım yanlışı yapılmıştır?

- A) 4      B) 3      C) 5      D) 2

5)



Orhan , Şahin'den daha hızlı koşuyor.

Suna



Sınavda başarılı olmak için çok çalıştım.

Ömer



Annem izin vermediği için gelemedim.

Ayla



Evde dinlenirim ya da kitap okurum.

Cemil

Çocuklardan hangisi **amaç sonuç** cümlesine örnek vermiştir?

- A) Cemil      B) Ayla  
C) Suna      D) Ömer

6)

İhtiyar taksiciden gideceği adresi sordu.

Yukarıdaki cümlede hangi kelimedenden sonra virgül konursa cümlenin anlamı değişir?

- A) taksiciden      B) gideceği  
C) adresi      D) ihtiyar

- 7) ● Bizimle yüzmeye Umut da gelecek.  
■ Demet hırkasını okul da unutmuş.  
▲ Annem beyaz gömleğimde yıkamış.  
◆ Amcamlar köyde yaşıyor.  
Yukarıdaki cümlelerin hangisinde yazım yanlışı yapılmıştır?

- A) ● ■ B) ■ ▲  
C) ● ▲ D) ● ◆

- 8) Aşağıdaki atasözlerinden hangisinin konusu "gerçeği söylemek"tir?

- A) Dost acı söyler.  
B) Dost kara günde belli olur.  
C) Çürük ipe kuyuya inilmez.  
D) Ak akçe kara gün içindir.

- 9) I – Odunluk

II – Ağaçlık

III- Islık

IV- Başlık

Kelimeler, sonlarına bazı ekler alarak değişik biçimlerde cümlede kullanılırlar.

Buna göre yukarıdaki kelimelerden hangisi diğerlerinden farklıdır ?

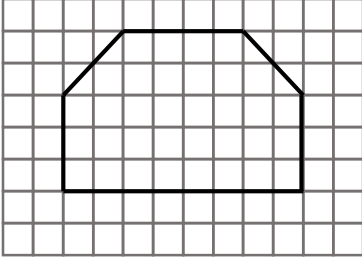
- A) I B) II  
C) III D) IV

- 10) Çatıdaki adam "İmdat( )" diye bağırdı ( ) Olay yerine polis ( ) ambulans ( ) itfaiye geldi.

Yukarıdaki cümlede yay ayrıçlarla belirtilen yerlere aşağıdaki noktalama işaretlerinden hangisi **gelmez**?

- A) ! Ünlem B) : İki nokta  
C) ; Virgül D) - Kısa çizgi

11)




Yukarıdaki şeklin alanı kaç birim karedir?

- A) 38                      B) 36  
C) 40                      D) 37

12) Dikdörtgen şeklindeki bir bahçenin uzun kenarının uzunluğu kısa kenarın 2 katıdır. Bahçenin çevresi 336 m olduğuna göre, uzun kenar kaç metredir?

- A) 56                      B) 102  
C) 110                     D) 112

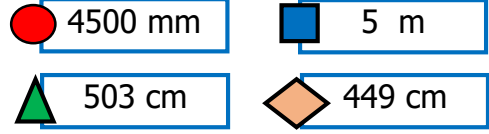
13)



İki arkadaş aynı noktadan, aynı anda , farklı yönlere yürüyorlar. Bir dakikada Tanager 80 m , Caner 70 m yürüyor. 2 dakika 30 saniye sonra aralarındaki mesafe kaç metre olur?

- A) 450                      B) 360  
C) 375                      D) 370

14)



Yukarıdaki ölçüm sonuçları büyükten küçüğe doğru sıralanınca 3. sırada hangi ölçüm sonucu yer alır?

- A)                      B)   
C)                      D)

15)

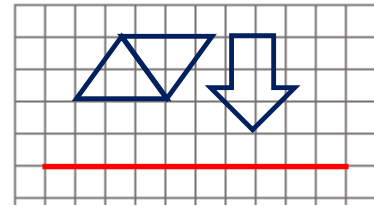
6 yıl sonra babamın yaşı benim yaşımdan 3 katı olacaktır. Altı yıl sonra yaşlarımızın toplamı 56 olacaktır.



Yukarıdaki Elif'in anlattıklarına göre , Elif şimdi kaç yaşındadır?

- A) 7                              B) 14  
C) 8                              D) 6

16)



Yukarıda verilen şeklin simetriği aşağıdakilerden hangisidir?

- A)                      B)   
C)                      D)

17)



Saat 22.40'ta uyudum. Uyan-  
dıgımda 9 saat 15 dakika  
uyumuş olduğumu hesapla-  
dım.

Yukarıdaki Kadir'in anlattıklarına göre ,  
Kadir sabah saat kaçta uyanmıştır?

- A) 7.55                      B) 8.55  
C) 7.45                      D) 7.40

18)

Bir bakkal 210 kg peynirin  $\frac{2}{7}$ 'sinin  
satışından 1500 lira elde etmiş.

Yukarıda verilen bilgilere göre, bakkal  
peynirin tamamının satışından kaç lira  
elde eder?

- A) 5200                      B) 5150  
C) 5350                      D) 5250

19) Aşağıdakilerden hangisi doğrudur?

	En Büyük Dar Açı	En Küçük Geniş Açı
A)	89°	100°
B)	90°	91°
C)	89°	91°
D)	91°	89°

20)

$$\frac{1}{8} \dots \frac{1}{10}$$

$$\frac{1}{16} \dots \frac{1}{14}$$

$$\frac{1}{5} \dots \frac{1}{6}$$

Yukarıdaki kesir sayıları kendi içerisinde  
karşılaştırıldığında sırayla hangi semboller  
kullanılmış olur?

- A) > < >  
B) > > >  
C) > > <  
D) < > <

21) ● Yaşama hakkı

■ Eğitim hakkı

◆ Beslenme hakkı

▲ Oyun oynama hakkı

Ülkesinde savaş olan bir ülkede yaşayan bir çocuğun hangi hakları tehlike altındadır?

A) ■ ◆

B) Hepsi

C) ● ■

D) ◆ ▲ ■

22) ☆ Hacivat ve Karagöz

☆ Gitar

☆ Makarna

☆ Baklava

☆ Güreş

Öğretmen Sinem'e milli kültür öğelerimizden 5 tanesini söylemesini istemiş. Sinem verdiği her doğru cevap için 10 puan almış. Yukarıdaki cevaplara göre Sinem kaç puan almıştır ?

A) 20 B) 30 C) 40 D) 50

23) Umut güneş batarken yüzünü güneşe dönmüş ve iki kolunu yana uzatmış. Buna göre Umut'un sağ kolu hangi yönü gösterir?

A) Kuzey

B) Güney

C) Doğu

D) Batı

24) □ Antep'te Şahin Bey

□ Maraş'ta Hasan Tahsin

□ Erzurum'da Kazım Karabekir Paşa

Yukarıda Milli Mücadele kahramanları ve mücadele ettikleri yerler verilmiştir. Verilenlerden doğru olanlara "D", yanlış olanlara "Y" yazarsak hangi sonuç ortaya çıkar?

A) 

Y
Y
D

B) 

D
D
D

C) 

Y
D
D

D) 

D
Y
D

25)

Çubukla yön bulma yönteminde , yere dikilen çubuğun gölge boyu en kısa durumdayken gölgenin gösterdiği yön kuzeydir.

Öğretmen Kerem'e yere dikilen çubuğun gölgesinin en kısa olabileceği saati sormuş. Buna göre Kerem aşağıdakilerden hangisini söylerse doğru cevabı vermiş olabilir ?

A) 15.00

B) 09.00

C) 17.00

D) 13.00

26)

yol , ağaç , deniz , baraj , park , tarla, nehir , kuşlar , köprü , binalar

Yukarıda kaç tane beşeri unsur vardır?

A) 4

B) 5

C) 6

D) 7

27)



Üyesi olduğum kulüp sayesinde ihtiyacı olanlara yardım etmenin ve kan bağışının ne kadar önemli olduğunu anladım.

Ozan'ın konuşmasına göre hangi öğrenci kulübüne üye olduğu söylenebilir?

- A) Kızılay kulübü
- B) Yeşilay kulübü
- C) Sağlık ve temizlik kulübü
- D) İzcilik kulübü

28) Sorumluluklarımızla ilgili aşağıdakilerden hangisi **yanlıştır**?

- A) Sorumluluk duygusuna sahip kişiler kendilerine ve çevrelerine faydalı olurlar.
- B) Ailemize ve okulumuza karşı sorumluluklarımız vardır.
- C) Verilen sözleri yerine getirmesek de olur.
- D) Sorumluluklarımızı yerine getirirsek kendimize karşı güven artar.

29) Aşağıdakilerden hangisini yaparsak zaman israfının önüne geçmiş oluruz?

- A) Sokakta az zaman geçirirsek.
- B) Hayatımızı planlamalı ve işlerimizi bu plana göre yaparsak.
- C) Günümüzün önemli bir bölümünde uyuşsak.
- D) Ailemizle daha çok zaman geçirirsek.

30) Oğuz : Alışveriş yaparken ambalaj benim için çok önemlidir.

Tuna: Manavdan aldığımız sebze ve meyvenin tazeliğine dikkat ederiz.

Nisa : Alışverişten sonra fiş veya fatura alırız.

Yeliz: Yeni aldığımız eşyanın kısa sürede bozulması durumunda hakkımızı aramıyoruz.

Yukarıdaki davranışlardan hangileri bilinçli tüketici davranışı değildir ?

- A) Oğuz - Tuna
- B) Nisa - Yeliz
- C) Tuna - Yeliz
- D) Oğuz - Yeliz

- 31) Proteinler  1  3 Makarna , ekmek , piriç
- Vitaminler  2  4 Yeşil yapraklı sebzeler, süt ürünleri
- Karbonhidratlar  3  2 Et , süt , yumurta
- Mineraller  4  1 Meyve ve sebzeler

Yukarıda besinlerle içerikler eşleştirilmiştir. Eşleştirmenin hangileri yanlış yapılmıştır?

- A) Karbonhidratlar ve mineraller  
B) Proteinler ve karbonhidratlar  
C) Proteinler ve vitaminler  
D) Vitaminler ve mineraller

- 32) Fosillerle ilgili aşağıdakilerden hangisi yanlıştır?

- A) Kısa sürede meydana gelirler.  
B) Bitki ve hayvanların taşlaşmış kalıntılarıdır.  
C) Kayaçlar arasında oluşur.  
D) Oluşmaları rastlantıya bağlıdır.

- 33)  Mevsimler oluşmaz.  
 Gece ve gündüz birbirini takip etmez.  
 Dünya'nın bir yüzü hep gece olur.  
 Aylar oluşmaz.

Dünya kendi eksenini etrafında dönmezse yukarıdaki sonuçlardan hangisi ortaya çıkar?

- A)    B)
- C)   D)

- 34) Dengeli ve sağlıklı beslenmek için aşağıdakilerden hangisi daha az tüketilmelidir?

- A) Süt ve süt ürünleri  
B) Sebze ve meyveler  
C) Et ve yumurta  
D) Şeker ve yağ oranı yüksek yiyecekler

- 35) I - Duvara çarpan top yön değiştirir.  
II - Hareketli bir cisme uygulanan kuvvet onu durduramaz.  
III- Kuvvet cisimlerin şeklini değiştirebilir.  
IV- Topa vuran bir kişi çekme kuvveti uygulamış olur.

Yukarıda verilen bilgilerden hangileri yanlıştır ?

- A) I - II B) II - IV  
C) III - IV D) II - III

- 36)  Mıknatıs çeker  Suda batar

- Esnektir  Su geçirmez

Yukarıdaki özelliklerden hangileri yandaki eşya için söylenebilir ?



demir kaşık

- A)    B)
- C)    D)

- 37) I – Meyveleri su dolu bir kaptan yıkamak.  
II – Televizyonu ve bilgisayarın kapatırken  
lerini çekmeliyiz.  
III- Buzdolabının kapağını uzun süre açık bırakabiliriz.  
IV- Duşta uzun süre kalmalıyız.
- Yukarıda verilen hangileri kaynakların bilinçli tüketilmesine yönelik davranışlardır?

- A) I - II                      B) II - III  
C) I - IV                     D) II – IV

- 38) Sude'nin babası her işten geldiğinde sinirli oluyor ve başı ağrıyormuş. Ayrıca uyku problemi yaşıyormuş.





Yukarıda anlatılanlara göre Sude'nin babası nerede çalışıyor olabilir?

- A) kütüphanede    B) fabrikada  
C) hastanede        D) bankada

- 39) elma kabukları , pet şişe , cam kavanoz ağaç yaprakları , teneke kutu , atık yağ dergi , yemek atıkları , poşet, ekmek

Yukarıdakilerden kaç tanesinin geri dönüşümü mümkündür?

- A) 7                              B) 4  
C) 6                              D) 5

- 40)  Göçmen kuşlara zarar verir.  
Pelin  
 Yıldızları daha iyi görürüz.  
Kenan  
 Deniz kaplumbağaları yollarını daha kolay bulurlar.  
Yaren  
 Gözlemevleri yerleşim yerleri dışına kurulmaktadır.  
Sinan

Öğretmen öğrencilere ışık kirliliğinin sebep olacağı olayları sormuş. Buna göre hangi çocuklar soruya yanlış cevap vermişlerdir?

- A) Sinan – Yaren  
B) Pelin - Yaren  
C) Kenan - Yaren  
D) Pelin – Kenan



## CEVAP ANAHTARI

### TÜRKÇE

- 1) C
- 2) B
- 3) C
- 4) A
- 5) D
- 6) D
- 7) B
- 8) A
- 9) C
- 10) B

### MATEMATİK

- 11) B
- 12) D
- 13) C
- 14) A
- 15) C
- 16) B
- 17) A
- 18) D
- 19) C
- 20) A

### SOSYAL BİL.

- 21) B
- 22) B
- 23) A
- 24) D
- 25) D
- 26) C
- 27) A
- 28) C
- 29) B
- 30) D

### FEN BİLİM.

- 31) C
- 32) A
- 33) D
- 34) D
- 35) B
- 36) C
- 37) A
- 38) B
- 39) C
- 40) C