

1) **Uzunluk ölçüleri** ile ilgili aşağıdaki bilgilerden hangisi doğru değildir?

- A) İnsanların boylarının uzunlukları kilometre ile ifade edilir.  
 B) Bin metreden fazla olan uzunlukları kilometre ile ölçeriz.  
 C) Kilometre metreden daha uzun bir ölçüdür.

2)

?	Evimizdeki odalar arası mesafe
?	Ülke sınırlarının uzunlukları
?	İzmir-İstanbul arası mesafe
?	Kitabımızın boyunun uzunluğu

**Soru işareti** olan alanlara yazılması gereken uzunluk ölçü birimleri hangi şıkta doğru yazılmıştır?

- A) 

km
km
m
m

      B) 

m
km
m
m

      C) 

m
km
km
cm

3) Aşağıdaki **uzunluklardan** hangisinin ölçümünde diğerlerinden farklı bir uzunluk ölçü birimi kullanılır?

- A) Duvarın uzunluğunu ölçerken  
 B) Gezegenler arası mesafeyi ölçerken  
 C) Kamyonun uzunluğunu ölçerken





4)

1500 m	→	1 km 50 m
25000 m	→	25 km
3 km 3m	→	3030 m
4 km 10 m	→	4001 m

Yukarıdaki eşleştirmelerden kaç tanesinde **hata** yapılmıştır?

- A) 3      B) 2      C) 1

5)

2 km	999 cm	1200 m	15 km
			

Her biri meyve ile eşleşen **mesafelerin** uzundan kısaya doğru dizilişi hangisidir?

- A) çilek - üzüm - karpuz - armut  
 B) üzüm - çilek - armut - karpuz  
 C) karpuz - armut - çilek - üzüm

6)



**Arda** 1 km'lik yolun önce çeyreğini ardından kalan yolun yarısını yürümüştür.

Buna göre **Arda'nın** yürüyeceği ne kadar yolu kalmıştır?

- A) 360 m      B) 425 m      C) 375 m



Yukarıda ilçeler arası mesafeler verilmiştir. **Ali** ve **Oya'nın** kat ettikleri mesafeler şöyledir:

- **Ali** Bakırköy'den Tuzla'ya gitmiş, Tuzla'dan da Çatalca'ya gidip tekrar Tuzla'ya geri dönmüştür.
- **Oya** Pendik'ten Adalar'a gitmiş, Adalar'dan da Avcılar'a gitmiştir.

Buna göre **Oya** ve **Ali'nin** kat ettikleri toplam mesafeler hangi şıkta doğru verilmiştir?

<u>Oya</u>		<u>Ali</u>
A) 47 km	–	155 km
B) 63 km	–	257 km
C) 155 km	–	63 km

8)



Ayla

İki kardeşin boy uzunlukları farkı 24 cm'dir. **Eda'nın** boyu 1 m 35 cm'dir.



Eda

Yukarıdaki bilgilere göre **Ayla'nın** boyu kaç cm'dir?

- A) 159 cm   B) 111 cm   C) 169 cm

- 9)
- Hakan, Melih'ten daha fazla yol gitmiştir.
  - Melih, Merve'den daha fazla yol gitmiştir.
  - Melih 395 km yol gitmiştir.

Yukarıdaki **ipuçlarına** göre, aşağıdaki mesafelerden hangileri Hakan ve Merve'nin gittikleri mesafeler olamaz?

	Hakan		Merve
A)	396 km	–	394 km
B)	392 km	–	397 km
C)	426 km	–	251 km

10)



Yarisinin uzunluğu 5 m 64 cm olan bir ipin çeyreğini kullanan terzinin **geriye** kaç cm ipi kalmıştır?

- A) 566 cm   B) 756 cm   C) 846 cm

11)



3 adım 192 cm olan Efe, oturma odasının kısa kenarını tam 5 adım, uzun kenarını ise tam 8 adımla ölçmüştür.

Yukarıda verilen bilgiye göre odanın tüm kenarlarının uzunlukları toplamı kaç **metre** kaç **santimetredir** ?

- A) 16m 64cm   B) 11m 52cm   C) 8m 32cm

# CEVAP ANAHTARI

- 1) A
- 2) C
- 3) B
- 4) A
- 5) C
- 6) C
- 7) B
- 8) A
- 9) B
- 10) C
- 11) A