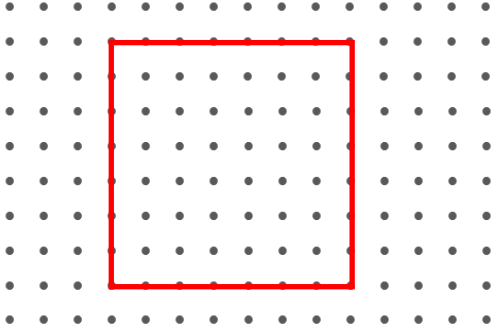


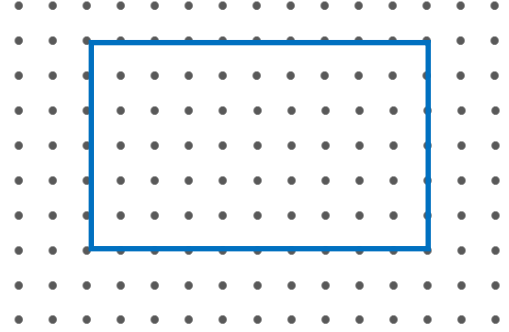


## ŞEKİLLERİN ÇEVRE UZUNLUKLARI

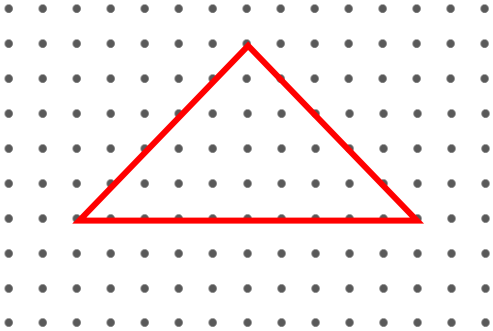
☞ Aşağıdaki şekillerin çevre uzunluklarının kaç birim olduğunu bulalım. ( İki nokta arası 1 birimdir.)



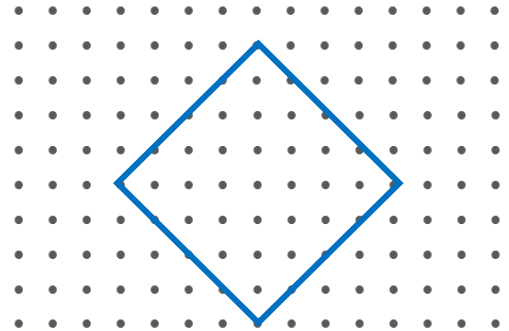
Karenin çevresi ..... birimdir.



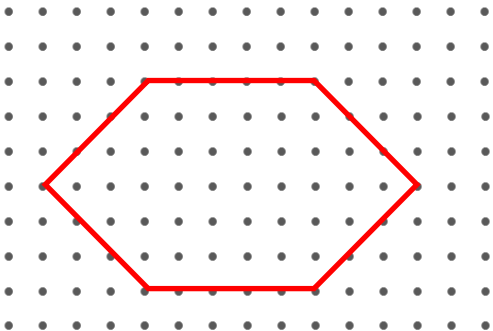
Dikdörtgenin çevresi ..... birimdir.




Üçgenin çevresi ..... birimdir.



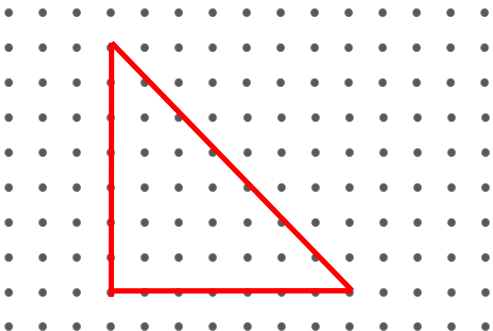
Dörtgenin çevresi ..... birimdir.



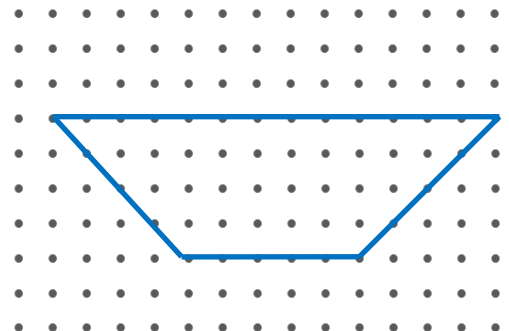
Altıgenin çevresi ..... birimdir.



Beşgenin çevresi ..... birimdir.



Üçgenin çevresi ..... birimdir.



Dörtgenin çevresi ..... birimdir.