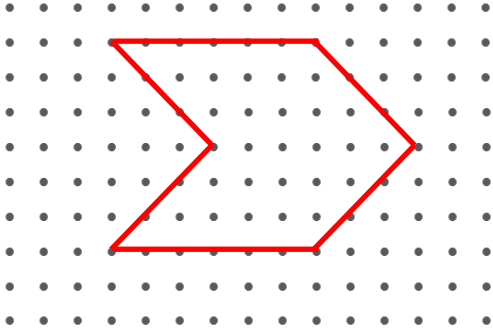


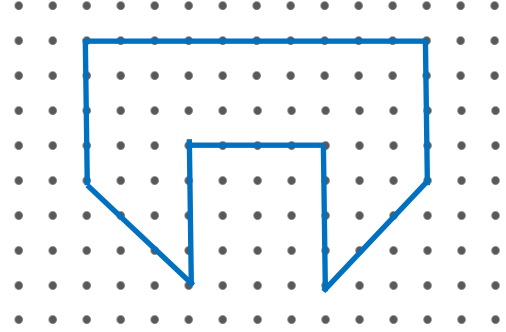


## ŞEKİLLERİN ÇEVRE UZUNLUKLARI

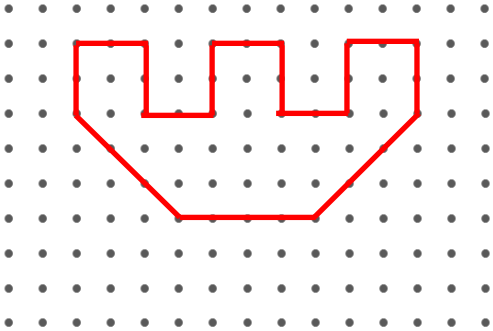
☼ Aşağıdaki şekillerin çevre uzunluklarının kaç birim olduğunu bulalım. ( İki nokta arası 1 birimdir.)



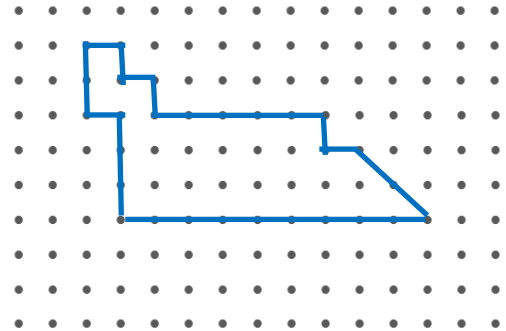
Şeklin çevresi ..... birimdir.



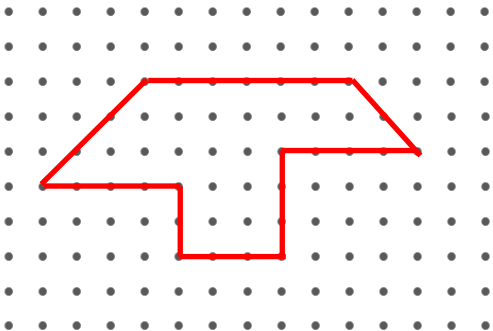
Şeklin çevresi ..... birimdir.



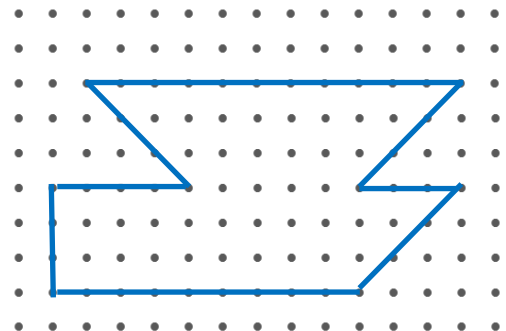
Şeklin çevresi ..... birimdir.




Şeklin çevresi ..... birimdir.



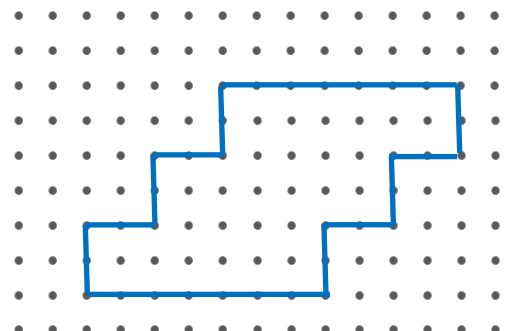
Şeklin çevresi ..... birimdir.



Şeklin çevresi ..... birimdir.



Şeklin çevresi ..... birimdir.



Şeklin çevresi ..... birimdir.