





ŞEKİLLERİN ÇEVRE UZUNLUKLARI


🌀 Aşağıdaki geometrik şekilleri inceleyelim. Noktalı yerleri uygun şekilde dolduralım.



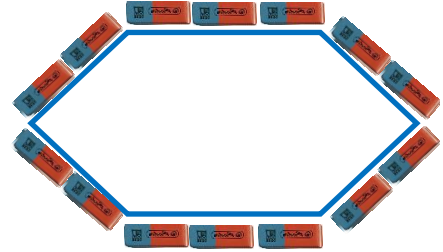
Karenin çevresi kalem boyundadır.



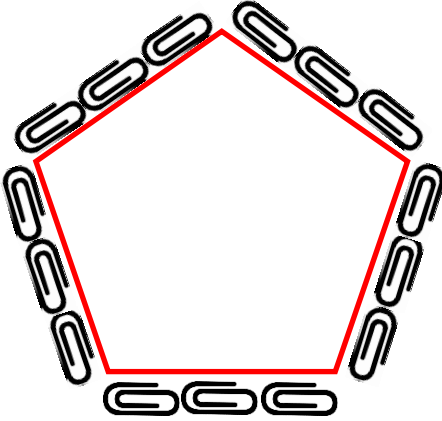
Dikdörtgenin çevresi kalem boyundadır.



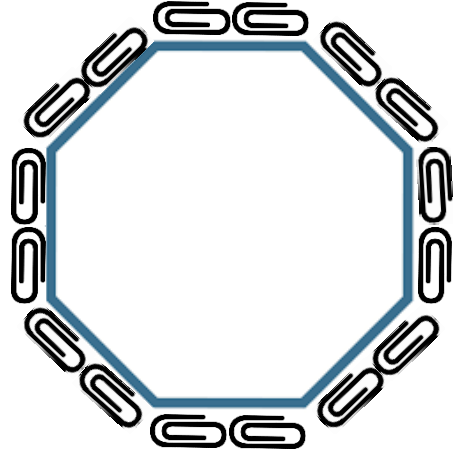
Üçgenin çevresi silgi boyundadır.




Altıgenin çevresi silgi boyundadır.



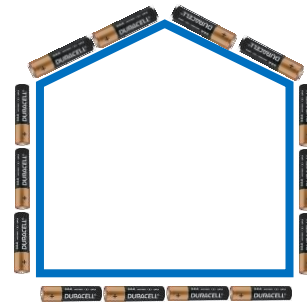
Beşgenin çevresi ataç boyundadır.



Sekizgenin çevresi ataç boyundadır.



Dörtgenin çevresi pil boyundadır.



Beşgenin çevresi pil boyundadır.