





- 1) Yarın minibüsle köye gideceğiz.

Utku yukarıdaki cümlede eylemi yapanın yazılı olduğu balonu patlatmış. Buna göre hangi balonu patlatmıştır ?

- A)  ben
- B)  sen
- C)  onlar
- D)  biz

- 2) Sıranın üzerindeki kalemimi almış.

Yukarıdaki cümlede noktalı yere aşağıdakilerden hangisi yazılabilir ?

- A) birisi
- B) kim
- C) sen
- D) siz

- 3) Dün onları(I) okul(II) bahçesinde top(III) oynarken gördüm(IV).

Yukarıdaki cümledeki kaç numaralı kelime ismin yerine kullanılan bir kelimedir ?

- A) III
- B) II
- C) IV
- D) I

- 4) I – Kuş o ağaca kondu.
II- O elbiseyi çok beğendim.
III- O , okulumuzda en hızlı koşan çocuktur.
IV- O kitabı Suna okuyacakmış.
"o" kelimesi yukarıdaki cümlelerin hangisinde ismin yerine kullanılmıştır?





- A) I
- B) II
- C) III
- D) IV

- 5) **Gaye ve Burak** bayramda apart-
manda şeker toplamışlar.



Yukarıdaki cümlede altı çizili kelimeler yerine aşağıdakilerden hangisi yazılabilir?

- A) siz
- B) onlar
- C) biz
- D) o

- 6)  Parktaki kuşlara yem attım.
 Kutuyu tek başına eve taşıdı.
 Haftada iki gün yüzmeye gidiyoruz.
 Okuduğum kitabı Melih'e verdim.

Yukarıdaki cümlelerden hangilerinde eylemi yapan kişi "ben" dir?

- A)  
- B)  
- C)  
- D)  

7) ● parkta buluşacaklar.

△ Masayı mi sildin?

□ Kutuları okula taşıdık.

Yukarıdaki cümlelerde noktalı yerlere sırayla hangi kelimeler gelmelidir ?

● △ □

- | | | |
|----------|-----|-----|
| A) onlar | sen | biz |
| B) ben | sen | biz |
| C) siz | sen | ben |
| D) onlar | ben | biz |

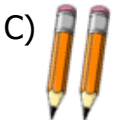
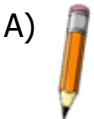
8) Aşağıdaki cümlelerin hangisinde ismin yerine kullanılan bir kelime **yoktur**?

- A) Kütüphaneye sen de gel.
B) O kırmızı araba bizim.
C) Biz bahçede çilek topladık
D) Duman'ı parkta ben gezdirdim.

9) Havuzda biz yüzerken sen fotoğrafımızı çek.



Enes söylediği cümlede kaç tane ismin yerine kullanılan kelime varsa o kadar kalem alacaktır. Buna göre Enes kaç tane kalem alır?



10) I – Aldığı dondurmayı kardeşine vermiş.
II- Pazar günü pikniğe gideceğiz.
III- Ödevini bitirince parka gel.
IV- Kümesten yumurta getireceğim.

Yukarıdaki cümlelerde eylemi yapan kişiler hangisinde **yanlış verilmiştir**?

- A) III - Sen B) II - Biz
C) IV - Ben D) I - Sen

11) **Annem , ablam ve ben** yürüyerek teyzemlere gittik.

Yukarıdaki cümlede altı çizili kelimeler yerine aşağıdakilerden hangisi yazılabilir ?


- A) onlar B) siz
C) biz D) bunlar

12) Yarın sabah kalkınca şunları buraya o taşıyın.

Yukarıdaki cümlede ismin yerine kullanılan kelimeler hangisinde doğru olarak verilmiştir?

- A) şunları / buraya / o
B) yarın / şunları / o
C) sabah / buraya / o
D) şunları / o / taşıyın

1)



Yukarıdaki hayvanların gerçek büyüklüklerini ele aldığımızda hangilerinin kütleleri ton ile ifade edilebilir?

A)  B)  C)  D)  

2)



300 g

Seda



250 g

Cihan



500 g

Melih



600 g

Tuğçe

Öğretmen öğrencilere yarım kilogramın kaç gram olduğunu sormuş. Soruya kim doğru cevap vermiştir?

A) Cihan

B) Melih

C) Tuğçe

D) Seda

3) 250 gram 1 kilogramın kaçta kaçıdır?

A) $\frac{1}{5}$ B) $\frac{1}{4}$ C) $\frac{1}{2}$ D) $\frac{1}{3}$

4) I - 7 tane yarım kilogram

II- 4 tane 1 kilogram

III- 14 tane çeyrek kilogram

IV- 8 tane yarım kilogram

Yukarıdaki kütle ölçüm sonuçlarından hangileri birbirine eşittir ?

A) I ile II

B) II ile III

C) I ile III

D) III ile IV

5)

Manavdan $\frac{1}{2}$ kg kivi aldım.



Yukarıda Sude'nin verdiği bilgiye göre aşağıdakilerden hangisi **yanlıştır**?

A) 3 tane çeyrek kg kivi almış.

B) Yarım kg kivi almış.

C) 500 g kivi almış.

D) 2 tane çeyrek kg kivi almış.

6)

I



II



III



IV



Yukarıdaki hayvanlardan hangilerinin kütleleri miligram ile ifade edilir?

A) II - III

B) I - IV

C) II - IV

D) III - IV

- 7) Yarım kg pul biber , yarım kg kuru nane , çeyrek kg kara-biber, çeyrek kg tarçın aldık.



Yukarıda alınanlar toplam kaç gramdır?

- A) 1250 g B) 1400 g
C) 1600 g D) 1500 g

- 8) I – 5740 g 5 kg 74 g
II – 5074 kg 5 t 740 kg
III- 5074 g 5 kg 740 g
IV- 5740 kg

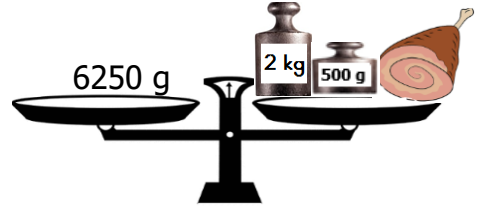
Yukarıda eşit olan kütle ölçüleri eşleştirildiğinde hangisi açıkta kalır?

- A) II B) IV
C) I D) III

- 9) Aşağıdaki açıklamalardan hangisi **yanlıştır**?

- A) 1 kg 4 tane çeyrek kg eder.
B) Çeyrek kg 200 g eder.
C) Yarım kg 2 tane çeyrek kg eder.
D) 8 tane çeyrek kg 2 kg eder.

- 10)



Bu terazi dengede aldığına göre etin kütlesi aşağıdakilerden hangisidir?

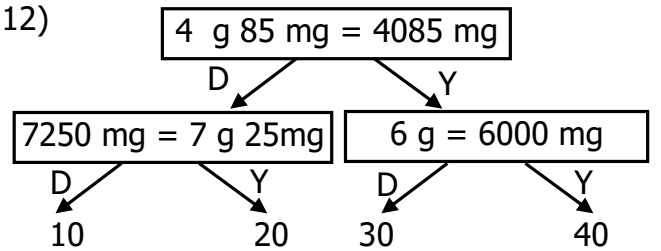
- A) 3500 g B) 4750 g
C) 3650 g D) 3750 g

- 11) $8 \text{ t} - 5850 \text{ kg} = \bullet$
 $9000 \text{ kg} - 6 \text{ t} = \blacksquare$
 $\bullet + \blacksquare = ?$

Yukarıdaki işlemin sonucu aşağıdakilerden hangisidir?

- A) 5250 kg B) 6 t 150 kg
C) 5 t 150 kg D) 6250 kg

- 12)



Yukarıdaki doğru ve yanlış ifadelerine göre tablo takip edildiğinde hangi çıkışa ulaşılır?

- A) 20 B) 10
C) 30 D) 40

- 1) ☆ Ülkemizle kendilerini "iki devlet bir millet" olarak ifade eden kardeş ülkedir.
☆ Doğu sınırimızdaki Nahcivan Özerk Cumhuriyeti nedeniyle komşumuz durumundadır.

Yukarıda anlatılan ülke aşağıdakilerden hangisidir?

- A) Özbekistan B) Suriye
C) Azerbaycan D) Gürcistan

- 2) 2011 yılında başlayan iç savaş nedeniyle sorunlar yaşayan halkından birçok kişi ülkemize sığınmıştır. Ülkemizin güney komşusudur ve başkenti Şam'dır

Yukarıda anlatılan ülke aşağıdakilerden hangisidir?

- A) Ermenistan B) Irak
C) İran D) Suriye

- 3) ● Ermenistan
■ Bulgaristan
▲ Yunanistan
◆ Gürcistan

Yukarıdaki ülkelerden hangileri Avrupa Kıtası'ndan komşumuz olan ülkelerdir?

- A) ■ ▲ B) ▲ ●
C) ● ■ D) ◆ ■

- 4) Bulgaristan – Kuzey Kıbrıs Türk Cumhuriyeti – Özbekistan – Gürcistan – Kazakistan – Kırgızistan – Irak - Suriye

Yukarıdaki ülkelerden kaç tanesi Türk Cumhuriyeti'dir ?

- A) 2 B) 3
C) 4 D) 5

- 5) ☆ Orta Asya'daki Türk Cumhuriyetleri arasında en geniş yüzölçümüne sahip ülkedir.
☆ Türk Cumhuriyetleri arasında en fazla ithalat ve ihracat yaptığımız ülkedir.

Yukarıda anlatılan ülke aşağıdakilerden hangisidir?

- A) Azerbaycan B) Kazakistan
C) Özbekistan D) Türkmenistan

- 6) Ülkemizde "Yavru Vatan" denilince aklımıza bu ülke gelir.



Yukarıda anlatılan ülke aşağıdakilerden hangisidir?

- A) Kırgızistan
B) Türkmenistan
C) Azerbaycan
D) Kuzey Kıbrıs Türk Cumhuriyeti

7) Aşağıdaki bilgilerden hangisi yanlıştır?

- A) Ülkemiz Asya ve Avrupa kıtaları arasındadır.
- B) Ülkemizin büyük bir kısmı Avrupa kıtasındadır.
- C) Ülkemizin üç tarafı denizlerle kaplıdır.
- D) Ülkemizin güneyindeki ülkelerde zengin petrol yatakları vardır.

8) Bakü – Tiflis – Ceyhan Petrol Boru Hattı ile ülkemizle bu ülkeler arasında iş birliğine gidilmiş ve ilişkilerimiz her alanda gelişmiştir .

Yukarıda anlatılan ülkeler aşağıdakilerden hangisidir?

- A) Azerbaycan - Gürcistan
- B) Azerbaycan - İran
- C) Gürcistan - Irak
- D) Azerbaycan - Türkmenistan

9) 1993 yılından bu yana komşularımızdan hangi ülke ile sınır kapılarımız kapalı durumdadır?

- A) Gürcistan
- B) İran
- C) Ermenistan
- D) Bulgaristan

10) ☆ Ülkemizin batısında bulunan komşu ülkedir.
☆ Nüfusunun bir bölümü Türklerden oluşur.
☆ Aramızdaki en önemli geçiş noktalarından biri Edirne'deki Kapıkule Sınır Kapısı'dır


Yukarıda anlatılan ülkeler aşağıdakilerden hangisidir?

- A) Bulgaristan
- B) Gürcistan
- C) Yunanistan
- D) Suriye

11) Güney komşumuz , en uzun kara sınırimızın olduğu ülkedir.

Yukarıda noktalı yere aşağıdaki ülkelerden hangisi gelmelidir?

- A) İran
- B) Bulgaristan
- C) Gürcistan
- D) Suriye

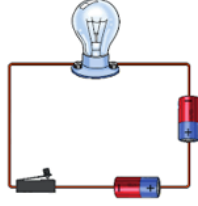
12)  Mustafa Kemal Atatürk'ün doğduğu şehir olan Selanik bu ülkenin sınırları içindedir.

Yukarıda bahsedilen ülke aşağıdakilerden hangisidir?

- A) Gürcistan
- B) Yunanistan
- C) Bulgaristan
- D) Arnavutluk

Basit Elektrik Devreleri Nasıl Çalışır ?

- 1) Yandaki basit elektrik devresi için aşağıdakilerden hangisi **söylenemez**?



- A) Ampul ışık vermez.
B) Devrede anahtar vardır.
C) Piller doğru yerleştirilmiştir.
D) Kablo sağlamdır.

2)



ampul

kablo

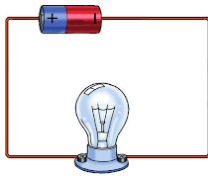
pil

anahtar

Yukarıdaki devre elemanları ile isimler eşleştirildiğinde hangi isim açıkta kalır ?

- A) kablo B) anahtar
B) ampul D) pil

- 3) Yandaki basit elektrik devresinde olmayan devre elemanı aşağıdakilerden hangisidir?

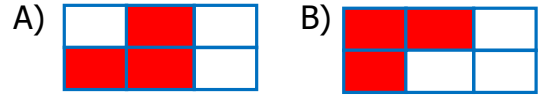


- A) duy B) anahtar
C) kablo D) pil


4)

ampul	pil	anahtar
kablo	pil yatağı	duy


Yukarıdaki basit bir elektrik devresini oluşturan elemanlarından bulunması zorunlu olanlar boyandığında aşağıdakilerden hangisi ortaya çıkar?



- 5) Basit bir elektrik devresinde ampulün takıldığı ve ampulün dik durmasını sağlayan devre elemanı aşağıdakilerden hangisidir?

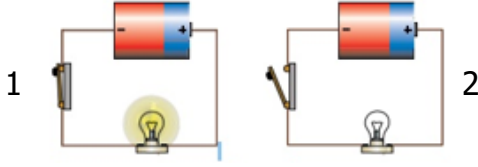


- 6) Yandaki elektrik devresinde ampulün yanmamasının sebebi aşağıdakilerden hangisi olamaz?



- A) Ampul bozuk olabilir.
B) Pilin bitmiş olması.
C) Anahtarın kullanılmamış olması.
D) Kablonun kopuk olması.

7)



Yukarıdaki 1. devrede ampul yanarken , 2. devrede ampul yanmamaktadır.Tüm devre elemanları sağlamdır.

Yukarıdaki devreler incelendiğinde aşağıdaki sonuçlardan hangisine varılabilir?

- A) Anahtar kapalı olursa ampul yanar.
- B) Anahtar açık olursa ampul yanar.
- C) 2. devrede pilin yönü yanlış.
- D) 2. devrede kablolar yanlış bağlanmış.

- 8) Kablolar devrenin enerji kaynağıdır.
 Kablo kopuk olursa devre çalışmaz.
 Bir devrenin çalışması için anahtar olmasa da olur.

Yukarıdaki cümlelerde doğruya "D" , yanlışlara "Y" yazdığımızda hangi sonuç ortaya çıkar?

- A)

D
D
D

 B)

Y
D
Y

 C)

D
D
Y

 D)

Y
D
D

- 9) Basit elektrik devresinde●..... kapalı ise■..... ışık verir.

Yukarıdaki boşluklara aşağıdakilerden hangileri yazılmalıdır?

- | | |
|------------|-------|
| ● | ■ |
| A) anahtar | duy |
| B) kablo | ampul |
| C) anahtar | ampul |
| D) pil | ampul |

10)

- | | | |
|--|-------------------------|------|
| | Duy , ampul ve kablo | Can |
| | Kablo , pil , ampul | Eda |
| | Kablo , anahtar , ampul | Asım |
| | Pil , anahtar , kablo | Aysu |

Öğretmen öğrencilerden basit bir elektrik devresi yapmalarını istemiş. Buna göre hangi öğrencinin kullandığı devre elemanları doğru bir şekilde bağlanırsa çalışır?

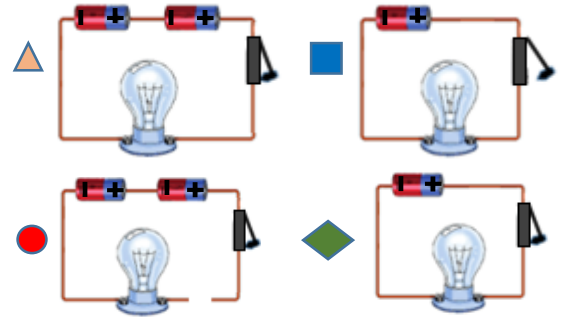
- A) Asım
- B) Eda
- C) Aysu
- D) Can

- 11) Yandaki devrede ampulün yanması için ne yapmak gerekir?



- A) Devreye pil eklenmeli.
- B) İkinci bir anahtar bağlanmalı.
- C) Daha kalın bir kablo kullanılmalı.
- D) Anahtar devreden çıkarılmalı.

12)



Yukarıdaki basit elektrik devrelerinden hangileri ışık **vermez**?

- A) ● ◆
- B) ▲ ◆
- C) ■ ▲
- D) ■ ●