





1) Yarın minibüsle köye gideceğiz.

Utku yukarıdaki cümlede eylemi yapanın yazılı olduğu balonu patlatmış. Buna göre hangi balonu patlatmıştır ?

- A)  ben
- B)  sen
- C)  onlar
- D)  biz

2) Sıranın üzerindeki kalemimi almış.

Yukarıdaki cümlede noktalı yere aşağıdakilerden hangisi yazılabilir ?

- A) birisi
- B) kim
- C) sen
- D) siz

3) Dün onları(I) okul(II) bahçesinde top(III) oynarken gördüm(IV).

Yukarıdaki cümledeki kaç numaralı kelime ismin yerine kullanılan bir kelimedir ?

- A) III
- B) II
- C) IV
- D) I

4) I – Kuş o ağaca kondu.
II- O elbiseyi çok beğendim.
III- O , okulumuzda en hızlı koşan çocuktur.
IV- O kitabı Suna okuyacakmış.
"o" kelimesi yukarıdaki cümlelerin hangisinde ismin yerine kullanılmıştır?

- A) I
- B) II
- C) III
- D) IV

5) **Gaye ve Burak** bayramda apart-
manda şeker toplamışlar.



Yukarıdaki cümlede altı çizili kelimeler yerine aşağıdakilerden hangisi yazılabilir?

- A) siz
- B) onlar
- C) biz
- D) o

6) ● Parktaki kuşlara yem attım.
■ Kutuyu tek başına eve taşıdı.
▲ Haftada iki gün yüzmeye gidiyoruz.
◆ Okuduğum kitabı Melih'e verdim.

Yukarıdaki cümlelerden hangilerinde eylemi yapan kişi "ben" dir?

- A) ■ ●
- B) ● ◆
- C) ▲ ●
- D) ◆ ▲

7) ● parkta buluşacaklar.

△ Masayı mi sildin?

□ Kutuları okula taşıdık.

Yukarıdaki cümlelerde noktalı yerlere sırayla hangi kelimeler gelmelidir ?

● △ □

- | | | | |
|----|-------|-----|-----|
| A) | onlar | sen | biz |
| B) | ben | sen | biz |
| C) | siz | sen | ben |
| D) | onlar | ben | biz |

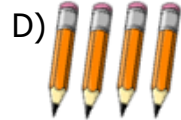
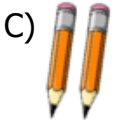
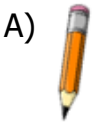
8) Aşağıdaki cümlelerin hangisinde ismin yerine kullanılan bir kelime **yoktur**?

- A) Kütüphaneye sen de gel.
B) O kırmızı araba bizim.
C) Biz bahçede çilek topladık
D) Duman'ı parkta ben gezdirdim.

9) Havuzda biz yüzerken sen fotoğrafımızı çek.



Enes söylediği cümlede kaç tane ismin yerine kullanılan kelime varsa o kadar kalem alacaktır. Buna göre Enes kaç tane kalem alır?



10) I – Aldığı dondurmayı kardeşine vermiş.
II- Pazar günü pikniğe gideceğiz.
III- Ödevini bitirince parka gel.
IV- Kümesten yumurta getireceğim.

Yukarıdaki cümlelerde eylemi yapan kişiler hangisinde **yanlış verilmiştir**?

- A) III - Sen B) II - Biz
C) IV - Ben D) I - Sen

11) **Annem , ablam ve ben** yürüyerek teyzemlere gittik.

Yukarıdaki cümlede altı çizili kelimeler yerine aşağıdakilerden hangisi yazılabilir ?

- A) onlar B) siz
C) biz D) bunlar

12) Yarın sabah kalkınca şunları buraya o taşıyın.


Yukarıdaki cümlede ismin yerine kullanılan kelimeler hangisinde doğru olarak verilmiştir?

- A) şunları / buraya / o
B) yarın / şunları / o
C) sabah / buraya / o
D) şunları / o / taşıyın

CEVAP ANAHTARI

1. D
2. A
3. D
4. C
5. B
6. B
7. A
8. B
9. C
10. D
11. B
12. A

1)



Yukarıdaki hayvanların gerçek büyüklüklerini ele aldığımızda hangilerinin kütleleri ton ile ifade edilebilir?

A)  B)  C)  D)  

2)



300 g

Seda



250 g

Cihan



500 g

Melih



600 g

Tuğçe

Öğretmen öğrencilere yarım kilogramın kaç gram olduğunu sormuş. Soruya kim doğru cevap vermiştir?

A) Cihan

B) Melih

C) Tuğçe

D) Seda

3) 250 gram 1 kilogramın kaçta kaçıdır?

A) $\frac{1}{5}$ B) $\frac{1}{4}$ C) $\frac{1}{2}$ D) $\frac{1}{3}$

- 4) I - 7 tane yarım kilogram
II- 4 tane 1 kilogram
III- 14 tane çeyrek kilogram
IV- 8 tane yarım kilogram

Yukarıdaki kütle ölçüm sonuçlarından hangileri birbirine eşittir ?

A) I ile II

B) II ile III

C) I ile III

D) III ile IV

5)

Manavdan $\frac{1}{2}$ kg kivi aldım.



Yukarıda Sude'nin verdiği bilgiye göre aşağıdakilerden hangisi **yanlıştır**?

- A) 3 tane çeyrek kg kivi almış.
B) Yarım kg kivi almış.
C) 500 g kivi almış.
D) 2 tane çeyrek kg kivi almış.

6)

I



II



III



IV



Yukarıdaki hayvanlardan hangilerinin kütleleri miligram ile ifade edilir?

A) II - III

B) I - IV

C) II - IV

D) III - IV

- 7) Yarım kg pul biber , yarım kg kuru nane , çeyrek kg kara-biber, çeyrek kg tarçın aldık.



Yukarıda alınanlar toplam kaç gramdır?

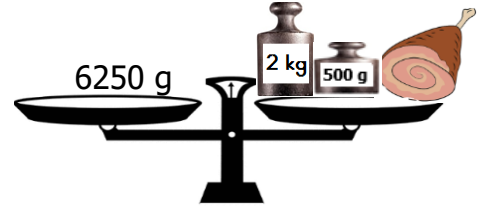
- A) 1250 g B) 1400 g
C) 1600 g D) 1500 g
- 8) I – 5740 g 5 kg 74 g
II – 5074 kg 5 t 740 kg
III- 5074 g 5 kg 740 g
IV- 5740 kg

Yukarıda eşit olan kütle ölçüleri eşleştirildiğinde hangisi açıkta kalır?

- A) II B) IV
C) I D) III
- 9) Aşağıdaki açıklamalardan hangisi **yanlıştır**?

- A) 1 kg 4 tane çeyrek kg eder.
B) Çeyrek kg 200 g eder.
C) Yarım kg 2 tane çeyrek kg eder.
D) 8 tane çeyrek kg 2 kg eder.

10)



Bu terazi dengede aldığına göre etin kütlesi aşağıdakilerden hangisidir?

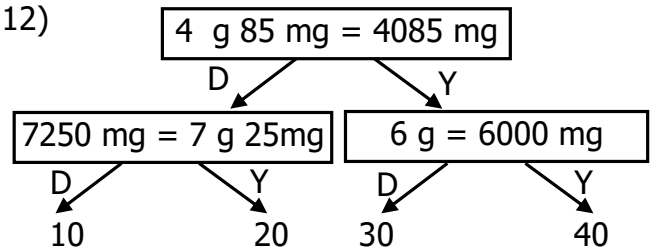
- A) 3500 g B) 4750 g
C) 3650 g D) 3750 g

- 11) $8 \text{ t} - 5850 \text{ kg} = \bullet$
 $9000 \text{ kg} - 6 \text{ t} = \blacksquare$
 $\bullet + \blacksquare = ?$

Yukarıdaki işlemin sonucu aşağıdakilerden hangisidir?

- A) 5250 kg B) 6 t 150 kg
C) 5 t 150 kg D) 6250 kg

12)



Yukarıdaki doğru ve yanlış ifadelerine göre tablo takip edildiğinde hangi çıkışa ulaşılır?

- A) 20 B) 10
C) 30 D) 40

CEVAP ANAHTARI

- 1) D
- 2) B
- 3) B
- 4) C
- 5) A
- 6) C
- 7) D
- 8) A
- 9) B
- 10) D
- 11) C
- 12) A

- 1) ☆ Ülkemizle kendilerini "iki devlet bir millet" olarak ifade eden kardeş ülkedir.
☆ Doğu sınırimızdaki Nahcivan Özerk Cumhuriyeti nedeniyle komşumuz durumundadır.

Yukarıda anlatılan ülke aşağıdakilerden hangisidir?

- A) Özbekistan B) Suriye
C) Azerbaycan D) Gürcistan

- 2) 2011 yılında başlayan iç savaş nedeniyle sorunlar yaşayan halkından birçok kişi ülkemize sığınmıştır. Ülkemizin güney komşusudur ve başkenti Şam'dır

Yukarıda anlatılan ülke aşağıdakilerden hangisidir?

- A) Ermenistan B) Irak
C) İran D) Suriye

- 3) ● Ermenistan
■ Bulgaristan
▲ Yunanistan
◆ Gürcistan

Yukarıdaki ülkelerden hangileri Avrupa Kıtası'ndan komşumuz olan ülkelerdir?

- A) ■ ▲ B) ▲ ●
C) ● ■ D) ◆ ■

- 4) Bulgaristan – Kuzey Kıbrıs Türk Cumhuriyeti – Özbekistan – Gürcistan – Kazakistan – Kırgızistan – Irak - Suriye

Yukarıdaki ülkelerden kaç tanesi Türk Cumhuriyeti'dir ?

- A) 2 B) 3
C) 4 D) 5

- 5) ☆ Orta Asya'daki Türk Cumhuriyetleri arasında en geniş yüzölçümüne sahip ülkedir.
☆ Türk Cumhuriyetleri arasında en fazla ithalat ve ihracat yaptığımız ülkedir.

Yukarıda anlatılan ülke aşağıdakilerden hangisidir?

- A) Azerbaycan B) Kazakistan
C) Özbekistan D) Türkmenistan

- 6) Ülkemizde "Yavru Vatan" denilince aklımıza bu ülke gelir.



Yukarıda anlatılan ülke aşağıdakilerden hangisidir?

- A) Kırgızistan
B) Türkmenistan
C) Azerbaycan
D) Kuzey Kıbrıs Türk Cumhuriyeti

7) Aşağıdaki bilgilerden hangisi yanlıştır?

- A) Ülkemiz Asya ve Avrupa kıtaları arasındadır.
- B) Ülkemizin büyük bir kısmı Avrupa kıtasındadır.
- C) Ülkemizin üç tarafı denizlerle kaplıdır.
- D) Ülkemizin güneyindeki ülkelerde zengin petrol yatakları vardır.

8) Bakü – Tiflis – Ceyhan Petrol Boru Hattı ile ülkemizle bu ülkeler arasında iş birliğine gidilmiş ve ilişkilerimiz her alanda gelişmiştir .

Yukarıda anlatılan ülkeler aşağıdakilerden hangisidir?

- A) Azerbaycan - Gürcistan
- B) Azerbaycan - İran
- C) Gürcistan - Irak
- D) Azerbaycan - Türkmenistan

9) 1993 yılından bu yana komşularımızdan hangi ülke ile sınır kapılarımız kapalı durumdadır?

- A) Gürcistan
- B) İran
- C) Ermenistan
- D) Bulgaristan

10) ☆ Ülkemizin batısında bulunan komşu ülkedir.
☆ Nüfusunun bir bölümü Türklerden oluşur.
☆ Aramızdaki en önemli geçiş noktalarından biri Edirne'deki Kapıkule Sınır Kapısı'dır


Yukarıda anlatılan ülkeler aşağıdakilerden hangisidir?

- A) Bulgaristan
- B) Gürcistan
- C) Yunanistan
- D) Suriye

11) Güney komşumuz , en uzun kara sınırlarına sahip olan ülkedir.

Yukarıda noktalı yere aşağıdaki ülkelerden hangisi gelmelidir?

- A) İran
- B) Bulgaristan
- C) Gürcistan
- D) Suriye

12)  Mustafa Kemal Atatürk'ün doğduğu şehir olan Selanik bu ülkenin sınırları içindedir.

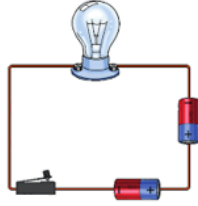
Yukarıda bahsedilen ülke aşağıdakilerden hangisidir?

- A) Gürcistan
- B) Yunanistan
- C) Bulgaristan
- D) Arnavutluk

CEVAP ANAHTARI

1. C
2. D
3. A
4. C
5. B
6. D
7. B
8. A
9. C
10. A
11. D
12. B

- 1) Yandaki basit elektrik devresi için aşağıdakilerden hangisi **söylenemez**?



- A) Ampul ışık vermez.
B) Devrede anahtar vardır.
C) Piller doğru yerleştirilmiştir.
D) Kablo sağlamdır.

2)



ampul

kablo

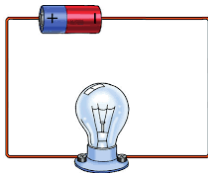
pil

anahtar

Yukarıdaki devre elemanları ile isimler eşleştirildiğinde hangi isim açıkta kalır ?

- A) kablo B) anahtar
B) ampul D) pil

- 3) Yandaki basit elektrik devresinde olmayan devre elemanı aşağıdakilerden hangisidir?




- A) duy B) anahtar
C) kablo D) pil

4)


ampul	pil	anahtar
kablo	pil yatağı	duy

Yukarıdaki basit bir elektrik devresini oluşturan elemanlarından bulunması zorunlu olanlar boyandığında aşağıdakilerden hangisi ortaya çıkar?

A)



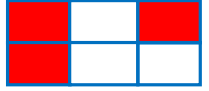
B)



C)



D)



- 5) Basit bir elektrik devresinde ampulün takıldığı ve ampulün dik durmasını sağlayan devre elemanı aşağıdakilerden hangisidir?

A)



B)




C)



D)

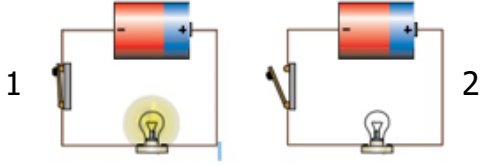


- 6) Yandaki elektrik devresinde ampulün yanmamasının sebebi aşağıdakilerden hangisi olamaz?



- A) Ampul bozuk olabilir.
B) Pilin bitmiş olması.
C) Anahtarın kullanılmamış olması.
D) Kablonun kopuk olması.

7)



Yukarıdaki 1. devrede ampul yanarken , 2. devrede ampul yanmamaktadır.Tüm devre elemanları sağlamdır.

Yukarıdaki devreler incelendiğinde aşağıdaki sonuçlardan hangisine varılabilir?

- A) Anahtar kapalı olursa ampul yanar.
- B) Anahtar açık olursa ampul yanar.
- C) 2. devrede pilin yönü yanlış.
- D) 2. devrede kablolar yanlış bağlanmış.

- 8) Kablolar devrenin enerji kaynağıdır.
 Kablo kopuk olursa devre çalışmaz.
 Bir devrenin çalışması için anahtar olmasa da olur.

Yukarıdaki cümlelerde doğruya "D" , yanlışlara "Y" yazdığımızda hangi sonuç ortaya çıkar?

- A) D Y C) D Y
 D D D Y
 D Y Y D

- 9) Basit elektrik devresinde●..... kapalı ise■..... ışık verir.

Yukarıdaki boşluklara aşağıdakilerden hangileri yazılmalıdır?

- A) anahtar duy
B) kablo ampul
C) anahtar ampul
D) pil ampul

10)

- Can: Duy , ampul ve kablo
Eda: Kablo , pil , ampul
Asım: Kablo , anahtar , ampul
Aysu: Pil , anahtar , kablo

Öğretmen öğrencilerden basit bir elektrik devresi yapmalarını istemiş. Buna göre hangi öğrencinin kullandığı devre elemanları doğru bir şekilde bağlanırsa çalışır?

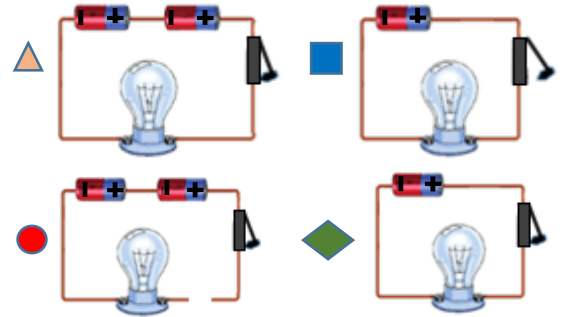
- A) Asım B) Eda
C) Aysu D) Can

- 11) Yandaki devrede ampulün yanması için ne yapmak gerekir?



- A) Devreye pil eklenmeli.
B) İkinci bir anahtar bağlanmalı.
C) Daha kalın bir kablo kullanılmalı.
D) Anahtar devreden çıkarılmalı.

12)



Yukarıdaki basit elektrik devrelerinden hangileri ışık **vermez**?

- A) ● ◆ B) ▲ ◆
C) ■ ▲ D) ■ ●

CEVAP ANAHTARI

1. C
2. D
3. B
4. B
5. A
6. C
7. A
8. D
9. C
10. B
11. A
12. D