


1) Aşağıdaki ifadelerden hangisi doğrudur?

- A) Herkesin karış uzunluğu aynıdır.
- B) Kulaç standart bir ölçü birimidir.
- C) Sıramızın uzunluğunu karış ile ölçebiliriz.

2) Aşağıdakilerden hangisinin uzunluğunu kulaç ile ölçemeyiz?



A)



B)



C)

3) Okul koridorunun uzunluğunu hangisi ile ölçmemiz daha uygun olur?

- A) parmak
- B) ayak
- C) adım

4) Aşağıdakilerden hangisinin boyu bir karış olabilir?



A)



B)



C)

5) Aşağıdaki öğrencilerden hangisi bir ağacın boyunu doğru tahmin etmiştir?

- A) Hakan- 1 cm
- B) Sude- 100 m
- C) Kerim- 3 m

6) Kollarımızı iki yana açarak oluşturduğumuz uzunluk aşağıdakilerden hangisidir?

- A) adım
- B) kulaç
- C) ayak



Zeynep'in 8 adımda ölçtüğü uzunluğu babası 6 adımda ölçmüştür.

Buna göre aşağıdakilerden hangisi doğrudur?

- A) Zeynep'in adımları daha büyüktür.
- B) Zeynep'in adımları daha küçüktür.
- C) Babasının adımları daha küçüktür.


8) Esmâ,Zeynep ve Yaren oturdukları sıranın boyunu karışla ölçtüler.Esmâ 12,Zeynep 14,Yaren ise 11 karış olarak ölçtû.Buna göre hangi öğrencinin karışı daha büyüktür?

- A) Esmâ B) Zeynep C) Yaren

9) Aşağıdaki varlıklardan hangisinin uzunluğu 1 metreden daha fazladır?



A)



B)



C)

10) Bir nesnenin gerçek uzunluğunu nasıl bulabiliriz?

- A) Nesneyi parmakla ölçerek  
B) Nesneyi adımla ölçerek  
C) Nesneyi metre ile ölçerek

11) İki öğrenci yanda verilen kalemin boyunu hangisi ile ölçerse sonuç değişmez?



- A) metre ile  
B) karışları ile  
C) adımları ile

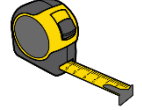
12) Aşağıdakilerden hangisi standart ölçme araçlarından birisidir?



A)



B)



C)

13) Aşağıda verilenlerden hangisini metre ile ölçerek satın alabiliriz?

- A) su hortumu  
B) süt  
C) un

14) Aşağıdaki uzunlukları ölçmek için yapılan eşleştirmelerden hangisi yanlıştır?

- A) kitabın boyu-adım  
B) kalemin uzunluğu-parmak  
C) bahçenin uzunluğu-adım

15) Aşağıdaki hayvanlardan hangisinin boyu diğerlerine göre daha kısadır?

- A) zürafa  
B) fare  
C) yılan