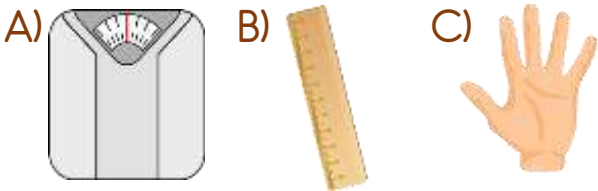


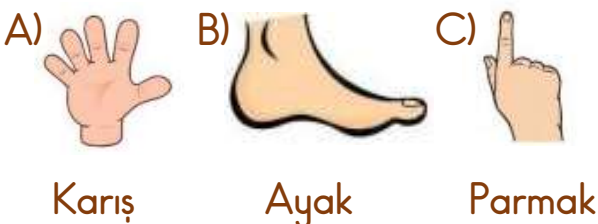
- 1) Herkesin parmak, karış, kulaç, ayak ve adım uzunlukları farklı olduğu için bu uzunluklara denir.

Yukarıdaki cümlede boş bırakılan yere hangisi gelmelidir?

- A) standart uzunluk ölçü birimleri
B) standart olmayan uzunluk ölçü birimleri
C) kişisel uzunluk ölçü birimleri
- 2) Hangisi standart olmayan uzunluk ölçü birimidir?



- 3) Silginin uzunluğunu aşağıdakilerden hangisi ile ölçebiliriz?



- 4): El parmağının eni kadar olan uzunluktur.

.....: İki kolumuzu açtığımızda, ellerimizin parmak uçları arasındaki uzunluktur.

.....: Ayağın baş parmağı ile topuğu arasındaki uzunluktur.

Yukarıdaki tanımlarda noktalı yerlere sırası ile hangi sözcükler gelmelidir?

- A) Karış - Kol - Adım
B) Parmak - Kulaç - Ayak
C) Parmak - Kulaç - Adım

- 5) Sınıfımızdaki tahtanın boyunu hangisi ile ölçebiliriz?



- A) Kulaç B) Karış C) Parmak

- 6) Aşağıdakilerden hangisi standart uzunluk ölçü birimidir?



7) Yandaki masanın boyunu hangisi ile daha doğru şekilde ölçebiliriz?



- A) Adım B) Metre C) Kulaç

8) Aşağıdakilerden hangisi standart uzunluk ölçü birimi değildir?

- A) Metre
B) Santimetre
C) Ayak

9)



Okul bahçesinin uzunluğunu Celil 35 adım, Ceylin ise 38 adım olarak bulmuştur.

Bu farklılığın sebebi aşağıdakilerden hangisidir?

- A) Celil'in Ceylin'den 1 yaş küçük olması
B) Adım uzunluklarının farklı olması
C) Cinsiyetlerinin farklı olması

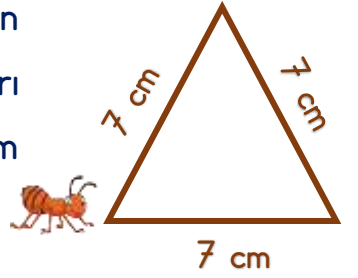
10)



Yukarıdaki pil kaç santimetredir?

- A) 3 cm B) 4 cm C) 5 cm

11) Yandaki üçgenin bütün kenarları eşit ve 7'şer cm uzunluktadır.



Karınca bulunduğu köşeden başlayıp üçgenin etrafında iki tam tur dolaştığında kaç cm yürümüş olur?

- A) 14 cm B) 21 cm C) 42 cm

12)



Ayşe evden çıkıp önce parka, sonra manava gitmiş. Manavdan sonra eve dönen Ayşe toplam kaç metre yürümüştür?

- A) 40 m B) 60 m C) 80 m

Cevap Anahtarı

1-B 2-C 3-C 4-B 5-A 6-A 7-B 8-C 9-B 10-B 11-C 12-C