



Oduncunun biri ırmak kenarında odun keserken baltasını suya düşürmüş ve başlamış ağlamaya. O esnada oradan geçen ihtiyar bir adam oduncunun haline acımış. İrmağa dalmış ve altın bir balta çıkarmış. "Bu mu senin baltan?" diye sormuş. Oduncu "Bu değil" deyince ihtiyar adam sudan asıl baltayı çıkarmış. İhtiyar adam, oduncuya doğru söylediği için hediye olarak da altın baltayı vermiş.

Oduncu evine dönünce başından geçenleri komşusuna anlatmış. Komşusu onu kıskanmış. Ertesi gün ırmak kenarına gitmiş. Baltasını suya atmış. Sonra başlamış ağlamaya. İhtiyar adam hemen gelmiş ve suya dalıp altın bir balta çıkarmış. "Bu mu senin baltan?" diye sormuş. Oduncu çok sevinmiş. "Evet, bu!" demiş. Ama ihtiyar adam onun yalancılığına çok kızmış. Altın baltayı vermediği gibi asıl baltasını da sudan çıkarmamış.

(İlk 5 soruyu metne göre cevaplayınız.)

- 1) Oduncu nerede odun kesiyormuş?
 - A) Göl kenarında
 - B) Irmak kenarında
 - C) Orman kenarında
- 2) Oduncu baltasını nereye düşürmüştü?
 - A) Yere
 - B) Kuyuya
 - C) Suyu
- 3) İhtiyar adam oduncuya niçin yardım etmişti?
 - A) Haline acıdığı için
 - B) Kendisine yalvardığı için
 - C) Arkadaşı olduğu için
- 4) İhtiyar adam oduncunun komşuna niçin yardım etmemişti?
 - A) Hırsızlık yaptığı için
 - B) Oduncuyu kıskandığı için
 - C) Yalan söylediği için
- 5) Metnin başlığı aşağıdakilerden hangisi olabilir?
 - A) İyiliksever Komşu
 - B) Yüzmeyi Seven İhtiyar
 - C) Doğru Sözlü Oduncu

6) Hangi görsel özel isimdir?



7) Aşağıdaki sözcüklerden hangisinin ilk harfi her zaman büyük yazılır?

A) Limon B) Kayra C) Deniz

8) "Ahmet kedisi Yaman'ı Kepez' deki bir veterinere götürmüş."

Yukarıdaki cümlede kaç tane özel isim vardır?

A) 3 B) 4 C) 5

9) Aşağıdaki cümlelerden hangisinde altı çizili sözcük özel isimdir?

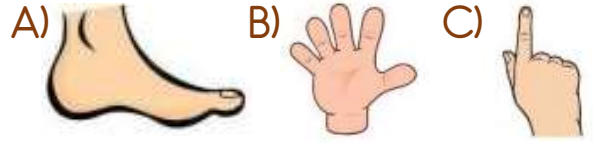
A) Annem bana kitap aldı.
B) Hemen okumaya başladım.
C) Keloğlan çok komikti.

10)  İzmir  Atatürk Caddesi
 Eymen  Mevlana İlkokulu

Yukarıdakilerden kaç tanesi özel isimdir?

A) 2 B) 3 C) 4

11) Masanın uzunluğunu aşağıdakilerden hangisi ile ölçebiliriz?



12) Kalemın boyunu Tuncay 8 parmak, Asiye 10 parmak olarak ölçmüştür.



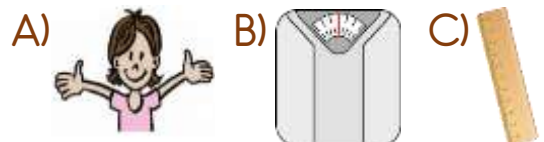
Bu farklılığın sebebi aşağıdakilerden hangisidir?

A) Cinsiyetlerinin farklı olması
B) Parmak kalınlıklarının farklı olması
C) Tuncay'ın daha kısa olması

13) Yandaki kitabın boyunu hangisi ile daha doğru bir şekilde ölçebiliriz?



14) Aşağıdakilerden hangisi standart uzunluk ölçü birimidir?



15) Aşağıdakilerden hangisi standart uzunluk ölçü birimlerinin kısa gösterilişi değildir?

- A) cm B) kg C) m

16)



Dikdörtgen şeklindeki koşu pistinin kısa kenarı 8, uzun kenarı 16 metredir.

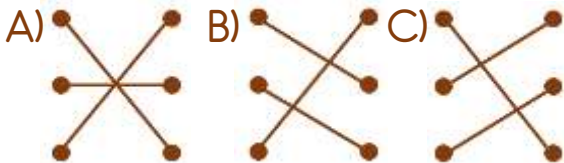
Koşu pistinde bir tam tur koşan çocuklardan her biri kaç metre koşmuş olur?

- A) 24 m B) 48 m C) 72 m

17)

- | | |
|-----------|----------------------------|
| Kar ● | ● Çatılar uçar. |
| Yağmur ● | ● Sel oluşur. |
| Fırtına ● | ● Çatılarda sarkıt oluşur. |

Yukarıdaki doğa olayları ile sebep oldukları zararlar nasıl eşleştirilmelidir?



18) Hangisi sisli havalarda alınması gereken bir önlemdir?



- A) Araçların sis farları açılmalı
B) Çatı ve balkonlardan uzak durulmalı
C) Eğimli arazilere ağaç dikilmeli

19) Doğal afetlerde afetzedelere yardım eden ve arama kurtarma çalışmaları yapan kuruluşlar hangi seçenekte verilmiştir?

- A) Yeşilay - ASAT
B) Kızılay-ASAT
C) Kızılay - AFAD

20)



Zeynep ile Yusuf görseldeki çalışma ile hangisini amaçlıyor olabilir?

- A) Sis oluşmasını önlemek
B) Deprem olmasını önlemek
C) Toprak kaymasını önlemek

Cevap Anahtarı

1-B 2-C 3-A 4-C 5-C 6-A 7-B 8-A 9-C 10-C 11-B 12-B 13-A 14-C 15-B 16-B
17-A 18-A 19-C 20-C