

UZUNLUKLARI ÖLÇME

1. Etkinlik: Aşağıdaki verilen standart olmayan ölçüm araçlarına ilişkin resimlerle isimlerini eşleştirelim.



...



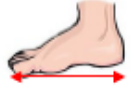
...



...



...



...

Parmak	Kulaç	Ayak	Karış	Adım
A	B	C	D	E

2. Etkinlik: Aşağıdaki soruları cevaplayarak doğru seçeneğin çiçeğini boyayalım.

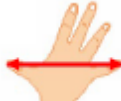
1. Kitabımın kalınlığını hangisiyle kolayca ölçebilirim.



4. Kitabımın boyunu hangisiyle kolayca ölçebilirim.



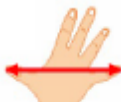
2. Halının boyunu hangisiyle kolayca ölçebilirim.



5. Odanın boyunu hangisiyle kolayca ölçebilirim.



3. Uzun bir kumaşın boyunu hangisiyle kolayca ölçebilirim.



6. Çay kaşığının boyunu hangisiyle kolayca ölçebilirim.

