

## UZUNLUKLARI ÖLÇME

1. Etkinlik: Aşağıda yapılan ölçüm sonuçlarını yazalım.



Çatal : .....



Çiçek : .....



Mandal : .....




Bıçak : .....



Ataç : .....



Tırtıl : .....



Çivi : .....



İğne : .....

2. Etkinlik: Ölçümlere bakarak aşağıda istenilen toplamları bulalım.




2 tane ataş : .....




2 tane kalem : .....



3 tane iğne : .....



3 tane çivi : .....



1 ataş + 1 çivi : .....



1 iğne + 1 tırtıl : .....