





- 1) ● Parktaki siyah güvercine yem attım.
 ■ Bahçede iki elma yedim.
 ▲ Arkadaşlarımla kutuları eve taşıdık.
 ◆ Dedemle parkta yürüyüş yaptık.

Yukarıdaki cümlelerden hangilerinde varlıkların özelliklerini belirten kelimelerden **yoktur**?

- A) ● ◆ B) ◆ ▲
 C) ▲ ● D) ■ ●

- 2) Gaye üzerinde varlıkların özelliklerini belirten kelimelerden yazılı olmayan elmayı yiyecektir. Buna göre Gaye hangi elmayı yer?

- A)  taze B)  demir
 C)  beş D)  okul

- 3) Annem topladığı acı biberlerle turşu yaptı.
 I II III IV

Yukarıdaki cümlede kaç numaralı kelime valığın özelliğini belirten kelimedir ?





- A) II B) IV
 C) III D) I


- 4) ◆ Umut soğuk ayran içti.
 ○ Hülya yüksek merdivenin sonuna kadar çıktı.
 □ Kısa adam parktaki çöpleri topladı.
 △ Ablam sert yastıkta yatamaz.

Yukarıdaki cümlelerin hangilerinde varlığın şeklini (biçimini) belirten kelime vardır ?

- A) ○ ◆ B) △ □
 C) □ ◆ D) ○ □

- 5) Aşağıdakilerden hangisi "Nasıl?" sorusuna cevap olur?

- A)  üçüncü kat
 B)  eski ayakkabı
 C)  şu çocuk
 D)  altı kuş

- 6) Pazardan tatlı biber , sulu limon ve yeşil elma aldık. 

Yukarıdaki cümlede varlıkların özelliklerini belirten kelimeler hangisinde doğru olarak verilmiştir?

- A) tatlı – yeşil - biber
 B) pazardan – yeşil – sulu
 C) tatlı – yeşil – sulu
 D) tatlı – limon – elma

- 7) ● Akşam eğlencemiz güzel olacak.
■ Ozan şiiri güzel okudu.
▲ Ela'nın güzel elbisesini herkes beğendi.
◆ Ablan resmi güzel yapmış.

Yukarıdaki cümlelerden hangisinde "güzel" kelimesi varlığın özelliğini belirtir?

- A) ■ B) ●
C) ▲ D) ◆

- 8) ⊙ yaşlı kadın
△ büyük armut
□ iki masa

Yukarıda sırayla varlıkların hangi özellikleri belirtilmiştir ?

	⊙	△	□
A)	durum	şekil	sayı
B)	durum	durum	sayı
C)	şekil	durum	sayı
D)	şekil	renk	sayı

- 9) Aşağıdaki cümlelerin hangisinde "korkmak" kelimesi varlığın özelliğini belirtir?



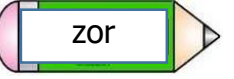

- A) Sude kaz kovalayınca çok korktu.
B) Elektrikler gidince çok korktum.
C) Ercan üzerini kirletince korkarak eve gitti.
D) Korkak köpek kediyi görünce kaçtı.

10)

Hastanedeki öfkeli adamı zor sakinleştirip , dışarı çıkardılar.



Kağan , yukarıdaki cümledeki varlığın özelliğini belirten kelimenin yazılı olduğu kalemi alacak. Buna göre Kağan hangi kalemi alır?

- A)  B) 
C)  D) 

- 11) Aşağıdaki cümlelerin hangisinde "yalnız" kelimesi varlığın özelliğini belirtir?

- A) Apartmanımızdaki yalnız kadına ekmek aldım.
B) Sizinle gelirim yalnız istediklerimi yapacaksınız.
C) Akşam evde yalnız kaldım.
D) Köyden buraya yalnız mı gelmiş?

- 12) I – Okul duvarı

II- Boyalı duvar

III- Kirli tabak

IV- Yemek tabağı


Yukarıdakilerin hangisinde varlığın özelliğini belirten kelime vardır ?

- A) I - III B) II - IV
C) II - III D) I - IV

- 1) ● $6 \text{ g} = 6000 \text{ mg}$
 ■ $2 \text{ t } 300 \text{ kg} = 2300 \text{ kg}$
 ▲ $4030 \text{ mg} = 4 \text{ g } 300 \text{ g}$
 ◆ $5 \text{ t } 100 \text{ kg} = 5010 \text{ kg}$





Yukarıdaki eşitliklerden hangileri yanlıştır?

- A) ● ■ B) ▲ ◆
 C) ■ ◆ D) ● ◆

- 2)  250 g fındık 15 lira

Oya'nın verdiği bilgiye göre 2 kg fındık alırsa satıcıya kaç lira öder ?

- A) 60 B) 110
 C) 130 D) 120

- 3)  87 kg  65 kg  274 kg  ?

Yukarıdaki hayvanların toplam ağırlığı 603 kg'dır. Buna göre eşeğin ağırlığı kaç kg'dır ?





- A) 177 B) 187
 C) 175 D) 179

- 4) Bir bakkal 3 kg kimyonu 150 g'lık poşetlere koymuş. Sonra poşetlerin tanesini 14 liraya satmış.

Yukarıda verilen bilgiye göre bakkal bu satıştan kaç lira elde eder ?

- A) 180 B) 280
 C) 260 D) 290

- 5) 6 ton 5000 gram kaç kilogramdır?

-  6050 kg  6005 kg
 Aysu Kayra
 650 kg  6500 kg
 Çetin Başak

Öğretmenin sorduğu soruya hangi çocuk doğru cevap vermiştir?

- A) Başak B) Aysu
 C) Kayra D) Çetin

- 6) Bir fırında her biri 50 kg olan 36 torba un vardı. Her gün 236 kg undan ekmek yapılmaktadır.

4 gün sonunda fırında kaç kg un kalmıştır?

- A) 866 B) 846
 C) 756 D) 856

7) $8 \text{ kg } \dots \text{ g} = 8126 \text{ g}$
 $5 \text{ g } \dots \text{ mg} = 5034 \text{ mg}$
 $\text{●} + \text{■} = ? \text{ mg}$

Yukarıdaki işlemin sonucu aşağıdakilerden hangisidir?

- A) 12634 B) 126034
C) 160 D) 1294

8) I - $\frac{20}{100} \text{ t} = \dots \text{ kg}$

II - $\frac{3}{10} \text{ g} = \dots \text{ mg}$

III - $\frac{40}{100} \text{ kg} = \dots \text{ g}$

Yukarıdaki noktalı yerlere sırayla aşağıdakilerden hangisi gelmelidir ?

	I	II	III
A)	20	300	400
B)	200	300	40
C)	200	300	400
D)	20	30	400

9) $4 \text{ kg } 200 \text{ g}$ ağırlığında bir yoğurt aldım. Yoğurdun boş kabı 350 g ağırlığındadır.



Buna göre Sude'nin aldığı yoğurdun ağırlığı ne kadardır?


- A) 3850 g B) 3950 g
C) 3750 g D) 4050 g

10) $5 \text{ t } 400 \text{ kg}$ patatesin $\frac{3}{8}$ ' ü satılmış.

Geriye kaç kg patates kalmıştır?

- A) 2025 B) 3385
C) 3375 D) 3275

11)



Yukarıdaki terazi dengededir. Bir tane armut 180 g olduğuna göre 1 tane elma kaç g'dır ?

- A) 540 g B) 145 g
C) 125 g D) 135 g

12)

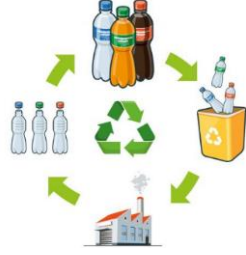
7 kg peynir aldık. 322 lira ödedik.



Aynı peynirden satıcı 38 kg sattığına göre satıcı bu satıcıdan kaç lira elde etmiştir?

- A) 1748 B) 1738
C) 1648 D) 1758

1) Yandaki görselden aşağıdaki ifadelerden hangisi anlatılmaktadır?



- A) Pet şişeler çevreyi kirletir.
 B) Plastik atıklar doğada çok çabuk yok olur.
 C) Atık plastik eşyaların geri dönüşümü mümkündür.
 D) Fabrikada plastik şişeler üretilir.

2) Yandaki eşyalar hangi kaynağın tasarruflu kullanımına yöneliktir?



- A) Doğalgaz
 B) Su
 C) Petrol
 D) Elektrik

3) olmadan canlıların yaşamlarını sürdürmeleri düşünülemez.



Yukarıdaki noktalı yere aşağıdakilerden hangisi **gelemez**?

- A) Su
 B) Elektrik
 C) Hava
 D) Besin

4) Dünyamızı diğer gezegenlerden ayıran en önemli özellik aşağıdakilerden hangisidir?

- A) Güneş sisteminde olması.
 B) Güneşin çevresinde dönmesi.
 C) Yaşam şartlarına sahip olması.
 D) Uydusunun olması.

5) ● Su kaynaklarının kirletilmesi

■ Bilinçsiz sulama

▲ Çevreyi ağaçlandırma

◆ Suyun tasarruflu kullanılmaması.

Yukarıdakilerden hangisi su kaynaklarının tükenmesine neden olmaz?

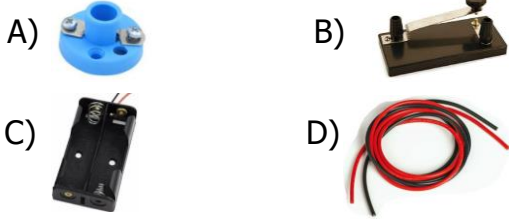
- A) ▲
 B) ●
 C) ■
 D) ◆

6) I – Her zaman ihtiyaçlarına öncelik verir.
 II- Su kaynaklarını korur.
 III-Ucuz bulduğu her şeyi alır.
 IV- Kaynakları fazlasıyla tüketir.

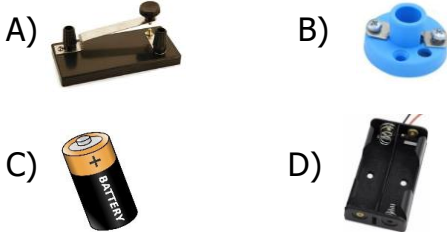
Yukarıdakilerden hangileri bilinçli tüketici davranışı değildir ?

- A) I-III
 B) III-IV
 C) II-III
 D) I-IV

7) Basit bir elektrik devresinde pil ile ampul arasında bağlantıyı sağlayan devre elemanı aşağıdakilerden hangisidir?







8) Yandaki resimde basit bir elektrik devresi oluşturmak için aşağıdakilerden hangisi boşluğa kesinlikle bağlanmalıdır?



Yukarıdaki araçların ortak özelliği aşağıdakilerden hangisidir?

- A) Temizlik amacıyla kullanılmaları.
B) Pil ile çalışmaları.
C) Elektrikle çalışıyor olmaları.
D) Aydınlatmak amacıyla kullanılmaları.

- 10)  Pil
 Ampul
 Sigorta
 Batarya

Yukarıdakilerden hangisi basit bir elektrik devresinin elemanı değildir?

- A)  B) 
- C)  D) 

11) Oya: Pil bitmiştir.

Can: Anahtar takmak gerekir.

Umut: Duy takmak gerekir.

Sude : Ampul patlamış olabilir.



Yukarıdaki basit elektrik devresinde ampul ışık vermemektedir. Öğretmen bunun sebebini öğrencilere sormuş. Kim doğru cevap vermiş olabilir?

- A) Can - Oya B) Oya - Sude
C) Umut - Can D) Umut - Sude

- 12) Basit elektrik devresinde anahtar kapalı ise ampul ışık verir.
 Basit elektrik devresinde kablo kesinlik olmalıdır.
 Basit elektrik devresinde pil olmasa da olur.

Basit elektrik devresini düşünerek yukarıdaki cümlelerde doğrulara "D" , yanlışlara "Y" yazdığımızda hangi sonuç ortaya çıkar?

- A)

D
D
Y

 B)

Y
D
D

 C)

Y
D
D

 D)

D
Y
Y

1) I-



II-



III-



IV-



Yukarıdakilerden hangileri kùltürümüze ait öğelerden **değildir**?

A) I - II

B) II - IV

C) III - IV

D) I - IV

2)

Akla ilk gelen yemekleri suşidir. Bu ÷lke-
de pirinç pilavı da çok sevilir. Yemek
yerken çubuk kullanırlar.

Yukarıda bahsedilen ÷lke aşağıdakilerden
hangisidir?

A) Japonya

B) Hindistan

C) Rusya

D) Almanya

3)



Boğa güreşleri



Flamenko dansı

Yukarıda kùltürel özellikleri verilen ÷lke
aşağıdakilerden hangisidir?

A) Fransa

B) Bulgaristan

C) İspanya

D) Hollanda

4)

Konuştukları dil Türkçe ile benzerlik gös-
terir. Dünyaca ünlü yemeđi gulaştır. Sirk
festivalleri yapılır ve dünyanın en büyük
sirk gösterileri sergilenir.

Yukarıda bahsedilen ÷lke aşağıdakilerden
hangisidir?

A) Yunanistan

B) Pakistan

C) Macaristan

D) Gürcistan

5)

● Tüm dünya ÷lkelerinin özellikleri aynı-
dır.

■ ÷lkeler farklı kùltürel özelliklere sahip-
tir.

▲ Tüm ÷lkeler kendilerine özgü ve ben-
zersizdir.

◆ Tüm ÷lkelerde inançlar aynıdır.

Yukarıdaki ifadelerden hangileri doğrudur?

A) ● ▲

B) ▲ ■

C) ● ■

D) ◆ ■

6) I - Müzik

II- Dini inanç

III- Coğrafi şekiller

IV- Dil

Yukarıdakilerden hangileri bir ÷lkenin kùltürel
öğelerindedir?

A) I - II - III

B) II - III - IV

C) I - III - IV

D) I - II - IV

- 7) Bu ülkede inekler uğurlu ve kut-sal sayılır. Film ve danslarıyla ün-lüdür.



Yukarıda anlatılan ülke aşağıdakilerden hangisidir?

- A) Çin B) Rusya
C) Afganistan D) Hindistan

- 8) Aşağıdakilerden hangisi ülkemize ait gele-neksel bir kıyafettir?



- 9) Bu ülke peynir ve laleleriyle ünlüdür. Yel değirmenleri ülkenin sembolüdür. Tahta terlikler bu ülkenin kültürel öğelerinden-dir.

Yukarıda anlatılan ülke aşağıdakilerden hangisidir?

- A) Hollanda B) Almanya
C) Fransa D) İspanya

- 10)



Yukarıdakilerden hangileri kültürümüze ait öğelerden **değildir**?

- A) B)
C) D)

- 11)

Hız.İsa'nın doğum günü nedeniyle geleneksel Noel Bayramı kutlanır. Ayrıca 31 Aralık tarihini 1 Ocak'a bağlayan gece yılbaşı kutlanır.

Yukarıda bahsedilen olaylar aşağıdaki ülke-lerden hangisinin kültürüne **ait değildir**?

- A) Suudi Arabistan B) Almanya
C) Yunanistan D) İspanya

- 12) Aşağıdaki bayramlardan hangisini başka ül-kelerle aynı anda kutlarız?

- A) Zafer Bayramı
B) Cumhuriyet Bayramı
C) Atatürk'ü Anma Gençlik ve Spor Bayramı
D) Ramazan Bayramı