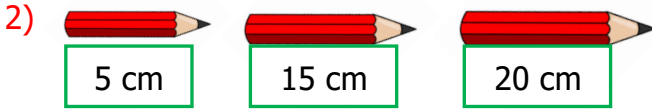


1) Esra her gün 15 metre yürüyor. Buna göre Esra 3 günde toplam kaç metre yol yürür?

- A) 50 metre
B) 45 metre
C) 30 metre



Yukarıdaki kalemleri uç uca eklersek kaç cm bir uzunluk elde edilir?

- A) 40 cm B) 30 cm C) 20 cm



Yukarıdaki çubuğun uzunluğu kaç santimetredir?

- A) 6 cm B) 10 cm C) 8 cm

4) Yandaki diş fırçasının uzunluğu 12 santimetredir. Aynı diş fırçasından 2 tane uç uca eklersek uzunlukları kaç santimetre olur?



- A) 24 B) 20 C) 12

5) Ece'nin bir karışı 5 cm, Hüseyin'in 6 cm, Yusuf'un 8 cm'dir. Buna göre üç arkadaşın karışlarının toplam uzunluğu kaç santimetredir?

- A) 12 cm B) 15 cm C) 19 cm

6) 50 metrelik kumaşın önce 10, sonra 8 metresini kullandık. Geriye kaç metre kumaş kalmıştır?


- A) 24 m B) 32 m C) 42 m



Zeynep 20 metrelik yolun 6 metresini yürümüştür.

Zeynep, yolu tamamlamak için kaç metre daha yürümelidir?

- A) 14 metre
B) 12 metre
C) 8 metre

- 8)  Elif'in bir adımı 20 santimetredir. Buna göre Elif 3 adım attığında Kaç santimetre yürümüş olur?

A) 70 cm B) 80 cm C) 60 cm

- 9) 40 santimetrelilik ipin iki ucundan beşer santimetre kesildi. Buna göre geriye kaç santimetre ip kalmıştır?

A) 35 cm B) 30 cm C) 25 cm

- 10) Zehra, deftere 10 cm uzunluğunda 3 tane çizgi çizdi. Buna göre Zehra'nın deftere çizdiği çizgilerin toplam uzunluğu kaç cm'dir?

A) 30 cm B) 20 cm C) 3 cm

- 11) Ali'nin köpeğinin boyu 35 santimetredir. Buna göre Ali, köpeğine en az kaç santimetre yüksekliğinde bir kulübe yapmalıdır?



A) 30 cm B) 20 cm C) 40 cm

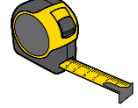
- 12) Bir eşyayı aşağıdaki ölçme araçlarından hangisi ile ölçersek doğru ölçüm yapmış oluruz?



A)



B)



C)

- 13) Aşağıda verilenlerden hangisi metre ile ölçülemez?

A) su hortumunun uzunluğu
B) yoğurt yapmak için aldığımız süt
C) bahçe duvarının yüksekliği

- 14) Ahmet'in oda kapısının genişliği 80 santimetredir. Buna göre aşağıdakilerden hangisi doğrudur?

A) 80 cm'den dar eşyalar kapıdan kolayca geçer.
B) 90 cm genişliğindeki bir dolabı odaya sokabiliriz.
C) 70 cm genişliğinde bir masayı kapıdan geçiremeyiz.

- 15) Zeynep, defterine düz bir çizgi çizmek istiyor. Buna göre Zeynep'in deftere çizeceği çizginin uzunluğu hangisi olabilir?

A) 90 cm B) 85 cm C) 15 cm