

1. Aşağıdaki metni okuyup soruları cevaplayınız. (12 p.)



Merhaba. Benim adım Muhammed. Biz beş kişilik bir çekirdek aileyiz. Babamın adı Kerem, annemin adı Medine. İki tane de kız kardeşim var. Büyük olanın adı Elif, küçük olanın adı ise Melek.

Bu aile nasıl bir aileymiş?



.....

Babasının adı neymiş?



.....

Elif kimmiş?



.....

2. Karışık verilen kelimelerden anlamlı ve kurallı cümleler oluşturunuz. (8 p.)

kişilik

dört

aileyiz

biz

bir

.....

oynadık

ablamlarla

oyun

Fadime

.....

3. Görsellerle ilgili en az üç kelimedenden oluşan cümleler yazınız. (14 p.)



.....



.....

4. Aşağıdaki kelimelerden satır sonuna doğru yazılanların başındaki kutucuğa "D", yanlış yazılanların başındaki kutucuğa "Y" yazınız. (16 p.)

....	def-
	ter

....	a-
	çacak

....	kal-
	emlik

....	tene-
	ffüs

....	öğret-
	men

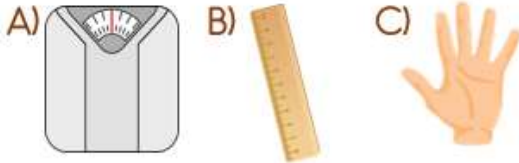
....	kori-
	dor

....	besle-
	nme

....	etkin-
	lik

5. Aşağıdaki soruları okuyarak doğru seçeneği işaretleyiniz. (32 p.)

Hangisi standart olmayan uzunluk ölçü birimidir?



Yandaki masanın boyunu hangisi ile daha doğru şekilde ölçeriz?

A) Adım B) Cetvel C) Kulaç






Sınıfımızdaki tahtanın boyunu hangisi ile ölçeriz?



A) Kulaç B) Karış C) Parmak

Silginin uzunluğunu aşağıdakilerden hangisi ile ölçeriz?



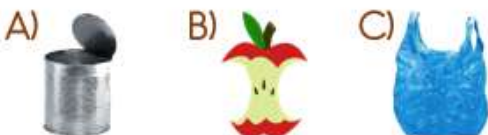
A)  B)  C) 
Karış Ayak Parmak

6. Aşağıdaki soruları okuyarak doğru seçeneği işaretleyiniz. (18 p.)

Aşağıdakilerden hangisi geri dönüşüm işaretidir?



Aşağıdakilerden hangisi geri dönüşüm kutusuna atılmaz?



Diş fırçası eskijen Celil yeni bir diş fırçası aldığına göre eski fırçayı hangi kutuya atmalıdır?

