

1.

yatmadan-önce-akşam-içerim-süt

Yukarıda karışık olarak verilen kelimelerden anlamlı ve kurallı bir cümle oluşturmak istediğimizde ilk ve son sözcükler hangileri olmalıdır?

A) akşam-süt




B) yatmadan-önce

C) akşam-içerim



2.

Yukarıdaki meyvelerin adlarını alfabetik bir şekilde sıraya koyarsak yeni sıralama nasıl olmalıdır?

A)   B)   C)   

3.

Aşağıdaki sayılardan hangisini yazarken en az sayıda harf kullanılır?

A) 10

B) 20

C) 30

4.

Aşağıdakilerden hangisi yanda verilen görseli çağrıştıran bir sözcük değildir?

A) oksijen

B) deniz

C) yeşil



5.



Çok soğuk olduğu için kalın elbiseler giymek zorundayız.

Ece'nin söylediği cümledeki altı çizili sözcüklerin zıt anlamlıları hangi seçenekte verilmiştir?

A) kalın-yaz

B) sıcak-ince

C) soğuk-kalın

6. Yandaki görseli en iyi anlatan cümle aşağıdakilerden hangisidir?

- A) Eren oyun oynuyor. B) Eren kitap okuyor.
C) Eren resim yapıyor.



7. Trenin en son vagonuna hangi sözcük yazılmalıdır?

- A) gideceğim.
B) olmalıyım.
C) geldim.



8. Yandaki görselde aşağıdaki sorulardan hangisinin cevabı yoktur?



- A) Görselde kaç öğrenci vardır?
B) Öğrenciler nerede oturuyor?
C) Öğrenciler hangi sınıfta okuyor?

9. Yandaki cümlede boş bırakılan yere hangisi yazılmalıdır?

Benimle oynamaya _____ gelmedin?

- A) neden B) kim C) çünkü

10. Aşağıdaki cümlelerin hangisinde 'kim ?' sorusunun cevabı yoktur?

- A) Ahmet, çok güzel resim yapıyor. B) En sevdiğim meyve kirazdır.
C) İrem, çok hastalanmış.

11.

Onluk	Birlik
.....	5
otuzbeş	

Noktalı bölüme aşağıdakilerden hangisi yazılmalıdır?

A) 4

B) 3

C) 6

12.

Aşağıdaki bilgilerden hangisi doğrudur?

A) Değeri en yüksek madeni para 1 ₺ dir.

B) Değeri en düşük kağıt para 3 ₺ dir.

C) Değeri en büyük kağıt para 10 ₺ dir.

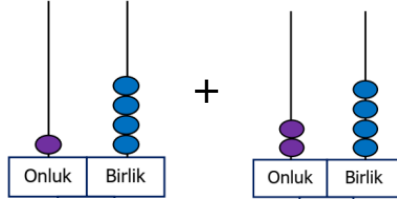
13.

Yanda verilen sayıların toplamı kaçtır?

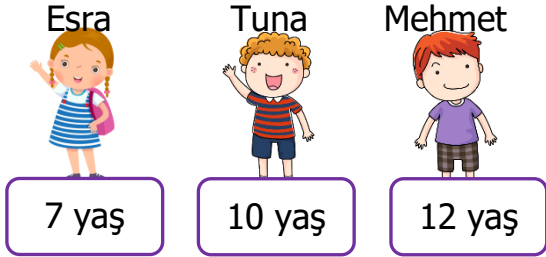
A) 18

B) 24

C) 38



14.



Yanda verilen bilgilere göre Mehmet,Esra'dan kaç yaş büyüktür?


A) 5

B) 2

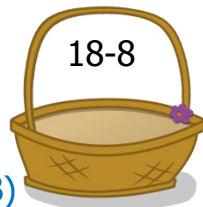
C) 6

15.


Aşağıdaki işlemlerden hangisinin sonucu daha büyüktür?



A)

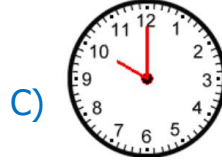
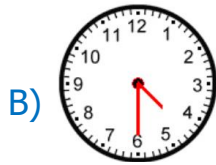
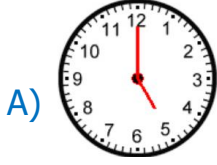


B)

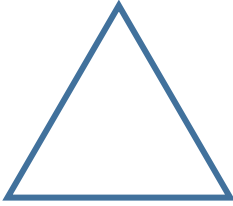


C)

16. Hüseyin her gün saat dört buçukta kitap okumaya başlıyor. Aşağıdaki saatlerden hangisi Hüseyin'in kitap okumaya başladığı zamanı göstermektedir?



17.



Yanda verilen şekil ile ilgili bilgilerden hangisi yanlıştır?

- A) 3 kenarlı ve 4 köşelidir.
 B) Şeklin adı üçgendir.
 C) 3 köşeli ve 3 kenarlıdır.

18.


Tavşan	
Köpek	
Koyun	
Tavuk	

Yandaki tabloda çiftlikteki hayvan sayıları verilmiştir. Buna göre çiftlikte eşit sayıda bulunan hayvanlar hangileridir?

- A) tavuk-koyun B) tavşan-köpek C) tavşan-koyun

19.

Aşağıdakilerden hangisinin boyu bir karış olabilir?



20.

Aşağıdakilerden hangisini kullanırsak çaydanlıktaki çay daha kısa zamanda tükenir?

- A) su bardağı B) çay bardağı C) kahve fincanı



21.



Yanda görseli verilen mevsimden bir sonra gelen mevsim hangisidir?

- A) yaz
- B) sonbahar
- C) ilkbahar

22.


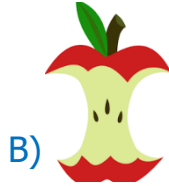
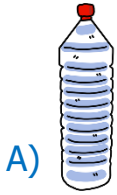
Yanda verilen görseller ile ilgili bilgilerden hangisi yanlıştır?

- A) Güneş, Dünya'mızdan daha küçüktür.
- B) Dünya'mız Güneş'ten daha küçüktür.
- C) Güneş, Dünya'mızdan daha büyüktür.



23.

Aşağıdaki atıklardan hangisi geri dönüşüm sayesinde tekrar kullanılabilir?



24.

Aşağıdaki meyve ve sebzelerden hangisi ağaçta yetişir?

A) marul

B) kavun




C) erik




25.

İlkbahar mevsimi ile ilgili aşağıda verilen bilgilerden hangisi yanlıştır?

- A) Çiçekler açar.
- B) Yapraklar dökülür.
- C) Havalar ısınmaya başlar.

26. Aşağıdakilerden hangisi hem ot hem de et ile beslenen bir hayvandır?



27.  Cumhuriyet Bayramı → Milli bayram
 Kurban Bayramı → Milli bayram
 Zafer Bayramı → Milli Bayram

Bayramlarımız ile ilgili olarak yukarıda verilen bilgilerden hangisi yanlıştır?



28. Mustafa Kemal Atatürk'ün doğum yeri ve tarihi hangi seçenekte doğru yazılmıştır?

A) Selanik-1881

B) Ankara-1881

C) İstanbul-1881

29. Yolculuk yaparken emniyet kemeri takmamızın sebebi aşağıdakilerden hangisidir?

- A) Rahat uyuyabilmek için
 B) Daha güzel görünebilmek için
 C) Güvenli bir yolculuk yapabilmek için



30. Aşağıdakilerden hangisi kazaya sebep olur?

- A) Arkadaşımızla konuşmak
 B) Kazalara karşı dikkatli olmak
 C) Arkadaşımızı itmek veya çekmek