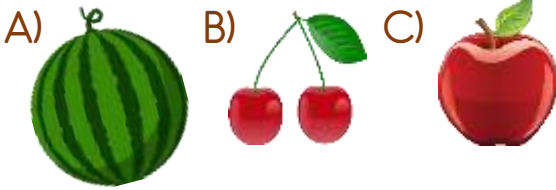
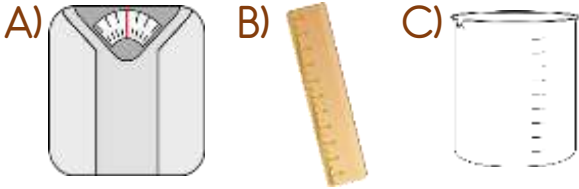



1) Aşağıdaki meyvelerden hangisinin gerçek ağırlığı diğerlerinden daha fazladır?



2) Hangisi bir nesnenin ağırlığını ölçmek için kullandığımız araçlardan biridir?



3) Aşağıdakilerden hangisini tartarak satın alırız?



4) Aşağıdakilerden hangisi ağırlık ölçme araçlarından biri değildir?

- A) El tartısı
B) Baskül
C) Katran

5)

Baskül ●



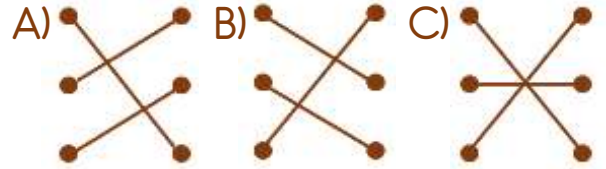
Kantar ●



El tartısı ●



Yukarıdaki ağırlık ölçme araçları ile isimleri doğru bir şekilde nasıl eşleştirilmelidir?



6) Kilogram kısaca nasıl gösterilir?

- A) kl B) kr C) kg

7) Aşağıdakilerden hangisinin gerçek ağırlığı 1 kilogramdan daha fazladır?



8) 1 kilogram demir mi daha ağırdır, yoksa 1 kilogram pamuk mu?

- A) Demir daha ağırdır.
B) İkisinin de ağırlığı eşittir.
C) Pamuk daha ağırdır.

9)



Yukarıdaki görsele göre üç tane karpuzun ağırlığı kaç kilogramdır?

- A) 3 kg B) 6 kg C) 9 kg

10)



Yukarıdaki görsele göre çuvaldaki un kaç kilogramdır?

- A) 5 kg B) 15 kg C) 25 kg

11)



Görseldeki köpeğin ağırlığı 8 kilogram olduğuna göre kedinin ağırlığı kaç kilogramdır?

- A) 5 kg B) 7 kg C) 21 kg

12) Kerem bahçeden saatte 4 kg elma toplamaktadır.



Buna göre Kerem 9 saatte kaç kg elma toplar?

- A) 13 kg B) 24 kg C) 36 kg

13) 3 kg elma 15 lira olduğuna göre 1 kg elma kaç liradır?



- A) 2 TL B) 5 TL C) 12 TL

Cevap Anahtarı

1-A 2-A 3-B 4-C 5-A 6-C 7-C 8-B 9-C 10-B 11-A 12-C 13-B