

Güneş sende, yeşil sende
Buğday, pamuk, meyve sende
Coşkun akan sular sende
Ne güzelsin Türkiye'm!

Çiçek kokan dağların var
Bülbül öten bağların var
Ne güzeldir ah bu diyar
Bir cennetsin sen Türkiye'm!

Verimlidir ovaların
Umut dolu yarınların
Pırl pırl çocukların
Ne güzelsin sen Türkiye'm!

Refik BAŞ

(1-5. soruları metne göre cevaplayınız.)

1) Sular nasıl akıyormuş?

- A) Çok berrak akıyormuş.
- B) Coşkun akıyormuş.
- C) Bulanık akıyormuş.

2) Bülbüller nerede ötüyormuş?

- A) Dağlarda ötüyormuş.
- B) Bağlarda ötüyormuş.
- C) Kırlarda ötüyormuş.

3) Aşağıdakilerden hangisi metin için uygun bir başlık değildir?

- A) Güzel Ülkem
- B) Benim Köyüm
- C) Türkiye'm

4) Metin ile ilgili verilen bilgilerden hangisi doğrudur?

- A) Metnin türü düz yazıdır.
- B) Şairi Hasan Yıldırım'dır.
- C) 3 dörtlükten oluşmuştur.

5) Hangisi metinde geçen varlıklardan biri değildir?

A)






B)



C)



- 6)  4 kelimedenden oluşmuştur.
 8 hecelidir.
 19 harf vardır.

Yukarıda özellikleri verilen cümle aşağıdakilerden hangisidir?

- A) Bir yılda dört mevsim vardır.
B) İlkbahar gelince çiçekler açar.
C) Yaz mevsimi sıcak olur.

7)

İri	Büyük	Küçük
Yaş	Islak	Kuru
Yanıt	?	?

Yukarıda soru işareti ile belirtilen kutucuklara sırası ile hangi sözcükler gelmelidir?

- A)

Soru	Sual
------	------

B)

Cevap	Soru
-------	------

C)

Soru	Cevap
------	-------

- 8) Hangi cümlede "Ne zaman?" sorusunun cevabı yoktur?
- A) Dün akşam erkenden uyudum.
B) Sabah kahvaltımı yaptım.
C) Canlı derse katıldım.





9)















Benim adım Eymen() ab()
lamın adı ise Ecrin() Ailemle
Antalya()da yaşıyoruz.

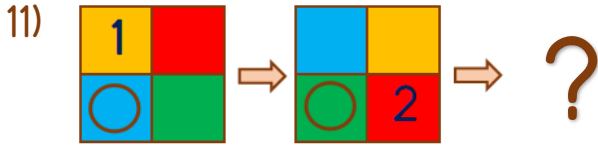
Yukarıdaki paragrafta yay ayraç () ile belirtilen yerlere sırası ile hangi noktalama işaretleri yazılmalıdır?

- A) (.) (-) (.) (-)
B) (,) (-) (.) (')
C) (,) (') (.) (')

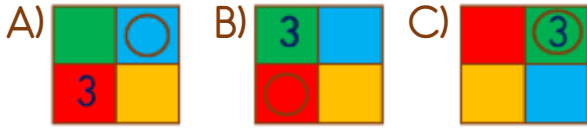
- 10)  Yanıma kardeşim geldi.
 Bahçede bisiklet sürdük.
 Birlikte bahçeye çıktık.
 Salonda oturuyordum.

Yukarıdaki olaylar hangi seçenekte oluş sırasına göre sıralanmıştır?

- A)  -  -  - 
B)  -  -  - 
C)  -  -  - 

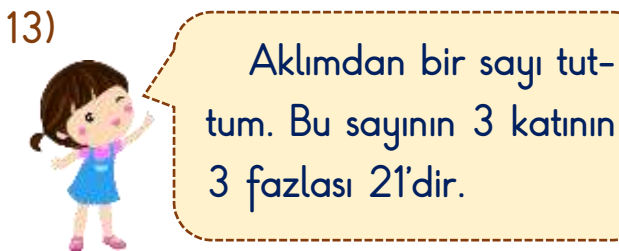
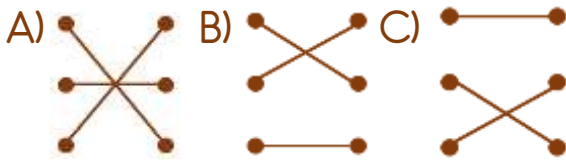


Yukarıdaki örüntüde soru işareti ile belirtilen yere hangisi gelmelidir?



12) $8 \times 3 = \bullet$ $\bullet \times 4 = 6$
 $5 \times 4 = \bullet$ $\bullet \times 6 = 6$
 $9 \times 4 = \bullet$ $\bullet \times 2 =$

Yukarıdaki çarpma işlemlerinden sonucu aynı olanlar nasıl eşleştirilmelidir?



Gülçin'in aklından tuttuğu sayı aşağıdakilerden hangisidir?

- A) 6 B) 8 C) 10

14) $12 \div 3 = \blacktriangle$ $20 \div \blacktriangle = \blacksquare$


Yukarıda verilen bölme işlemlerine göre " $\blacktriangle + \blacksquare$ " işleminin sonucu kaçtır?

- A) 9 B) 12 C) 20

15) Bir otoparktaki otomobillerin tekerlek sayısı 16, motosikletlerin tekerlek sayısı 12'dur. Buna göre otoparktaki araç sayısı kaçtır?

- A) 8 B) 10 C) 12

16) Aşağıdaki çocuklardan hangisi daha fazla elma yemiştir?



- 17) Bir tren garına her 60 dakikada bir tren gelmektedir.



Bu tren garına birinci tren saat 07.00'de geldiğine göre dördüncü tren saat kaçta gelir?

- A) 09.00 B) 10.00 C) 11.00

18)



Ramazan Bayramı'nda Fatih ile kardeşi Mert'e babası 20 TL vermiş ve eşit şekilde paylaşımlarını istemiştir. Daha sonra annesi de Fatih'e 30 TL vermiştir.

Fatih bayram harçlığı ile aşağıdaki oyuncakların hangisinden tam iki tane alabilir?

- A)  10 TL
- B)  20 TL
- C)  25 TL

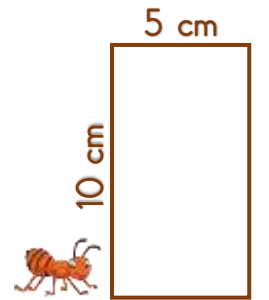
- 19) Tablo Adı: Test Kurtları Belge Sayıları Tablosu

Öğrenci	Belge Sayısı
Asya	8
Ömer Ilgaz	12
Esil	11
Zeynep Duru	17
Alper Taha	12
Sümeyye	9

Yukarıdaki tabloya göre verilen bilgilerden hangisi yanlıştır?

- A) Asya ile Esil'in aldığı belge sayıları toplamı Zeynep Duru'nun belge sayısına eşittir.
- B) Alper Taha 3 belge daha alıncaya belge sayısı 15 olacaktır.
- C) Ömer Ilgaz'ın belge sayısı Sümeyye'nin belge sayısından 3 fazladır.

- 20) Yandaki dikdörtgenin çevresini iki tur dolaşan karınca kaç cm yürümüştür?






- A) 30 cm B) 45 cm C) 60 cm

- 21) () Sınıfı süsleriz.
 () Ev temizliği yaparız.
 () Okulda tören yaparız.
 () Balkona bayrak asarız.





Yukarıda verilenlerden milli gün ve bayramlarda yapılanlara "M", dini gün ve bayramlarda yapılanlara "D" sırası ile nasıl yazılmalıdır?

- A) (M) B) (M) C) (D)
 (D) (D) (M)
 (M) (M) (D)
 (M) (D) (M)







- 22)  Türk ordusu düşmanları yenmiştir.
 Atatürk bu bayramı Türk ordusuna armağan etmiştir.
 Bu bayramı yaz tatilinde kutlarız.

Verilen bilgiler milli gün ve bayramlarımızdan hangisine aittir?

- A) 29 Ekim Cumhuriyet Bayramı
 B) 30 Ağustos Zafer Bayramı
 C) 15 Temmuz Demokrasi ve Milli Birlik Günü

- 23)  Gelinlere kına yakmak
 Pizza
 Zeybek oyunu
 Keşkek yemeği

Yukarıdakilerden hangisi veya hangileri kültürümüze aittir?

- A) Yalnız 
 B)  ve 
 C) ,  ve 

24)



- * Okula gidip gelirken hiç inek görmüyorum.
- * Çevremizde hiç tarla yok.
- * Babam valilikte çalışıyor.

Verdiği bilgilere göre Celiller nerede yaşıyor olabilir?

- A) Köy
 B) Kasaba
 C) Şehir merkezi

25)



Yukarıdaki hayvanların ortak özelliği aşağıdakilerden hangisidir?

- A) İkisi de otçul hayvandır.
- B) İkisi de evcil hayvandır.
- C) İkisi de kümes hayvanıdır.

26)



İnsanların ve hayvanların yaşamı için bitkiler önemlidir.

Verdiği bilgiye göre aşağıdakilerden hangisi Gülçin'den beklenen bir davranış değildir?

- A) Ağaç dikme faaliyetlerine katılır.
- B) Bahçesindeki ağaçları sular.
- C) Parklardaki ağaçlara zarar verir.

27) Okullarımızda daha çok hangi geri dönüşüm kutusunu kullanırsınız?



28) Antalya'da yaşayan Zeynep kış mevsiminde atkı, bere ve eldiven hiç kullanmamaktadır.



Ancak neredeyse her gün okula giderken şemsiyesini yanına almaktadır.

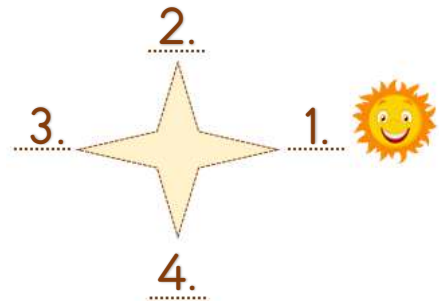
Buna göre kış mevsiminde Antalya için hangisi söylenebilir?

- A) Çok yağmur yağar.
- B) Çok kar yağar.
- C) Çok soğuk olur.

29) Hangisi deprem anında alınacak önlemlerden biridir?

- A) Deprem çantası hazırlamak
- B) Pencerelerden uzak durmak
- C) Binaları sağlam yapmak

30)



Yukarıdaki görselde Güneş yeni doğduğuna göre numaralandırılmış yönlerden hangisi güneydir?

- A) 2.
- B) 3.
- C) 4.

Cevap Anahtarı

1-B 2-B 3-B 4-C 5-C 6-C 7-B 8-C 9-B 10-A 11-B 12-C 13-A 14-A 15-B 16-C 17-B
18-B 19-A 20-C 21-A 22-B 23-C 24-C 25-B 26-C 27-A 28-A 29-B 30-C