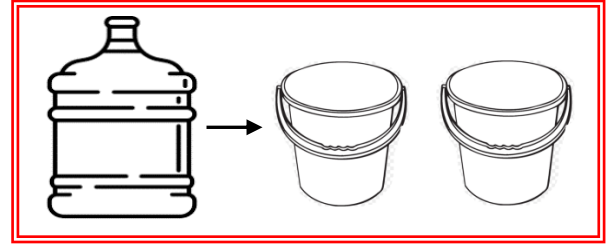
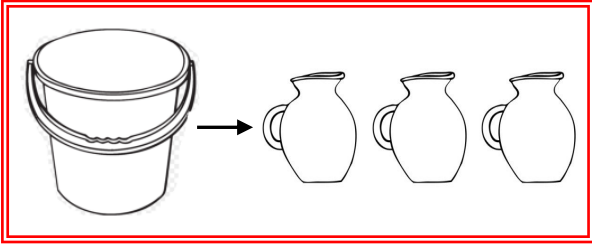
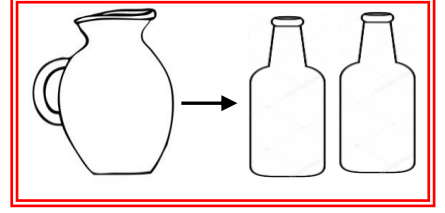
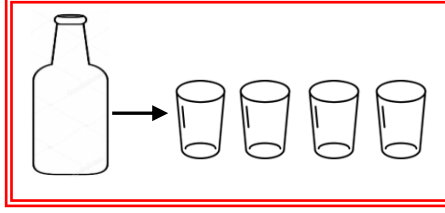
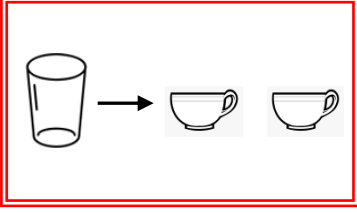




SIVI ÖLÇME

☞ Aşağıdaki verilen kapların aldıkları su miktarları verilmiştir. Soruları bunlara göre işlem yaparak cevaplayalım.



1.) Bir damacana kaç sürahi su ile dolar?

2.) Bir sürahi kaç bardak su ile dolar?

3.) 3 şişe kaç bardak su ile dolar?

4.) 2 kova kaç şişe su ile dolar?

5.) 24 bardak su kaç şişe doldurur?

6.) 42 sürahi su kaç kova doldurur?

7.) 16 fincan su kaç şişe doldurur?

8.) 24 sürahi su kaç damacana doldurur?