




SIVI ÖLÇME

☞ Aşağıdaki miktarları verilen suların kaç tane yarım litre olduğunu işlem yaparak bulalım.

İŞLEM

.....

Yarım litre



İŞLEM

.....


Yarım litre



İŞLEM

.....

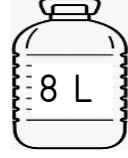
Yarım litre



İŞLEM

.....


Yarım litre



İŞLEM

.....


Yarım litre



İŞLEM

.....


Yarım litre



İŞLEM

.....

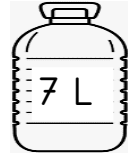
Yarım litre



İŞLEM

.....


Yarım litre



İŞLEM

.....

Yarım litre



İŞLEM

.....


Yarım litre



İŞLEM

.....

Yarım litre



İŞLEM

.....

Yarım litre







SIVI ÖLÇME

☞ Aşağıdaki miktarları verilen suların kaç litre olduğunu işlem yaparak bulalım.


4 İŞLEM
Yarım litre




10 İŞLEM
Yarım litre




16 İŞLEM
Yarım litre




6 İŞLEM
Yarım litre




8 İŞLEM
Yarım litre



14 İŞLEM
Yarım litre




28 İŞLEM
Yarım litre




18 İŞLEM
Yarım litre



6 İŞLEM
Yarım litre




20 İŞLEM
Yarım litre



30 İŞLEM
Yarım litre



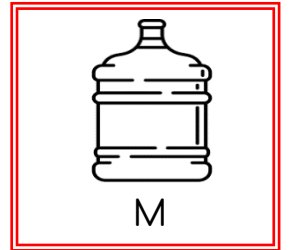
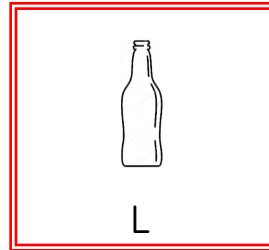




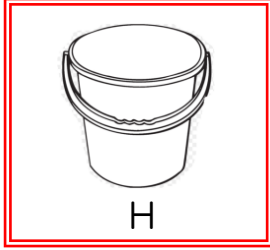

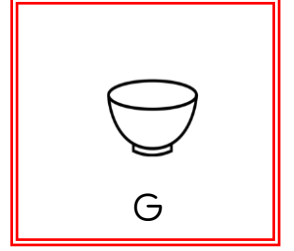
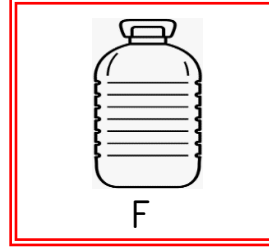
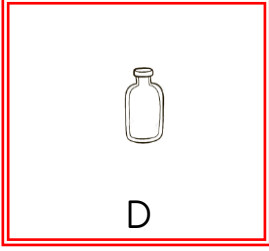
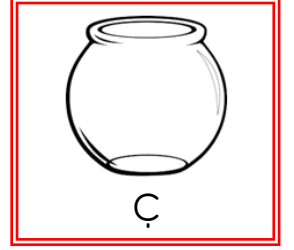
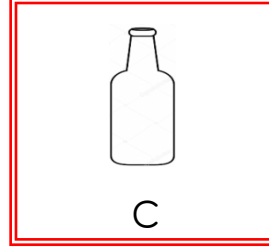
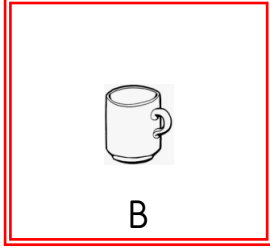
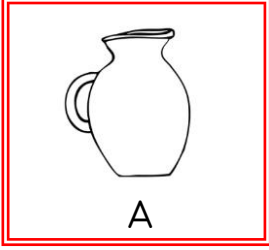
12 İŞLEM
Yarım litre





SIVI ÖLÇME

☞ Aşağıdaki kapların ne kadar su alabileceğini düşünerek , harfleri ait olduğu tabloya yazalım.



Yarım Litreden Az

..... - -

..... -

Yarım Litre

..... - -

1 Litre

..... - -

1 Litreden Fazla

..... - -

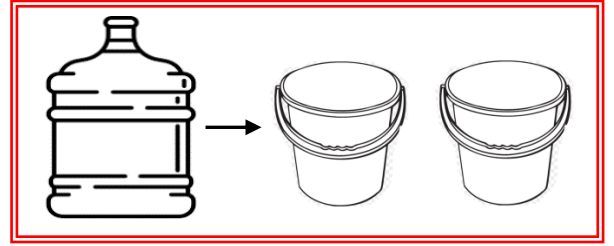
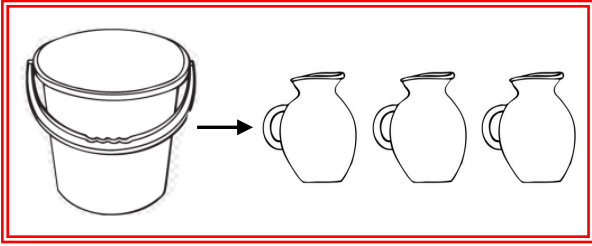
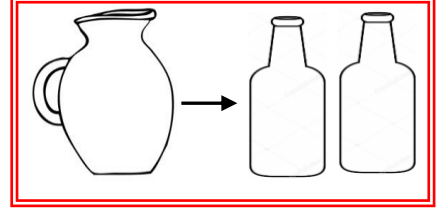
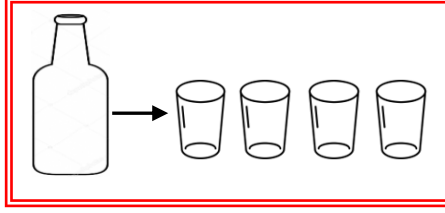
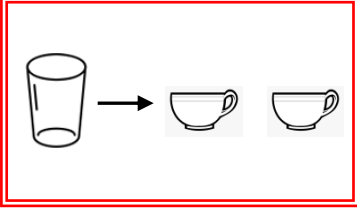
..... -





SIVI ÖLÇME

☞ Aşağıdaki verilen kapların aldıkları su miktarları verilmiştir. Soruları bunlara göre işlem yaparak cevaplayalım.



1.) Bir damacana kaç sürahi su ile dolar?

2.) Bir sürahi kaç bardak su ile dolar?

3.) 3 şişe kaç bardak su ile dolar?

4.) 2 kova kaç şişe su ile dolar?

5.) 24 bardak su kaç şişe doldurur?

6.) 42 sürahi su kaç kova doldurur?

7.) 16 fincan su kaç şişe doldurur?

8.) 24 sürahi su kaç damacana doldurur?



SIVI ÖLÇME İLE İLGİLİ PROBLEMLER

1.) 80 litre ayranın 36 litresi satılmış. Kaç litre ayran kalmıştır?



Çözüm :

4.) Yarım litresi 3 lira olan meyve suyundan 8 litre aldık. Kaç lira ödememiz gerekir ?



Çözüm :

2.) 26 litre limonata yarım litrelik şişelere konmuş. Kaç tane şişe kullanılmıştır ?



Çözüm :

5.) Sıla her gün bir bardak süt içmektedir. 5 bardak 1 litre yapmaktadır. Buna göre Sıla 60 gün sonunda kaç litre süt içmiş olur?



Çözüm :

3.) Amcamlar her gün koyunlardan 25 litre süt sağmaktadırlar. Bir hafta sonunda toplam kaç litre süt sağmış olurlar ?



Çözüm :

6.) Erdemler her gün 9 litre su tüketmektedir. Bir damacana su 18 litre olduğuna göre 4 damacana suyu kaç günde bitirirler ?



Çözüm :



SIVI ÖLÇME İLE İLGİLİ PROBLEMLER

1. Bir kamyon deposundaki 400 litre mazotun 273 litresini kullanmış. Depoda kaç litre mazot kalmıştır?

Çözüm:



2. 125 litre ayran yarım litrelik şişelere konuyor. Kaç şişe kullanılmıştır?

Çözüm:



3. 64 litre limonatanın $\frac{1}{4}$ ' i satılmış. Geriye kaç litre limonata kalmıştır ?

Çözüm:



4. Bir damacana su 19 litredir. Damacana-
dan 20 tane yarım litrelik şişelerle su içilirse
kaç litre su kalır?

Çözüm:



5. 5 tane portakaldan yarım litre meyve suyu
elde edilmektedir. 20 litre portakal suyu için
kaç tane portakal gereklidir?

Çözüm:



6. 250 litre sütün 176 litresi satılmış. Sütün lit-
resi 4 lira olduğuna göre kaç liralık süt kalmış-
tır ?

Çözüm:





SIVI ÖLÇME İLE İLGİLİ PROBLEMLER

1. Büyük bir su kabının yarısı doludur. Kapta 85 litre su olduğuna göre bu kap kaç litre su alır ?

Çözüm:



2. Bir bardak limonata 2 liraya satılıyor. 1 litrede 5 bardak limonata varmış. 8 litre limonatanın satışından kaç lira elde edilir?

Çözüm:



3. 80 litre zeytinyağı 2 litrelik şişelere doldurulmuş. Şişelerden 27 tanesi satılmış. Geriye kaç şişe kalmıştır ?

Çözüm:



4. Ayçiçeği yağının 3 litresi 45 liradır. 49 litre yağ alan bir kişi kaç lira öder?

Çözüm:



5. Bir benzin istasyonunda 806 litre benzin vardı. 6 araç geldi ve her biri 43 litre benzin aldı. Buna göre istasyonda kaç litre benzin kalmıştır ?

Çözüm:



6. 70 litre ayranın 42 litresini yarım litrelik şişelere, kalanını bir litrelik şişelere doldurduk. Toplam kaç tane şişe kullandık ?

Çözüm:





SIVI ÖLÇME İLE İLGİLİ PROBLEMLER

1. 90 litre şalgam suyu 5 litrelik şişelere konuyor. Şişelerin her biri 30 liraya satılıyor. Bu satıştan kaç lira elde edilir ?

Çözüm:



2. 1 litre ayranla 4 bardak doldurulmaktadır. Lokantada 72 bardak ayran satıldığına göre , kaç litre ayran satılmıştır?

Çözüm:



3. Okanlar bir inekten günde 16 litre süt sağıyorlar. Okanların 8 tane inekleri var. Her inekten eşit miktarda süt sağdıklarına göre bir haftada toplam kaç litre süt sağlarlar ?

Çözüm:



4. Bir lokantada her gün 9 litre ayçiçeği yağı tüketilmektedir. Lokantada 305 litre yağ vardı. 24 gün sonunda kaç litre yağ kalır?

Çözüm:



5. 91 litrelik bir depo 7 litrelik bir su kabı ile kaç seferde doldurulur?

Çözüm:



6. 4 litresi 24 lira olan meyve suyundan 25 litre alan litre alan bir kişi kaç lira öder ?

Çözüm:

