









- 1)  Çok çalıştım ve sınavda başarılı oldum.
Ayşe
-  Yediklerine dikkat etmesine rağmen kilo almış.
Erkan
-  Seninle gelirdim ama anneme yardım edeceğim.
Oya
-  Okuduğum kitapları sınıfın kitaplığına bıraktım.
Okan

Çocuklardan hangisinin söylediği cümle farklı düşünmeye yönlendiren ifade içermektedir?

- A) Ayşe – Oya B) Oya – Erkan
C) Erkan – Okan D) Oya - Okan
- 2) Ozan babasına yardım etmek için arabadaki kutunun birini taşımak istemiş. Babası üzerinde soyut isim yazan kutuyu taşımamasını istemiş. Buna göre Ozan hangi kutuyu taşımış?

- A)  duman B)  rüzgar
C)  sis D)  korku

- 3) Aşağıdaki cümlelerin hangisinde yazım yanlışı yapılmıştır ?
- A) Parktaki çocuk yaramazlık yapıyordu.
B) Elif balkondaki çiçekleri suladı.
C) Soğanları ince doğraki iyi pişsin.
D) İlaçlarını iç ki çabuk iyileş.

- 4)

Hani o gezmeler kırdı, denizde?
Hani o cümbüşler, sazlar, temmuzda?
Ağustos mehtabı tam üstümüzde,
Kıyılarda neydi o eğlenceler?

Yukarıdaki dördlüğün ana duygusu aşağıdakilerden hangisidir?

- A) Gezmelere duyulan özlem
B) Yaza duyulan özlem
C) Denize duyulan özlem
D) Denizde eğlenmek

- 5) Aşağıdaki cümlelerin hangisinde karşılaştırma yapılmıştır?

- A) Yazarın ilk kitabını daha çok beğendim.
B) Başım ağrıdığı için uyuyamadım.
C) Sağlıklı yaşam için spor yapalım.
D) Meyve suyu ya da ayran içeceğim.

- 6) Aşağıdaki cümlelerden hangisinde "ancak" yerine "fakat" getirilirse cümlenin anlamı bozulmaz ?

- A) Bu şiiri ancak sen okuyabilirsin.
B) Param ancak bu kadarına yetti.
C) Dün ancak yirmi sayfa kitap okudum.
D) Kutuyu ben götürecektim ancak yerinden kaldıramadım.

7) Ablam yazılıdan düşük not alınca an-nem **küplere bindi**.

Yukarıdaki cümlede altı çizili deyimini yerine aşağıdakilerden hangisi kullanılabilir?

- A) çok kızdı B) çok korktu
C) çok üzüldü D) inanamadı

8) ● Akşam olunca hava iyice soğumuş.

■ Biraz bekleyince çorba soğudu.

▲ İkinci yazılıdan da zayıf alınca matema-tik dersinden iyice soğudum.

◆ Süt soğuyunca hemen içtim.

Yukarıdaki cümlelerin hangisinde "soğumak" kelimesi farklı anlamda kullanılmıştır?

- A) ● B) ■
C) ▲ D) ◆

9)

çalışkan	kabiliyet
beceri	usta

"yetenek" kelimesi ile eş anlamlı olan kelimelerin bulunduğu kutuları boyadım.



Buna göre boyama sonrası aşağıdaki durumlardan hangisi ortaya çıkmıştır ?

- A)

■	□
■	□

 B)

■	■
□	□
- C)

□	■
■	□

 D)

□	□
■	■

10) I – Dün nereye gittiniz ()

II – Annem gülererek cevap verdi ()

III- Eyvah , ütüyü açık unuttum ()

IV- Dayımın sürprizini sabırsızlıkla bekliyoruz ()

Yukarıdaki cümlelerden hangisinin sonuna iki nokta (:) konulmalıdır ?

- A) I B) II
C) III D) IV

- 11) Babamla annemin yaşları toplamı 78'dir. Annem babamdan 6 yaş küçüktür.



Arda'nın söylediklerine göre babası 5 sene sonra kaç yaşında olur?

- A) 36 B) 47
C) 42 D) 45

- 12)

1. Hafta 10

2. Hafta 24

3. Hafta 52

4. Hafta 108

Yukarıda bir pazarcının haftalara göre sattığı karpuz sayısı verilmiştir . Sayılar aralarında belirli bir kurala göre artmaktadır. Buna göre 5. Hafta satılan karpuz sayısı kaç tanedir?

- A) 216 B) 222
C) 218 D) 220

- 13) $\frac{7}{12} - 2\frac{8}{12} - \frac{13}{12} - \frac{9}{12} - \frac{16}{12} - 4\frac{10}{12}$

Yukarıdaki basit kesirlerin toplamı aşağıdakilerden hangisidir?


- A) $\frac{29}{12}$ B) $\frac{16}{12}$
C) $6\frac{17}{12}$ D) $\frac{17}{12}$

- 14) Kajunun çeyrek kilogramı 24 liradır.

Senanur 2 kilogram kaju alırsa kaç lira öder?

- A) 96 B) 182
C) 192 D) 194

- 15) Her birinin çevre uzunluğu 60 cm olan iki kare birbirine degecek şekilde birleştiriliyor. Buna göre oluşan dikdörtgenin çevresi kaç cm'dir?



- A) 90 B) 120
C) 110 D) 130

- 16) Bir çiftlikte toplam 140 tane koyun ve inek bulunmaktadır. Koyunlar ineklerin 4 katıdır.



Yukarıdaki anlatılanlara göre koyunlar ineklerden kaç tane fazladır?

- A) 28 B) 112
C) 84 D) 86

17) $0 - 3 - 6 - 5$

Taner: Yukarıdaki rakamları kullanarak en büyük dört basamaklı çift doğal sayıyı oluşturdum.

Oya: Yukarıdaki rakamları kullanarak en küçük dört basamaklı tek doğal sayıyı oluşturdum.

Yukarıdaki ifadelere göre oluşturulan iki sayının farkı kaçtır?

- A) 3475 B) 3565
C) 3575 D) 3465

18) $8 \text{ t} + 37 \text{ kg} + 9000 \text{ g} = ? \text{ kg}$

Yukarıdaki işlemin sonucu kaç kg'dır?

- A) 8046 kg B) 8379 kg
C) 8937 kg D) 8127 kg

19) 7 birim 18 birim

Kenar uzunlukları yukarıdaki gibi olan bir kağıdın alanının $\frac{1}{3}$ 'ü boyanmış. Buna göre boyanmamış kısmın alanı kaç birim karedir?

- A) 42 B) 84
C) 86 D) 85

- 20) En büyük geniş açı 179° 'dir.
 En büyük dar açı 90° 'dir.
 Doğru açı 180° 'dir.

Yukarıdaki doğru ifadelere "D", yanlış ifadelere "Y" konduğunda aşağıdakilerden hangisi ortaya çıkar?

- A)

D
D
Y

 B)

Y
D
Y

 C)

D
Y
D

 D)

D
D
D

- 21) ● Şahin Bey
 ■ Tayyar Rahmiye Hanım
 ◆ Hasan Tahsin
 ▲ Sütçü İmam
- Yukarıda Milli Mücadele kahramanlarından hangisi Fransızlara karşı **savaşmıştır**?

A) ■ B) ▲ C) ● D) ◆


- 22)  Gürcistan , Bulgaristan Rana
 Yunanistan , Bulgaristan Burak
 Yunanistan , Ermenistan Utku
 Gürcistan , Yunanistan Zeynep

Öğretmen öğrencilere yurdumuzun Avrupa kıtasındaki komşularını sormuş. Buna göre kim doğru cevap vermiştir ?

A) Zeynep B) Burak
 C) Utku D) Rana

- 23) Aşağıdakilerden hangisi Japonların kültürüne ait bir özellik değildir?

A) Yel değirmenleri
 B) Suşi yemeği
 C) Kimono giysisi
 D) Judo sporu

- 24)  Babam Orta Asya'daki en geniş yüzölçümüne sahip Türk Cumhuriyetine gitti. Bu devletin başkenti Astana'dır. Türk Cumhuriyetleri arasında en çok ithalat ve ihracat yaptığımız ülkedir.

Yukarıda anlatılanlara göre çocuğun babası hangi ülkeye gitmiştir?

A) Azerbaycan B) Kırgızistan
 C) Kazakistan D) Türkmenistan

- 25) △ Cumhuriyetin ilanı
 □ Atatürk'ün Samsun'a gitmesi
 ○ Kurtuluş Savaşı'nın kazanılması
 ◆ Türkiye Büyük Millet Meclisi'nin açılması
- Yukarıdaki olaylardan hangisiyle birlikte ulusal egemenliğe dayanan yeni bir Türk devleti kurulmuş oldu?

A) □ B) ◆ C) △ D) ○

- 26) Öz güvenleri yoktur.
 Karar verme becerileri gelişir.
 Bağımsız davranma becerileri gelişir.

Çocuklarda sorumluluk duygusunun gelişmesiyle ilgili ifadelerden doğru olanlara "D" , yanlış olanlara "Y" yazarsak hangi sonuç ortaya çıkar?

A)

D
Y
D

 B)

D
D
D

 C)

Y
Y
D

 D)

Y
D
D

27) Satın alacağımız bir ürünün kaliteli olup olmadığını hangi özelliğine bakarak anlayabiliriz?

- A) Ambalajına
- B) TSE damgasına
- C) Reklamlara
- D) Son kullanma tarihine

28) Deprem öldürmez , bina öldürür.

Yukarıdaki cümlenin anlatmak istediği ile ilgili önlem olarak aşağıdakilerden hangisi **yapılamaz**?

- A) Binalarda maliyeti düşürmek için daha az demir ve çimento kullanılmalıdır.
- B) Binalar sağlam zeminler üzerine yapılmalıdır.
- C) Binalar depreme dayanıklı biçimde yapılmalıdır.
- D) Binaların depreme dayanıklılığı kontrol edilmelidir.

29) \triangle Kuşbakışı çizimlerdir.

- Göz kararı çizilir.
- Ölçüm yapılarak , belli bir oranda küçültülerek çizilir.
- Her şey çizilmez , önemli noktalar çizilir.


Yukarıdaki ifadelerden hangisi kroki için **yanlıştır**?

- A) \triangle B) \diamond C) \circ D) \square

30) Aşağıdaki olaylardan hangisi empati kurmaya örnek verilecek bir davranıştır?

- A) Bayramlarda büyüklerimizin elini öpmek.
- B) Ev işlerinde annemize yardım etmek.
- C) Zayıf yönlerimizi geliştirmek.
- D) Kendimizi ülkemizde yaşayan Suriyeli çocukların yerine koymak.

- 31) Basit bir elektrik devresinde hangisinin sayısı artırılırsa ampulün parlaklığı artar?

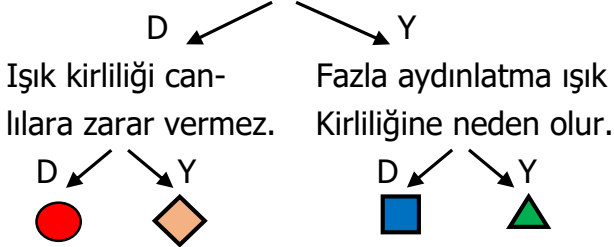


- 32) Buse : Ülke ekonomisine katkı sağlar.
Taner: Doğal kaynaklar çabuk tükenir.
Utku: Çöp miktarı azalır.
Gaye: Çevre kirliliği azalır.

Öğretmen öğrencilere geri dönüşümün faydalarını sormuş. Yanlış cevap veren öğrenci sınıf başkanymış. Buna göre sınıf başkanı kimdir?

- A) Gaye B) Utku
C) Taner D) Buse

- 33) Doğru aydınlatmada ışık doğrudan göze gelmemelidir.



Yukarıdaki ifadelerin doğru ve yanlış olmalarını dikkate alarak ilerlersek hangi şekle ulaşırız?

- A) B) C) D)

- 34) Pelin: Dün teyzemlerde ayran içtim.
Okan: Babam çaya şeker atmaz.
Betül: Ablam güzel salata yapar.

Üç arkadaşın söyledikleri altı çizili maddele ilgili aşağıdakilerden hangisi doğrudur?

	Pelin	Okan	Betül
A)	Karışım	Karışım	Saf
B)	Saf	Saf	Karışım
C)	Karışım	Saf	Karışım
D)	Karışım	Karışım	Karışım

- 35) I – Isı vererek gerçekleşir.

II- Isı alarak gerçekleşir.

Yukarıda bahsedilen olaylar aşağıdakilerden hangileridir?

- A) I – Erime II – Donma
B) I – Erime II – Buharlaştırma
C) I – Kaynama II – Donma
D) I – Donma II – Erime

- 36) K ve L maddenin iki farklı halidir.

☆ K ısı alarak L haline dönüşür.

☆ L sıkıştırılabilir.

Yukarıdaki ifadelere göre K ve L hallerine örnek verilebilecek maddeler hangileridir?

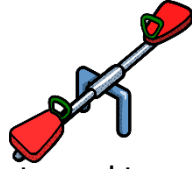
	K	L
A)	taş	süt
B)	pekmez	buhar
C)	demir	doğal gaz
D)	su	buz

37) Yandaki dereceli kaptan 85 mL su bulunmaktadır. Kabin içine bir taş bırakılıyor. Su 130 mL'ye kadar yükseliyor. Buna göre taşın hacmi ne kadardır?



- A) 45 mL B) 215 mL
C) 55 mL D) 35 mL

38) Yandaki tahterevallinin dengede durabilmesi için oturma yerlerine maddelerin ortak özelliklerini söyleyen çocuklar oturacaktır.



Mert : Renk Tuğçe : Hacim
Oğuz: Kütle Sinem : Sertlik
Yukarıdaki ifadeye göre hangi çocuklar oturursa tahterevalli dengede olur?

- A) Mert - Oğuz
B) Tuğçe - Sinem
C) Oğuz - Sinem
D) Tuğçe - Oğuz

39)



I - II

Ela



I - IV

Kerem



II - III

Zeynep



III - IV

Kayra

Öğretmen mıknatısın çekim etkisinin güçlü olduğu yerleri sormuş. Buna göre kim doğru cevap vermiştir?

- A) Kayra B) Ela
C) Kerem D) Zeynep

40)

Proteinler büyümeyi ve gelişmeyi sağlar. Doktor, Elif'e daha iyi büyümesi için proteini bol yiyecekler yemesini söylemiş.

◇ fasulye

○ makarna

▣ pirinç

△ yumurta

Yukarıdakilerden hangileri doktorun söylediği yiyeceklerdendir?

A) ◇ ▣

B) ◇ △

C) △ ○

D) ▣ ○

CEVAP ANAHTARI

TÜRKÇE	MATEMATİK	SOSYAL BİL.	FEN BİLİM.
1) B	11) B	21) D	31) B
2) D	12) D	22) B	32) C
3) C	13) B	23) A	33) A
4) B	14) C	24) C	34) C
5) A	15) A	25) B	35) D
6) D	16) C	26) D	36) B
7) A	17) D	27) B	37) A
8) C	18) A	28) A	38) D
9) C	19) B	29) C	39) C
10) B	20) C	30) D	40) B