




























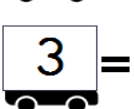






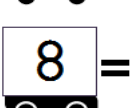
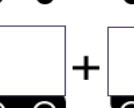
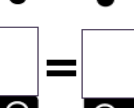




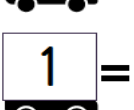
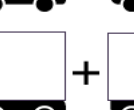
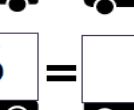

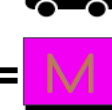
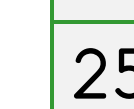

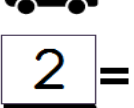
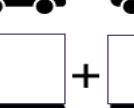
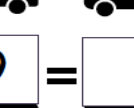













İşlemleri yapıp şifreyi bulunuz.



	+		=		+		=		-		=	
	+		=		+		=		-		=	
	+		=		+		=		-		=	
	+		=		+		=		-		=	
	+		=		+		=		-		=	
	+		=		+		=		-		=	
	+		=		+		=		-		=	
	+		=		+		=		-		=	

24	→	
26	→	
28	→	
27	→	
29	→	
22	→	
25	→	
23	→	

Aşağıdaki metinleri okuyup istenen saatleri çiziniz.



Haftada iki gün gitar kursuna gidiyorum. Kurs, her salı saat 09.00'da, her perşembe ise saat 11.30'da başlıyor.



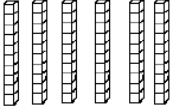


Salı	Perşembe
	

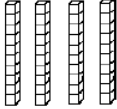
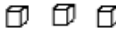

Merve sabah saat 08.30'da evden çıktı. Akşam saat 7'de eve döneceğini annesine söyledi.



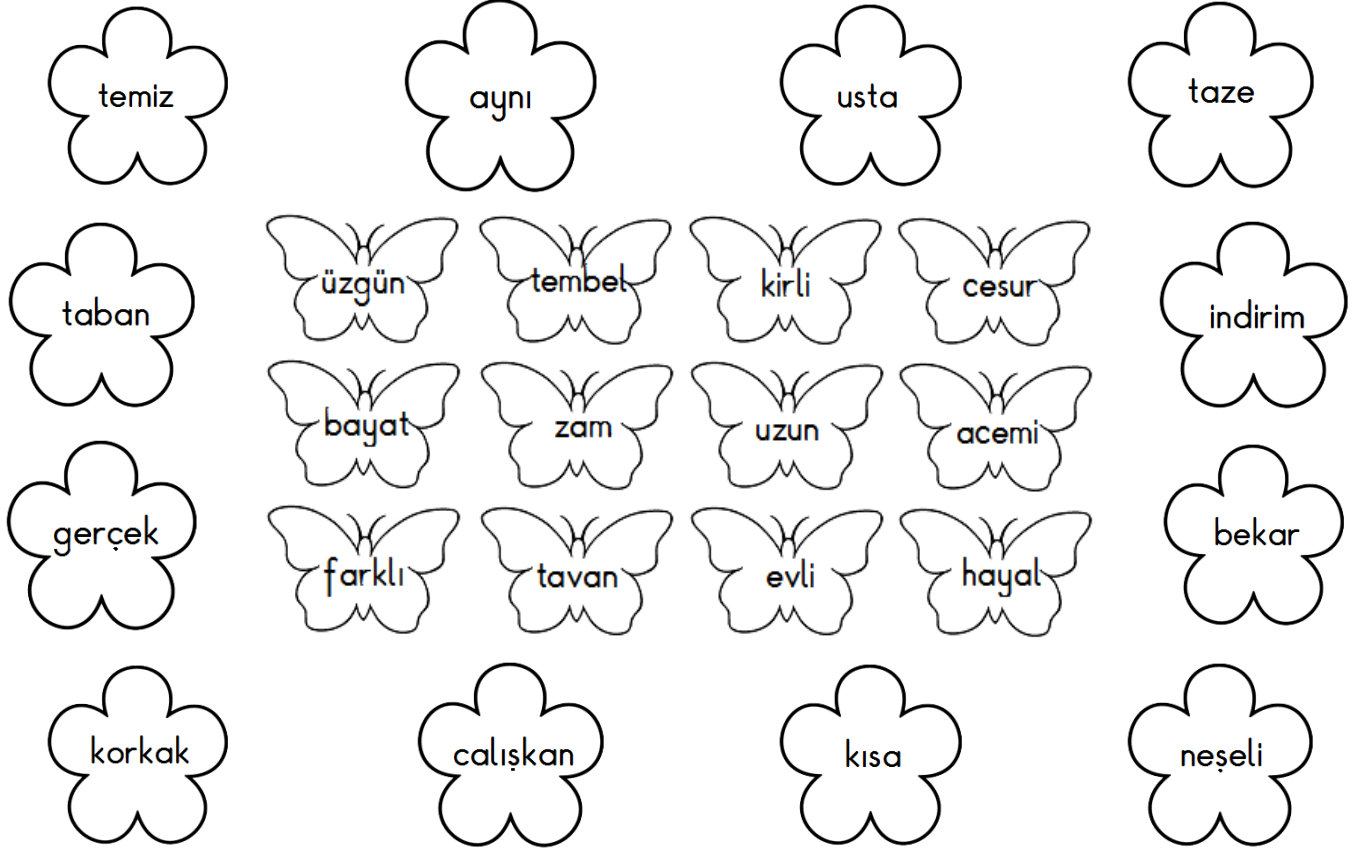
Çıkış	Dönüş
	

Onluk ve birlik blokları verilen sayıları kutulara yazınız.


ONLUK	BİRLİK
	
→	

ONLUK	BİRLİK
	
→	


✚ Kelimelerle zıt anlamlarını aynı renge boyayınız.



✚ İki resim arasındaki 7 farkı bulup kırmızı kalemle işaretleyiniz.

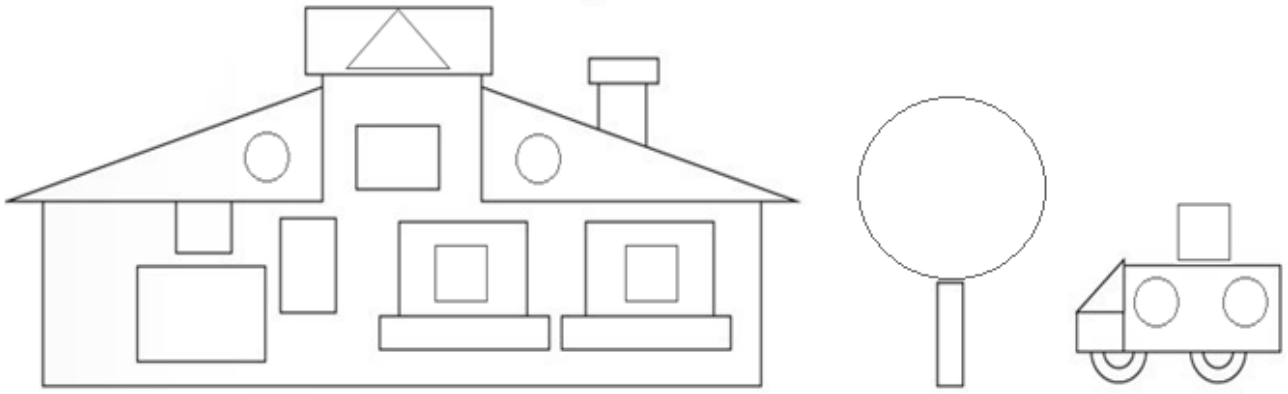


✚ Alfabetik sıraya göre verilen harflerin öncesini ve sonrasını yazınız.



✚ Verilen şekilleri, istenen renklerle boyayınız.

Üçgen → Turuncu	Kare → Yeşil	Dikdörtgen → Sarı	Çember → Mavi
-----------------	--------------	-------------------	---------------



✚ Örüntü kurallarına göre son kutulara gelecek şekilleri çiziniz.

						→	
						→	
						→	

✚ Paraların miktarlarını altlarına yazınız.

✚ Dörder dörder sayarak şekerlerin üzerine yazınız.



✚ Karışık harflerle verilen meyveleri yazıp bulmacada boyayınız.

Ü M Z Ü	İ K İ V	K E Ç L İ	A L E M	A R N
İR KE	U Z M	İ C R N İ	R İ A K Z	V A A Y



S	C	P	Ü	Z	Ü	M	F	İ	L
P	N	I	E	D	R	K	E	N	İ
E	L	M	A	Ö	M	Ğ	Ü	C	T
D	G	H	M	Ş	U	A	H	İ	K
E	R	İ	K	B	Z	Y	E	R	İ
Z	J	Ö	F	F	P	V	J	D	V
B	K	I	Y	A	V	A	L	N	İ
U	K	İ	R	A	Z	U	Ş	Z	Ğ
K	R	Z	L	E	Ç	İ	L	E	K
P	T	İ	O	M	K	L	N	A	R

✚ Cümlelerin sonuna gelecek noktalama işaretlerini boyayınız.


Teyzem yarın nereye gidecek ()	→	😊	!	?
Ali ile Sevgi sinemaya gittiler ()	→	😊	!	?
Eyvah, anahtarı evde unuttum ()	→	😊	!	?

✚ Verilen cümlelerle alakalı soruları cevaplayınız.



Ceyda pastaneden yaş pasta aldı.	→	Kim pasta aldı?	→	
	→	Nereden pasta aldı?	→	
Serhat Samsun'da gezerken palyaço görmüş.	→	Kim palyaço görmüş?	→	
	→	Nerede palyaço görmüş?	→	

İpucu verilen kelimeleri bulup karşlarına yazınız.

22.06.2021 Salı



İki resim arasındaki 10 farkı bulup kırmızı kalemle işaretleyiniz.



Farklı olan kelimeyi boyayınız.

1 elma marul muz

3 şahin karga yılan


5 kürek halı perde

2 gemi vapur kamyon

4 silgi etek defter

6 göz kulak ayak

✚ Aşağıdaki toplama ve çıkarma işlemlerini yapınız.



$$\text{Elephant} + \text{Horse} = \square$$

$$\text{Horse} + \text{Sheep} = \square$$

$$\text{Sheep} + \text{Duck} = \square$$

$$\text{Duck} + \text{Duck} = \square$$

$$\text{Elephant} + \text{Elephant} = \square$$

$$\text{Horse} + \text{Duck} = \square$$

$$\text{Horse} - \text{Sheep} = \square$$

$$\text{Sheep} - \text{Elephant} = \square$$

$$\text{Duck} - \text{Elephant} = \square$$

$$\text{Horse} - \text{Elephant} = \square$$

✚ Aşağıdaki üçlü toplama işlemlerini yapınız.

$$\begin{array}{r} 8 \\ 7 \\ + 2 \\ \hline \end{array}$$

$$\begin{array}{r} 6 \\ 7 \\ + 1 \\ \hline \end{array}$$

$$\begin{array}{r} 4 \\ 1 \\ + 2 \\ \hline \end{array}$$

$$\begin{array}{r} 9 \\ 1 \\ + 2 \\ \hline \end{array}$$

$$\begin{array}{r} 5 \\ 5 \\ + 4 \\ \hline \end{array}$$

$$\begin{array}{r} 6 \\ 7 \\ + 5 \\ \hline \end{array}$$

$$\begin{array}{r} 8 \\ 8 \\ + 3 \\ \hline \end{array}$$

$$7+2+3= \square$$

$$4+6+3= \square$$

$$5+7+3= \square$$

$$9+1+4= \square$$

$$8+2+3= \square$$

$$8+5+3= \square$$

Verilen kelimelerin eş anlamlarını yazınız.
Ardından yazdığınız kelimeleri bulmacadan bulunuz.

cimri	→	pinti	p	e	d	o	k	t	o	r	ö	z
isim	→		u	d	e	p	r	e	m	v	k	y
nehir	→		f	a	k	i	r	e	c	ı	ş	e
şehir	→		s	y	n	o	n	y	m	r	i	l
hekim	→		a	y	e	n	i	k	ı	m	ğ	ü
sene	→		d	z	m	b	a	n	k	a	e	n
yoksul	→		i	k	e	n	t	u	ş	k	l	y
rüzgar	→		p	o	z	i	y	t	e	r	m	e
mana	→		g	y	a	b	e	p	i	n	t	i
zelzele	→		e	ı	ğ	e	ş	a	t	ğ	z	n
mağlup	→		r	l	z	a	n	l	a	m	c	d

✚ Verilen harflerle başlayan, başlıklarla ilgili kelimeleri yazınız

İNSAN İSMİ	HAYVAN İSMİ	MEYVE İSMİ	SEBZE İSMİ	EŞYA İSMİ
Gizem	Fare	Şeftali	Marul	Defter
D	M	P	K	A
İ	K	E	F	E
B	Y	K	T	Ş
Ü	S	A	H	K
Ö	Z	Ç	B	S
L	A	M	P	T

✚ Karışık halde verilen kelimelerden kurallı cümleler oluşturup yazınız.

dururlar	ışıkta	arabalar	kırmızı	→	
ziyaret	komşumuz	etti	bizi	→	
pişirir	annem	nefis	yemekler	→	

✚ Bilmecelerin cevaplarını yazınız.

Gözlük	Ateş	Para	Yumurta	Karınca	Anne	Biber	Televizyon
--------	------	------	---------	---------	------	-------	------------

Pişirsen aş olur.
Pişirmezsene kuş olur.
Nedir?

Ne verirsene yer.
Su verirsene ölür.
Nedir?

Kuyruğu var, canlı değil.
Konuşur ama insan değil.
Nedir?

Elden ele ulaşır.
Tüm ülkeyi dolaşır.
Nedir?

Yedim yeşil bir kühah.
Ağzım yandı ah ah!
Nedir?

İki camlı pencere.
Bakıp durur her yere.
Nedir?

Karşıdan baktım hiç yok.
Yanına vardım pek çok.
Nedir?

Özü tatlı, sözü tatlı.
Candan daha kıymetli.
Nedir?

✚ Saatlerin okunuşlarını altlarına yazınız.



			Saat üç buçuk	
--	--	--	---------------	--

✚ Paralarımızın isimlerini altlarına yazalım.

25 kuruş			

İpucu verilen kelimeleri bulup karşlarına yazınız.

23.06.2021 Çarşamba




















İki resim arasındaki 10 farkı bulup kırmızı kalemle işaretleyiniz.








Resimleri verilen araçların isimlerini altlarına yazınız.



✚ Resimleri verilen varlıklarla ilgili etkinliği örnekteki gibi yapınız

					
ismi	→ sandalye				
harf sayısı	→ 8 harfli				
ünlüleri	→ a-a-e				
ünsüzleri	→ s-n-d-l-y				

					
ismi	→				
harf sayısı	→				
ünlüleri	→				
ünsüzleri	→				

✚ Eksik bırakılan kutuları tamamlayınız.

→	Pazartesi			Perşembe			
---	-----------	--	--	----------	--	--	--

→	bir			beş				on
---	-----	--	--	-----	--	--	--	----

→	A		Ç		G				K
	L		O		S				Y

✚ Karışık halde verilen kelimelerden anlamlı cümleler oluşturunuz.

gelince	çiçekler	ilkbahar	açar.	→	
---------	----------	----------	-------	---	--


yarıшта	Serhat	oldu	birinci	→	
---------	--------	------	---------	---	--

kurtarır	emniyet	kemeri	hayat	→	
----------	---------	--------	-------	---	--

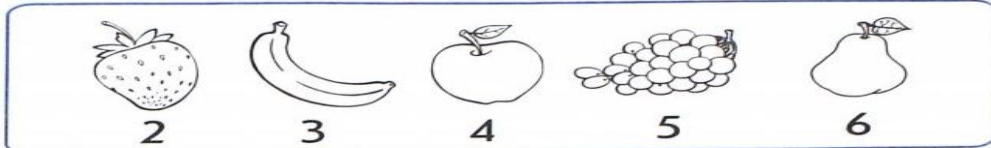
yardım	yaşlı	insanlara	etmeliyiz	→	
--------	-------	-----------	-----------	---	--




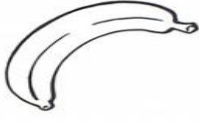






✚ Toplama ve çıkarma işlemlerinin sonuçlarına göre boyamanızı yapınız.

11	→ Açık Mavi	12	→ Kırmızı	13	→ Sarı
14	→ Yeşil	15	→ Turuncu	16	→ Mor



✚ Meyveleri kendi renkleriyle boyayıp toplama işlemlerini yapınız.



	+		=	<input type="text"/>
	+		=	<input type="text"/>
	+		=	<input type="text"/>
	+		=	<input type="text"/>
	+		=	<input type="text"/>



DÜŞÜN VE YAZ

Sıcakta eriyen 2 şey yaz.	Kırmızı olan 2 şey yaz.	Yuvarlak olan 2 şey yaz.
1. <input type="text"/>	1. <input type="text"/>	1. <input type="text"/>
2. <input type="text"/>	2. <input type="text"/>	2. <input type="text"/>
Sevdiğin 2 yiyeceği yaz.	Ülkemizden 2 şehir ismi yaz.	Tatil olan günleri yaz.
1. <input type="text"/>	1. <input type="text"/>	1. <input type="text"/>
2. <input type="text"/>	2. <input type="text"/>	2. <input type="text"/>
Suda yüzen 2 şey yaz.	Anne ve babanın adlarını yaz.	Havada uçan 2 şey yaz.
1. <input type="text"/>	1. <input type="text"/>	1. <input type="text"/>
2. <input type="text"/>	2. <input type="text"/>	2. <input type="text"/>

BİLMECELER

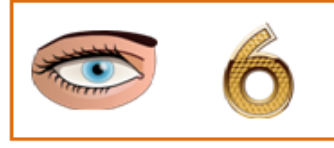
Ekin taşır ambara. Kuyruklu bir kumbara. Nedir?	Dışı var, içi yok. Dayak yer, suçu yok. Nedir?	Telde yürür, görünmez. Ev ev gezer, erinmez. Nedir?
▶ <input type="text" value="F....."/>	▶ <input type="text" value="T....."/>	▶ <input type="text" value="E....."/>
Kollarımla sarkarım. Daldan dala atlarım Nedir?	Ben giderim, o gider. İçimde tık tık eder. Nedir?	Zilim var, kapım yok. Konuşurum, ağzım yok. Nedir?
▶ <input type="text" value="M....."/>	▶ <input type="text" value="K....."/>	▶ <input type="text" value="T....."/>
Dağı var, taşı yok. Denizi var, kuşu yok. Nedir?	Ormanların kralı. Ondan uzak durmalı. Nedir?	Ayakları su içer. Üstünden gelen geçer. Nedir?
▶ <input type="text" value="H....."/>	▶ <input type="text" value="A....."/>	▶ <input type="text" value="K....."/>

✚ Okunuşları verilen saatlerin akrep ve yelkovanlarını çiziniz.


				
Saat yedi	Saat bir buçuk	Saat on iki	Saat beş buçuk	Saat sekiz

İpucu verilen kelimeleri bulup karşlarına yazınız.

24.06.2021 Perşembe



İki resim arasındaki 10 farkı bulup kırmızı kalemle işaretleyiniz.



Örnekteki gibi verilen kelimenin son harfiyle istenen kelimeleri türetiniz.


İnsan İsmi	Hayvan	Bitki	Eşya	Şehir
Esm (a) →	Asla (n) →	Na (r) →	Rady (o) →	Ordu
Ahme (t) →				
Sevg (i) →				
Ferid (e) →				
Zeyne (p) →				

✚ İşlemleri yapınız ve örnekteki gibi yanındaki doğru sonuçla eşleştiriniz.


$\begin{array}{r} 4 \\ +5 \\ \hline \end{array}$	8 9 18	$\begin{array}{r} 9 \\ -5 \\ \hline \end{array}$	3 4 5	$\begin{array}{r} 9 \\ +5 \\ \hline \end{array}$	12 13 14
$\begin{array}{r} 15 \\ +10 \\ \hline \end{array}$	25 26 27	$\begin{array}{r} 15 \\ +6 \\ \hline \end{array}$	19 20 21	$\begin{array}{r} 19 \\ -8 \\ \hline \end{array}$	11 12 13
$\begin{array}{r} 8 \\ -5 \\ \hline \end{array}$	3 4 5	$\begin{array}{r} 18 \\ +9 \\ \hline \end{array}$	26 27 25	$\begin{array}{r} 10 \\ -10 \\ \hline \end{array}$	0 1 2

✚ Belirtilen şekilleri istenen renklerle boyayınız.

Üçgen	→ Sarı	Kare	→ Mavi	Dikdörtgen	→ Mor	Çember	→ Yeşil
-------	--------	------	--------	------------	-------	--------	---------




✚ Ördeklerden oluşan sayı tablosunu uygun sayılarla tamamlayınız.



✚ İkili verilen kelimelerden eş anlamlıları sarıya, zıt anlamlıları mora boyayınız.



✚ Aşağıdaki meyve ve sebzelerin isimlerini yazınız.



✚ Aşağıdaki cümle etkinliklerini yapınız.

DÜŞÜN VE YAZ	
Siyah renkli bir şey yaz.	
Şehrinin adını yaz.	
En sevdiğin dersi yaz.	
Sevimli bir hayvan yaz.	
Bir ev eşyası yaz.	
Güzel kokan bir çiçek yaz.	

CÜMLEYİ TAMAMLA	
Eve gelir gelmez	
Ben en çok	
Matematik dersi	
Para olmasaydı	
Ben büyüyünce	
İlkbahar mevsiminde	

✚ İstenen zaman ölçülerini yazınız.

Hafta içi günleri					Hafta sonu günleri	
1.gün	2.gün	3.gün	4.gün	5.gün	6.gün	7.gün

1. Ay	2. Ay	3. Ay	4. Ay	5. Ay	6. Ay

7. Ay	8. Ay	9. Ay	10. Ay	11. Ay	12. Ay

Kış mevsiminin ayları			İlkbahar mevsiminin ayları		

Yaz mevsiminin ayları			Sonbahar mevsiminin ayları		

✚ Paraların miktarlarını altlarına yazınız.



✚ Aşağıdaki iki işlemleri problemleri çözünüz.

Bir otobüste 27 yolcu vardı. Durakta 6 yolcu indi ve 9 yeni yolcu bindi. Şimdi otobüste kaç yolcu oldu?

Çözüm

--

Şeyma'nın 14 ceviz vardı. Annesi 8 ceviz daha verdi. Şeyma cevizlerden 6 tanesini yedi. Kaç ceviz kaldı?

Çözüm

--

İki kutudan birincisine 9 misket, ikincisine birincisinden 6 fazla misket koydum. İki kutuda toplam kaç misket oldu?

Çözüm

--

✚ Boşluklara gelecek uygun kelimeyi boyayınız.

25.06.2021 Cuma

Kahvaltıda içtim.



peynir

çay

reçel

..... bugün etek giymiş.



Alper

Kadir

Sevgi

Selim dün işe gitti.



yürüyerek

durarak

yatarak

..... et yiyerek beslenir.



koyun

tavuk

aslan

Hediyeyi görünce oldu.



mutsuz

mutlu

üzgün

Merve şarkı dinledi.





masadan

pilden

radyodan

✚ İki resim arasındaki 7 farkı bulup kırmızı kalemle işaretleyiniz.



✚ Alfabeyi yazınız. Ardından eksik harfleri ve harf sayılarını yazınız.

1	2	3	4	5	6	7	8	9	10	11	12	13	14	15
A						F				I				

16	17	18	19	20	21	22	23	24	25	26	27	28	29
			Ö								V		

ge.y.ik → 5 harf	ka...lan →	sab...r →
...oğa →	mendi... →	geze...en →
balı...a →	...urt →	h...ber →

✚ Verilmeyen toplananları bulup, şifreyi çözünüz.

$$\star + 6 = 15$$

$$3 + \blacksquare = 9$$

$$4 + \bullet = 11$$

$$\triangle + 8 = 12$$

$$\blacklozenge + 8 = 13$$

$$7 + \heartsuit = 17$$



$$\bullet + \star = F$$

$$\heartsuit - \blacklozenge = N$$

$$\triangle + \blacksquare = R$$

$$\blacksquare - \blacklozenge = i$$


$$\triangle + \bullet = A$$

$$\star + \heartsuit = E$$

ŞİFRE →

11	16	19	10	1	5

✚ Belirtilen şekilleri, istenen renklerle boyayınız.




Üçgen → Sarı

Kare → Turuncu



Dikdörtgen → Mavi

Çember → Mor

✚ Balıklardan oluşan sayı tablosunu uygun sayılarla tamamlayınız.



✚ Mesleklerin isimlerini altlarına yazınız.



Verilen kelimelerin zıt anlamlarını yazınız.
Ardından yazdığınız kelimeleri bulmacadan bulunuz.

sabah	→	<input type="text"/>	u	c	b	a	r	ı	ş	k	a	t
çalışkan	→	<input type="text"/>	m	p	o	t	e	m	b	e	l	ü
pahalı	→	<input type="text"/>	a	ç	ı	k	a	z	b	v	o	n
zengin	→	<input type="text"/>	k	r	b	e	m	s	e	r	t	e
hayır	→	<input type="text"/>	ç	a	s	v	a	y	n	a	h	ş
kapalı	→	<input type="text"/>	e	k	i	e	l	f	a	k	i	r
savaş	→	<input type="text"/>	f	ş	g	t	ı	l	ğ	e	c	e
yumuşak	→	<input type="text"/>	p	a	u	m	c	e	s	u	r	p
korkak	→	<input type="text"/>	i	m	a	r	k	d	u	c	u	z

BİLMECELER

Ağzını açar, alev saçar.
Üstünde yemek pişer.

Nedir?

▶

Kocamandır, denizde yaşar.
Üstünden sular taşar.

Nedir?

▶

Yürüyerek dolaşır.
Her yere mektup taşır.

Nedir?

▶

Havada dolaştırır.
Yolcuları ulaştırır.

Nedir?

▶

Doktor verdi, ben içtim.
Çabucak iyileştim.

Nedir?

▶

İp bağıladım çıtaya.
Uçtu gitti tepeye.

Nedir?

▶

Okunuşları verilen saatlere akrep ve yelkovan çiziniz.



Saat on bir

Saat beş buçuk

Saat yedi

Saat üç buçuk

Saat dokuz

Kuralları verilen ritmik saymalardaki eksik kutuları tamamlayınız.

Birer geri say	→	30		27			23		
----------------	---	----	--	----	--	--	----	--	--





İkişer ileri say	→	12	14		20			28	
------------------	---	----	----	--	----	--	--	----	--

Dörder ileri say	→	24		32		44			60
------------------	---	----	--	----	--	----	--	--	----

Beşer geri say	→	90	85				60		
----------------	---	----	----	--	--	--	----	--	--

Paralarımızın isimlerini altlarına yazalım.

VERİLEN PROBLEMLERİ ÇÖZÜNÜZ

29 sayısına 6 ekleyiniz.
Ardından bulduğunuz
sayıdan 10 çıkarınız. Sonuç
kaç oldu?

Çözüm

40 sayfalık kitaptan dün 10
sayfa, bugün ise 7 sayfa
okudum. Okumadığım kaç
sayfa kaldı?

Çözüm

Birol 9 yaşındadır. Abisi
ondan 5 yaş büyüktür.
İkisinin yaşları toplamı
kaçtır?

Çözüm

✚ Verilen cümlelerle alakalı soruları cevaplayınız.

26.06.2021 Cumartesi

Nergis ve Şule salı
günü alışveriş yaptılar.

→ Kimler alışveriş yaptılar? →

→ Ne zaman yaptılar? →

Polat gitar kursuna
gitmek istiyor.

→ Kim kursa gitmek istiyor? →

→ Hangi kursa gitmek istiyor? →

Bilal evde oynarken
yanlışlıkla vazoyu
kırdı.

→ Bilal nerede oynuyordu? →


→ Bilal yanlışlıkla neyi kırdı? →

Abim kitap almak için
babamdan 10 lira
istedi.

→ Abim kaç lira istedi? →

→ Abim ne almak istiyor? →

✚ İki resim arasındaki 7 farkı bulup kırmızı kalemle işaretleyiniz.



✚ Verilen kelimeleri alfabetik sıraya göre sıralayınız.

model	1	
zarar	2	
şefkat	3	
benzin	4	
fazla	5	

defter	1	
sebep	2	
garanti	3	
peçete	4	
helva	5	

✚ Tavukların üzerindeki işlemleri yapıp doğru yavruyu boyayalım.

15 - 7

6 8 10

38 + 4

40 41 42

26 - 9

17 18 19

67 + 5

71 72 73

41 - 5





36 37 38

59 + 8

65 66 67

✚ Geometrik şekilleri istenen renklerle boyayıp, isimlerini altlarına yazınız.

Üçgen → Sarı Kare → Mavi Dikdörtgen → Yeşil Çember → Pembe



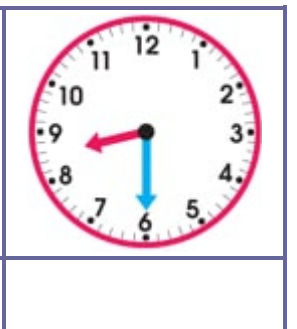
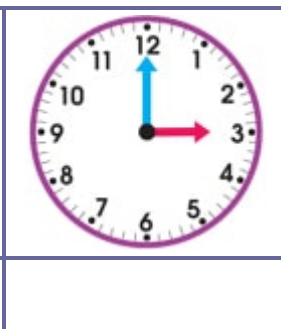
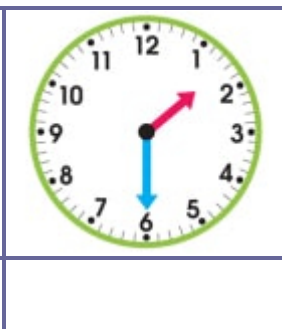
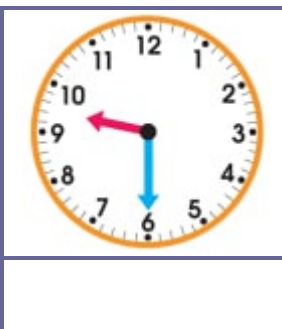
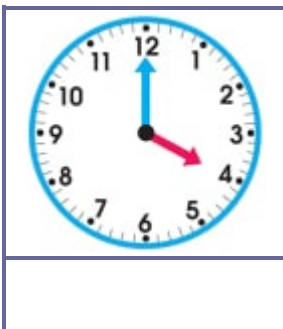
Blank writing lines for the rectangle.

Blank writing lines for the triangle.


Blank writing lines for the circle.

Blank writing lines for the square.

✚ Verilen saatlerin okunuşlarını altlarına yazınız.



✚ Resme bakarak sizden istenenleri yapınız.



→ Koltukları açık yeşile boy.

→ Halı ve sandalyeleri mora boy.

→ Duvarları sarıya boy.

→ Diğerlerini istediğin renge boy.

Resimde kaç tablo var? →

Burası evin hangi odası? →

Hangi hayvanı gördün? →

Masanın üstünde ne var? →

✚ Aşağıdaki cümle etkinliklerini yapınız.

DÜŞÜN VE YAZ	
Mavi renkli bir şey yaz.	
Ülkemizin adını yaz.	
En sevdiğin meyveyi yaz.	
Tehlikeli bir hayvan yaz.	
Bir tamir eşyası yaz.	
Kötü kokan bir şey yaz.	

CÜMLEYİ TAMAMLA	
Mavi renkli bisiklet	
Kahvaltıdan sonra	
Annem gömleğimi	
Büyüklerimize saygılı	
Her gün dişlerimi	
Tanımadığım insanlarla	

✚ Yazılışı doğru olan kelimeleri yeşile, yanlış olanları kırmızıya boyayınız.

pirens

eczane

çifçi

elektirik

yalnız

dakka

prens

dinazor

şöför

ezzane

dakika

şoför

elektrik

dinozor

yanlız

çiftçi

✚ Aşağıdaki iki işlemli problemleri çözünüz.

Dedemin tarlasında 15
findık ağacı, findık
ağaçlarından 6 eksik
ceviz ağacı var. Tarlada
toplam kaç ağaç var?

Çözüm

Bayramda, babam 7,
annem 9 şeker verdi.
Şekerlerimin 8 tanesini
kaybettim. Geriye kaç
şekerim kaldı?

Çözüm

23 sayısına 9 ekleyiniz.
Ardından bulduğunuz
sonuçtan kendi yaşınızı
çıkartınız. Sonuç kaç
oldu?

Çözüm

✚ Paraların toplam miktarlarını altlarına yazınız.



✚ İşlemleri inceleyip toplama (+) veya çıkarma (-) işareti koyunuz.

$$9 \quad \text{☁} \quad 3 \quad = \quad 6$$

$$15 \quad \text{☁} \quad 7 \quad = \quad 8$$

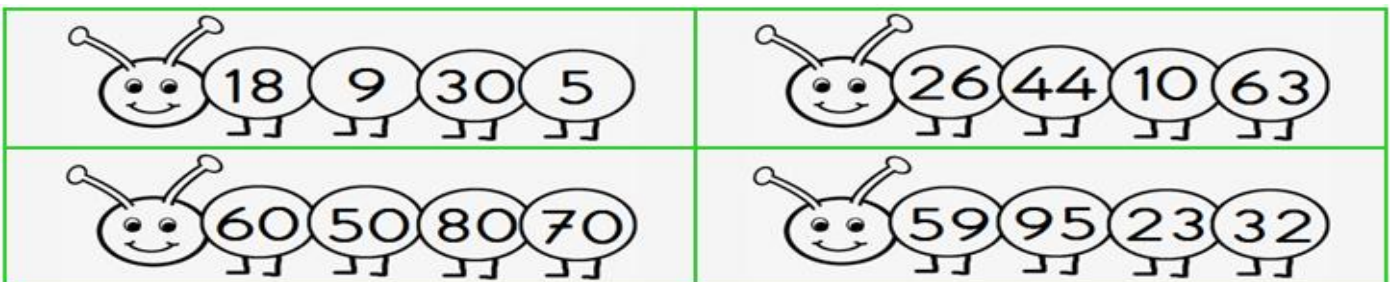
$$8 \quad \text{☁} \quad 2 \quad = \quad 10$$

$$6 \quad \text{☁} \quad 5 \quad = \quad 1$$

$$29 \quad \text{☁} \quad 5 \quad = \quad 34$$

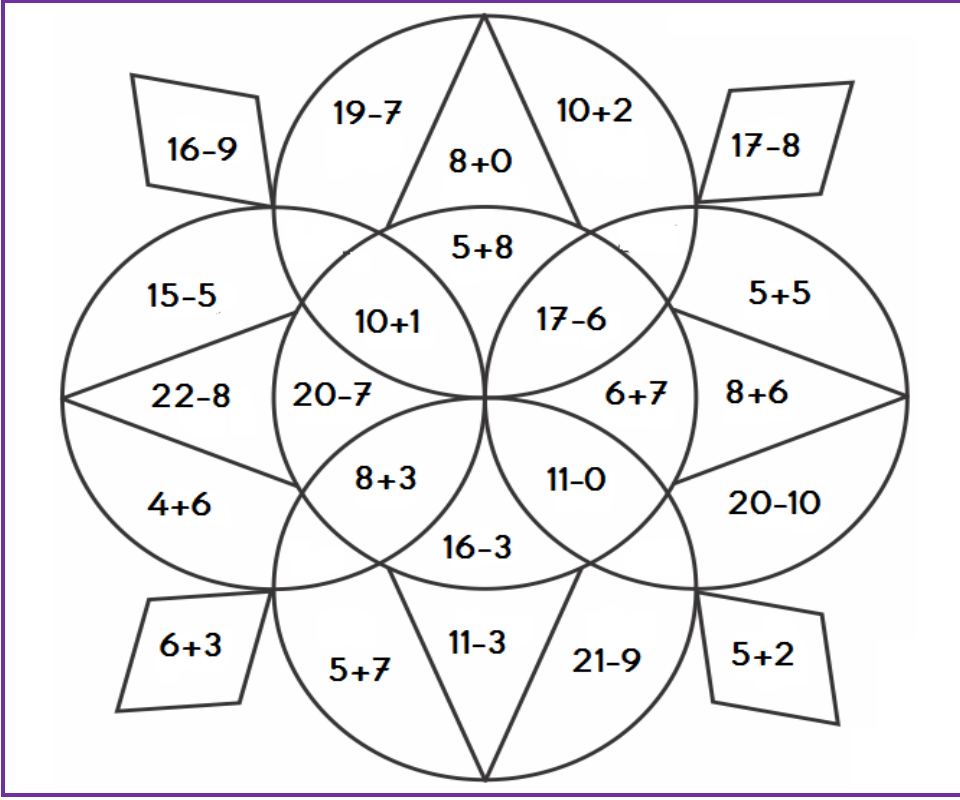
$$72 \quad \text{☁} \quad 9 \quad = \quad 81$$

✚ Her tırtılın içindeki en büyük sayıyı maviye, en küçük sayıyı sarıya boya.



İşlemlerin sonuçlarına göre boyamanızı yapınız.

27.06.2021 Pazar



7	→	Mor
8	→	Turuncu
9	→	Açık Yeşil
10	→	Sarı
11	→	Pembe
12	→	Gri
13	→	Açık Mavi
14	→	Kırmızı

Saatlerin okunuşlarını veya akrep ve yelkovanlarını tamamlayınız.

Saat on buçuk →		Saat bir →		Saat üç buçuk

Aşağıdaki iki işlemleri çözünüz.

Demet'in 9 mavi tokası, mavilerden 8 fazla kırmızı tokası var. Demetin toplam kaç tokası var?

Çözüm

Kemal'in 37 lirası vardı. Babası 5 lira daha verdi. Kemal parasının 9 lirasını harcadı. Geriye kaç lirası kaldı?

Çözüm

Bir ağaçta 24 kuş vardı. Kuşlardan 6 tanesi uçtu. Daha sonra ağaca 10 kuş daha kondu. Şimdi ağaçta kaç kuş var?

Çözüm

✚ Resme bakarak sizden istenenleri yapınız.



Erkeklerin saçlarını sarıya boya.

Çöp kovasını turuncuya boya.

Çimenlik alanı açık yeşile boya.

Kalan yerleri istediğin gibi boya.

Resimde kaç çocuk var?

Hangi mevsim olabilir?

Resimde tahterevalli var mı?

Kitap okuyan kişi kız mı?

✚ İki resim arasındaki 10 farkı bulup kırmızı kalemle işaretleyiniz.



✚ Örnekteki gibi, kelimelerin eş anlamlarını yazıp cümle içinde kullanınız.

cimri	→	pinti	→	Pinti olan kişiyi kimse sevmez.
küçük	→		→	
ihhtiyar	→		→	
armağan	→		→	
doktor	→		→	
nehir	→		→	
cevap	→		→	

✚ İşlemlerdeki verilmeyen toplananları bulup alttaki işlemleri yapınız.

$$\text{Koyun} + 9 = 14 \quad 5 + \text{Kedi} = 13$$

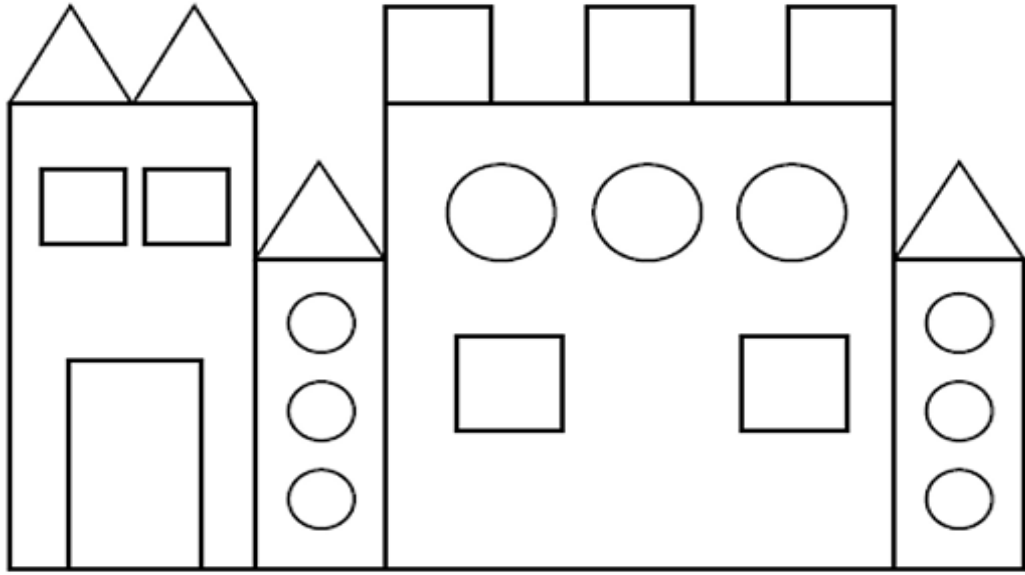
$$10 + \text{Aslan} = 16 \quad \text{Köpek} + 8 = 15$$

▼


$$\begin{array}{ccccccc} \text{Koyun} & + & \text{Aslan} & + & \text{Kedi} & = & \square \\ \text{Köpek} & + & \text{Koyun} & + & \text{Aslan} & = & \square \end{array}$$

✚ Belirtilen şekilleri, istenen renklerle boyayınız.

Üçgen → Yeşil	Kare → Mavi	Dikdörtgen → Sarı	Çember → Turuncu
---------------	-------------	-------------------	------------------



✚ Paraların miktarlarını altlarına yazınız.



✚ Her satırdaki farklı kelimeyi bulup boyayınız.

1	→	halı	→	koltuk	→	perde	→	araba	→	yatak
2	→	Sema	→	Ayşe	→	Fatih	→	Pınar	→	Gizem
3	→	Ordu	→	Sinop	→	Bursa	→	Hatay	→	Türkiye
4	→	Kurt	→	İnek	→	Aslan	→	Çita	→	Kaplan
5	→	Zeytin	→	Süt	→	Ayran	→	Yoğurt	→	Peynir

✚ Resimlerle ilgili cümleleri okuyunuz. Yanlış olan cümlenin kutusunu boyayınız.

	<p>Dışerimizi fırçalamalıyız.</p> <p>Çok şeker yememeliyiz.</p> <p>On tane dişimiz vardır.</p>		<p>Aslanlar et yerler.</p> <p>Evde aslan besleyebiliriz.</p> <p>Aslanın kuyruğu vardır.</p>
	<p>Yazın kaban giyeriz.</p> <p>Yaz mevsimi sıcaktır.</p> <p>Yazın okullar tatil olur.</p>		<p>Arkadaşlık çok güzeldir.</p> <p>Paylaşmak çok güzeldir.</p> <p>Cimri olmak iyi bir şeydir.</p>

✚ Alfabede eksik bırakılan harfleri yazıp ünlü harfleri maviye boyayınız.

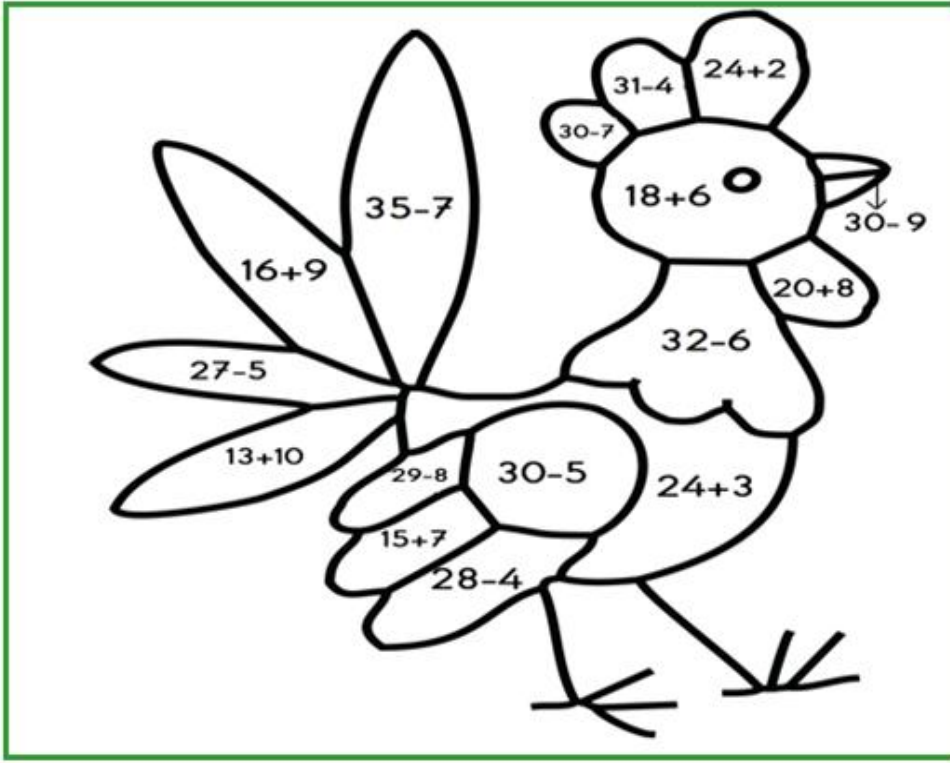
→	A			Ç					Ğ					K
L									Ş					

✚ Verilen kelimeleri alfabetik sıraya göre sıralayınız.

kardeş	1		damat	1		yardım	1	
zeytin	2		şarkı	2		asker	2	
hediye	3		vergi	3		cimri	3	
benzin	4		gitar	4		lamba	4	

İşlemlerin sonuçlarına göre resmi boyayınız.

28.06.2021 Pazartesi



21	Kahverengi
22	Koyu Yeşil
23	Açık Mavi
24	Pembe
25	Mor
26	Kırmızı
27	Sarı
28	Turuncu

Aşağıdaki metinleri okuyup istenen saatleri çiziniz.

Ayşe İstanbul'daki babaannesini ziyaret etti. Uçağı Samsun'dan saat 09.30'da havalandı. Uçak İstanbul'a saat 11.00'da indi. Ayşe babaannesini çok özlemişti.



Kalkış Saati



İniş Saati



Serhat bu sabah erken kalktı. Saat 07.30'da kahvaltısını yaptı. Sonra bahçede çalışan babasına yardıma koştu. Akşam saat 7'de akşam yemeğini yediler.



Kahvaltı




Akşam Yemeği





Paraların miktarlarını altlarına yazınız.



✚ Çocukların gösterdiği kelimelerle zıt anlamlarını aynı renge boyayınız.



✚ İki resim arasındaki 12 farkı bulup kırmızı kalemle işaretleyiniz.



✚ Cümleleri okuyunuz ve uygun cevaplar yazınız.

Bir yılda kaç ay vardır?	<input type="text"/>
Çok ağır olan bir şey yaz.	<input type="text"/>
Ekşi bir meyve ismi yaz.	<input type="text"/>
Ağaçtan yapılan bir eşya yaz.	<input type="text"/>

Seksen beşten sonra kaç gelir?	<input type="text"/>
Hangi mevsimde çiçekler açar?	<input type="text"/>
Et satan kişiye ne denir?	<input type="text"/>
Denizde giden bir araç yaz.	<input type="text"/>

✚ Aşağıdaki iki işlemli problemleri çözünüz.

Benim 19 tane, kardeşimin ise 7 tane şekeri var. Şekerlerimizden 9 tanesini yersek geriye kaç tane kalır?

Çözüm


Ali'nin 14 lirası, Sema'nın ise Ali'den 6 lira az parası var. Paralarını birleştirirlerse toplam kaç lira olur?

Çözüm

Abim 38 boya kaleminin 8 tanesini bana 10 tanesini ablama verdi. Abimin kaç tane boya kalemi kaldı?

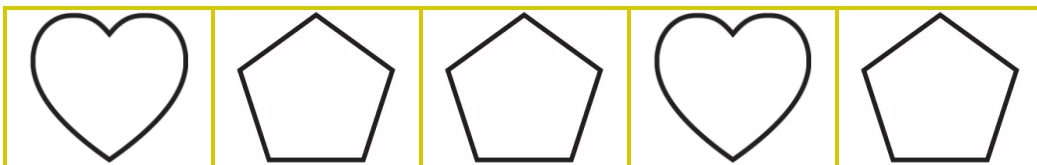

Çözüm

✚ Geometrik şekilleri belirtilen renklerle boyayınız.




Dikdörtgen →	Mavi
Çember →	Yeşil
Kare →	Turuncu
Üçgen →	Mor

✚ Örüntüleri inceleyiniz ve örüntü kuralına göre son kutuya gelecek şekli çiziniz.



✚ Resme bakarak sizden istenenleri yapınız.



Bütün masaları sarıya boy.	
Gözlük takan kızın hırkasını mora boy.	
Öndeki erkeğin hırkasını yeşile boy.	
Kalan yerleri istediğin gibi boy.	
Resimde kaç kişi var?	
Burası neresi olabilir?	
Herkes elini kaldırmış mı?	
Resimde kaç kitap var?	

✚ Verilen cümlelerle ilgili istenen bilgileri örnekteki gibi yazınız.

Cümleler		Harf Sayısı	Hece Sayısı	Kelime Sayısı
Sabah erken kalktım.	→	17	6	3
Ali sıcak çorba içemez.	→			
Ben yedi yaşındayım.	→			
Sokağa çıkma yasağı var.	→			
Televizyon bozuldu.	→			

✚ Alfabe eksik bırakılan harfleri yazıp ünlü harfleri maviye boyayınız.

→	a				d					h				k
l							s						y	

✚ Verilen kelimeleri alfabetik sıraya göre sıralayınız.


soba	1		pazar	1		şekil	1	
çuval	2		zurna	2		lüzum	2	
terlik	3		anten	3		bebek	3	
hazır	4		fener	4		önder	4	

✚ Kelimelerle eş anlamlarını aynı renge boyayınız.

29.06.2021 Salı



✚ İki resim arasındaki 8 farkı bulup kırmızı kalemle işaretleyiniz.



✚ Verilen cümlelerle alakalı soruları cevaplayınız.

Zeynep eli parçalık yapbozu bir saatte yapamadı.	→ Kim yapbozu yapamadı? →	<input type="text"/>
	→ Yapboz kaç parçaydı? →	<input type="text"/>
Serhat dayım tatilde Samsun'a gelince bize oyuncak alacak.	→ Kim oyuncak alacak? →	<input type="text"/>
	→ Nereye gelecek? →	<input type="text"/>
Buzdolabımız bozulunca babam hemen tamirciyi aradı.	→ Babam kimi aradı? →	<input type="text"/>
	→ Hangi eşya bozuldu? →	<input type="text"/>

✚ Sırayla işlemleri yapıp, sonuçlara göre verilen harflerle şifreyi bulunuz.

18	+9	○	-5	○	-8	○	+10	○	+6	Y
51	-8	○	-6	○	+4	○	+3	○	-9	T
17	-2	○	+10	○	-5	○	+7	○	+5	K
28	-6	○	+9	○	+5	○	-4	○	+1	i
36	-5	○	-8	○	+2	○	+5	○	+4	E
40	-7	○	+2	○	-6	○	-1	○	+9	Ü
55	-8	○	+2	○	-6	○	+1	○	-6	R

35	→	□
37	→	□
38	→	□
32	→	□
33	→	□
30	→	□
34	→	□

✚ Aşağıdaki metinleri okuyup istenen saatleri çiziniz.

Spor yapmak sağlığımız için gereklidir. Her gün saat 09.00'da koşmaya başlıyorum. Saat 11.30'da ise koşmayı bırakıyorum.



Başlangıç	Bitiş

Ben her gün kitap okuyorum. Her gün birinci okumamı 07.30'da yapıyorum. İkinci okumamı ise akşam saat 5'te yapıyorum.



1. Okuma	2. Okuma

✚ Paraların miktarlarını altlarına yazınız.

□	

□	

□	

BİLMECELER

Ormanların kralı.
Biraz uzak durmalı.
Nedir?

A.....

Benim bir demirim var
Leylek gibi ağzını açar.
Nedir?

M.....

Herkeste iki tanedir.
Dünyaya açılan penceredir.
Nedir?

G.....

Bacakları uzun, ince.
Göçüp gider güz gelince.
Nedir?

L.....

Benim bir ağacım var.
Her gün yaprak döker.
Nedir?

T.....

Ay varken açarlar.
Gündüzleri kaçarlar.
Nedir?

Y.....

✚ Verilen harflerle başlayan, başlıklarla ilgili kelimeleri yazınız.

İNSAN İSMİ	HAYVAN İSMİ	MEYVE İSMİ	SEBZE İSMİ	EŞYA İSMİ
G	Y	K	P	Ş
D	M	M	T	A
Ö	K	Ş	F	R
R	S	A	H	D
C	P	Ç	K	B

✚ Kelimeleri hece sayılarına göre boyayınız. (Ünlü Harf Sayısı = Hece Sayısı)

1 heceliler → Turuncu

2 heceliler → Sarı

3 heceliler → Mor

4 heceliler → Yeşil



✚ Alfabede eksik bırakılan harfleri yazıp ünlü harfleri sarıya boyayınız.

→	A					F								K
L							Ş							

✚ Aşağıdaki iki işlemleri problemleri çözünüz.

Tabakta 5 elma vardı.
Annem tabağa 7 elma
daha koydu. Ben 3
tanisini yedim. Kaç elma
kaldı?

Çözüm

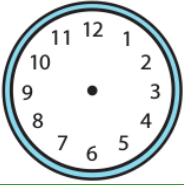
35 lira param vardı. 8
lirayla dondurma ve 6
lirayla defter aldım.
Geriye kaç liram kaldı?

Çözüm

Ben 19 kiloyum.
Kardeşimin kilosu benden
10 kilo daha azdır. Buna
göre ikimiz toplam kaç
kiloyuz?

Çözüm



✚ Saatlerin okunuşlarını veya akrep ve yelkovanlarını tamamlayınız.



Saat bir buçuk



Saat dokuz



Saat on bir

✚ Verilen şekilleri, istenen renklerle boyayınız.

Üçgen



Yeşil

Kare



Mavi

Dikdörtgen

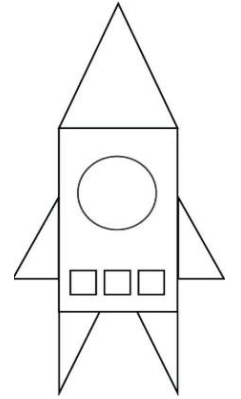



Mor



Çember



Turuncu

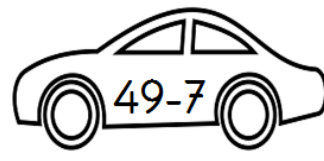

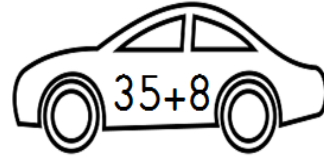


✚ Örüntüleri inceleyiniz ve örüntü kuralına göre son kutuya gelecek şekli çiziniz.



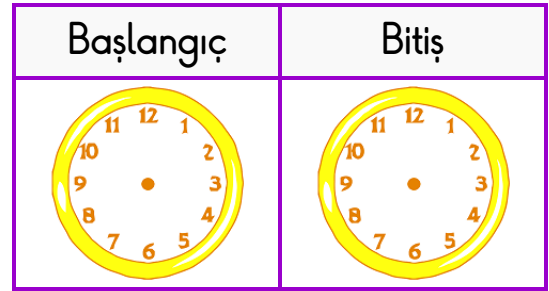
✚ Arabalar ile sonuçlarını aynı renge boyayınız.

30.06.2021 Çarşamba

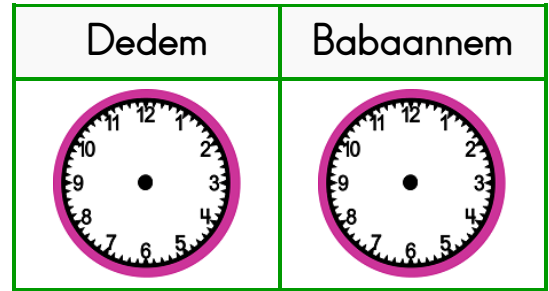


✚ Aşağıdaki metinleri okuyup istenen saatleri çiziniz.

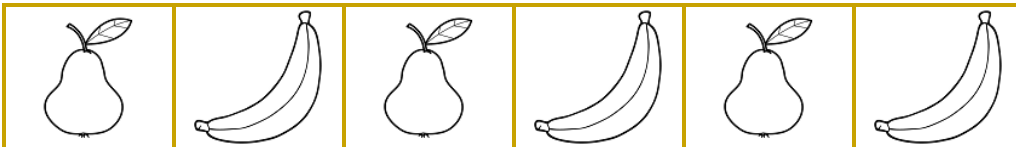

Babam arabamızı çok seviyor. Her cumartesi sabahı saat 08.00'da arabayı temizlemeye başlar ve saat 10.30'da temizlik biter.



Doktor, dedem ve babaanneme ilaçlar yazdı. Dedem her gün saat 09.30'da, babaannem ise her gün 11.00'da ilaç içecekler.



✚ Örüntü kurallarına göre son kutulara gelecek şekilleri çiziniz.



✚ Verilen kelimelerden eş anlamlıları sarıya, zıt anlamlıları mora boyayınız.

sınıf
derslik

kalın
ince

zaman
vakit

korkak
cesur

cimri
cömert

cevap
yanıt

ihtiyar
yaşlı

alçak
yüksek



fakir
yoksul

bayat
taze

yeni
eski

hakim
yargıç

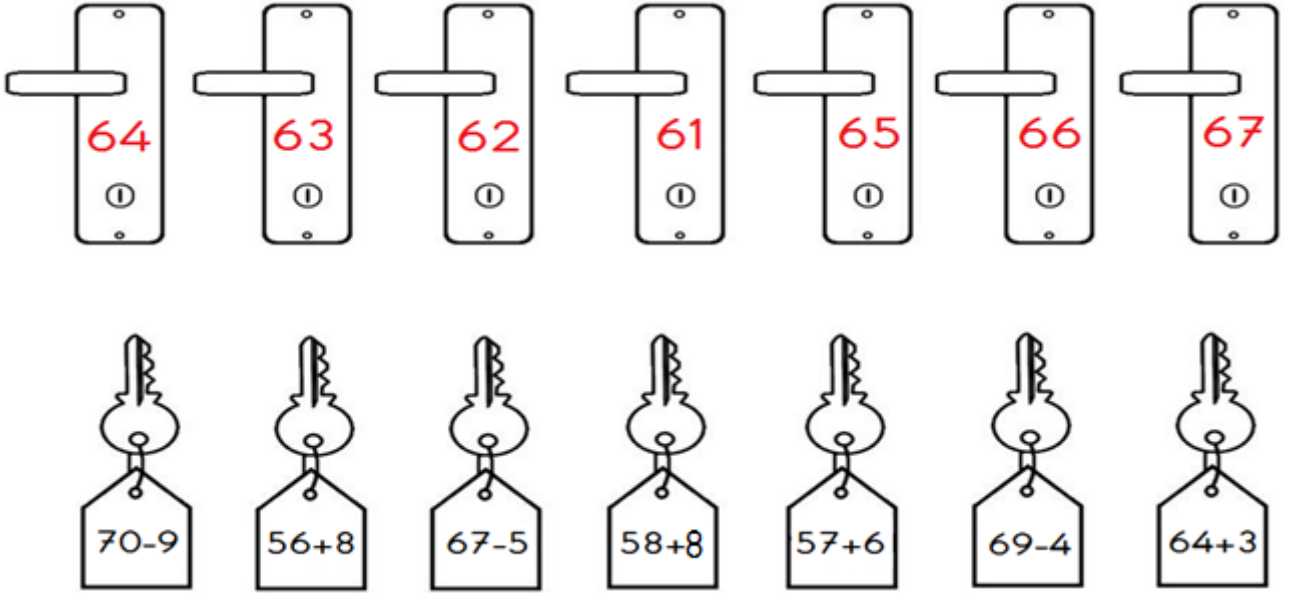
✚ İki resim arasındaki 7 farkı bulup kırmızı kalemle işaretleyiniz.



✚ Belirtilen harflerle başlayıp, istenen varlıklarla ilgili kelimeler yazınız.

	İSİM	ŞEHİR	BİTKİ	HAYVAN	EŞYA
K →					
E →					
D →					
S →					
i →					

İşlemleri yapıp anahtarlarla doğru kilitleri eşleştiriniz.



Onluk ve birlik blokları verilen sayıları kutulara yazınız.

ONLUK	BİRLİK



ONLUK	BİRLİK



ONLUK	BİRLİK



ONLUK	BİRLİK



Aşağıdaki iki işlemli problemleri çözünüz.

15 lira param vardı.
Babam 6 lira daha verdi.
Paramın 10 lirasını
harcadım. Geriye kaç
liram kaldı?

Çözüm


Bir sınıfta 9 erkek öğrenci,
erkek öğrencilerden 7
fazla kız öğrenci vardır?
Sınıfta toplam kaç öğrenci
vardır?

Çözüm

38 sayısının 4 fazlasını
bulunuz. Bulduğunuz
sayıdan 9 çıkarınız. Sonuç
kaç oldu?

Çözüm

✚ Resme bakarak sizden istenenleri yapınız.



Uçağı mora boya.	
Treni turuncuya boya.	
Bisikleti koyu maviye boya.	
Gemiye sarıya boya.	
Hangisi suda gider?	
Hangisinin motoru yoktur?	
Hangisi raylarda gider?	
Hangisi en hızlıdır?	

✚ Cümleleri okuyunuz ve boşlulara gelecek uygun kelimeyi boyayınız.

..... yaz mevsimi meyvesidir.	→	portakal	karpuz	kiwi
Elif elini temizledi.	→	çamurla	kolayla	sabunla
..... ot yiyerek beslenir	→	aslan	koyun	timsah
..... kötü insanları yakalar.	→	polis	manav	öğretmen

✚ Bilmeceleri okuyup ipucuna göre cevaplarını yazınız.










Bağlarım yürür. Çözerim durur. Nedir?	Uzundur ip değil. Isırır köpek değil. Nedir?	Gökte gördüm bir köprü. Rengi var yedi türlü. Nedir?
▶ A.....	▶ Y.....	▶ G.....

✚ Alfabadeki eksik harfleri yazınız.

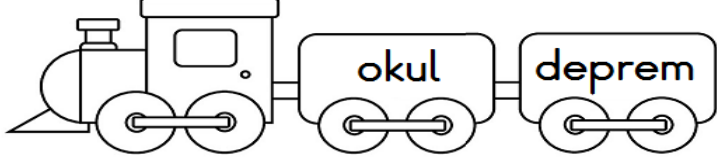
1	2	3	4	5	6	7	8	9	10	11	12	13	14	15
A								Ğ						L
16	17	18	19	20	21	22	23	24	25	26	27	28	29	
			Ö									Y		

Varlıkların adlarını yazıp hecelerine ayırınız.

01.07.2021 Perşembe

	havuç ha / vuç				
					
					

Kelimelerin eş anlamlarını bulup aynı renge boyayınız.

adet	öykü	nehir	giysi
			
zelzele	okul	deprem	kara
ırmak	tane	siyah	rüzgar
elbise	uzak	hikaye	yurt
yel	vatan	mektep	ırak

Karışık halde verilen kelimelerden anlamlı cümleler oluşturunuz.

aldı	Fatih	yeni	araba	→	
yedi	börek	Seher	dokuz	→	
eniştem	etti	yardım	bana	→	

✚ Toplama ve çıkarma işlemlerini yaparak şifreyi bulunuz.

$27+8$
↓
C

$46-9$
↓
M

$35+5$
↓
i

$50-7$
↓
B

$57-8$
↓
I

$39+6$
↓
E

$40-4$
↓
A

$34+8$
↓
N

ŞİFRE →

36	42	42	45	37
















43	45	42	40	37

35	36	42	49	37


✚ Okunuşları verilen saatlerin akrep ve yelkovanlarını çiziniz.

				
Saat beş buçuk	Saat on iki	Saat yedi buçuk	Saat dokuz	Saat iki buçuk

✚ Örüntü kurallarına göre son kutulara gelecek şekilleri çiziniz.

						→ 
						→ 
1	2	3	1	2	3	→ 

✚ Resme bakarak sizden istenenleri yapınız.



Meyveleri kırmızı renge boya.

Tavşanları sarı renge boya.

Çiçekleri mor renge boya.

Kalan yerleri istediğin renge boya.

Resimde kaç tavşan var?

Ağaçta hangi meyve var?

Resimde kuş var mı?

Resimde kaç çiçek var?

✚ Örnekteki gibi verilen harflerden kelime, kelimelerden de cümle üretiniz.

HARF	KELİME	CÜMLE
D	→ durak	→ Otobüs <u>durakta</u> yolcu bekliyor.
M	→	→
A	→	→
Y	→	→
T	→	→
Ş	→	→

✚ İki resim arasındaki 8 farkı bulup kırmızı kalemle işaretleyiniz.



Verilen sayıları örnekteki gibi onluk ve birliklerine ayırarak yazınız.

15	→	...1... onluk	...5... birlik	23	→ onluk birlik
36	→ onluk birlik	74	→ onluk birlik
48	→ onluk birlik	87	→ onluk birlik
60	→ onluk birlik	92	→ onluk birlik
51	→ onluk birlik	6	→ onluk birlik

Aylarımızı sırasıyla yazınız. Ardından mevsimlerin aylarını yazınız.

1. Ay	2. Ay	3. Ay	4. Ay	5. Ay	6. Ay

7. Ay	8. Ay	9. Ay	10. Ay	11. Ay	12. Ay

Kış mevsiminin ayları		

İlkbahar mevsiminin ayları		

Yaz mevsiminin ayları		

Sonbahar mevsiminin ayları		

Verilen para miktarlarıyla ürün alımı sonrasında kalan parayı boyayınız.

PARAMIZ	
	
	

ÜRÜN


KALAN PARA	
6 TL	7 TL
8 TL	9 TL

PARAMIZ	
	
	

ÜRÜN


KALAN PARA	
2 TL	3 TL
4 TL	5 TL

✚ Kelimelerin doğru yazılışlarını yeşil renge boyayınız.

02.07.2021 Cuma



ahçı

aççı

aşçı



soan

soğan

sovan



palyaço

palyanço

polyaça



hepalör

hoparlör

haparlör



şöför

şaför

şoför



maydanoz

mayonoz


meydonoz



pontul

pantolon

pantalon



asranot

astronot

astonot

✚ Resme bakarak sizden istenenleri yapınız.



Annenin tişörtünü pembeye boya.

Ablanın saçını sarıya boya.

Babanın pantolonunu maviye boya.

Kalan yerleri istediğin renklere boya.

Aile kaç kişiden oluşuyor?

En uzun kişi kimdir?

Ailede kaç çocuk var?

Gözlük takan var mı?


✚ Alfabe de eksik bırakılan harfleri yazınız.

1	2	3	4	5	6	7	8	9	10	11	12	13	14	15
A						F							K	

16	17	18	19	20	21	22	23	24	25	26	27	28	29
	N						Ş						Z


✚ Trendeki bölümleri işlem sonuçlarına göre istenen renklerle boyayınız.

Sarı	Mavi	Pembe	Turuncu	Yeşil
$16+7$	$27+8$	$31-7$	$43+6$	$50-9$
$38-5$	$61-6$	$42+5$	$19-3$	$28+8$
$56+4$	$49+3$	$53+10$	$82+8$	$64-7$
$60-9$	$82-4$	$26-9$	$70-6$	$20+5$



✚ Geometrik şekilleri istenen renklerle boyayınız.

Üçgen → Turuncu	Kare → Pembe	Dikdörtgen → Mavi	Çember → Sarı
-----------------	--------------	-------------------	---------------



✚ Karışık harflerle verilen hayvanları yazıp bulmacada boyayınız.

AREF

IAY

AOBĞ

EÇKİ

EKİN


İKDE

RTKU

EVDE

EEKŞ

UĞKU



Z	B	O	Ğ	A	C	O	F	A	L
P	N	I	E	D	R	K	E	D	İ
E	Ş	E	K	Ö	Ç	Ğ	Ü	V	T
D	G	H	M	Ş	U	K	H	A	K
İ	N	E	K	B	R	U	E	N	E
Z	J	Ö	F	F	Z	Ğ	J	D	Ç
B	K	I	Y	A	Ş	U	L	N	İ
U	U	F	J	R	Ö	F	Ş	Z	Ğ
K	R	Z	L	E	N	D	E	V	E
P	T	İ	O	M	K	L	A	Y	İ

✚ Karışık halde verilen kelimelerden anlamlı cümleler oluşturunuz.

yaparım düzenli spor olarak →

tabakta yemek Selim bırakmaz →

evinin Şeyma temizledi önünü →

✚ Verilen cümlelerle alakalı soruları cevaplayınız.

Ayhan büyüyünce doktor olmak istiyormuş.

→

Kim doktor olmak istiyor?

→

→

Ne zaman olmak istiyor?

→

Leyla dün ormanda ceylan görmüş.

→

Leyla ne görmüş?

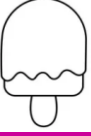





→

→









Nerede ceylan görmüş?

→

✚ Örüntü kurallarına göre son kutulara gelecek şekilleri çiziniz.

↓	↑	↓	↑	↓	↑	→	
A	B	C	A	B	C	→	
						→	

✚ Fiyatları verilen nesnelere alakalı soruları çözünüz.

	→			→	
	→			→	

Oyuncak bebek ve çikolata alan Serhat'ın satıcıya kaç lira ödemesi gerekir?

Çözüm

Seda'nın 10 lirası var. Tükenmez kalem almak isteyen Seda'nın kaç liraya daha ihtiyacı var?

Çözüm

20 lirası olan Tarık, meyve suyu alırsa geriye kaç lirası kalır?


Çözüm


✚ Üçer üçer sayarak kutuların üzerine yazınız.


									
									


✚ Varlıkların adlarını yazıp, hece sayılarını boyayınız.


BONUS


	2
	3
	4

	2
	3
	4

	2
	3
	4

	2
	3
	4

	2
	3
	4

	2
	3
	4

✚ Resme bakarak sizden istenenleri yapınız.



Hocanın pantolonunu yeşile boy.

Eşği gri renge boy.

Kuşu mavi renge boy.

Kalan yerleri istediğin renge boy.


Resimdeki kişi kimdir?


Hoca neyi gösteriyor?


Resimde kaç hayvan var?


Çizgi film izliyor musun?

✚ Resimlerle ilgili cümleleri okuyunuz. Yanlış olan cümlenin kutusunu boyayınız.

	Bizi tedavi ederler.
	Bakkalda çalışırlar.
	Hastalara ilaç yazarlar.

	Bilgisayar benzinle çalışır.
	Bilgisayarda film izlenir.
	İnternetle araştırma yapılır.

	Tehlikeli bir hayvandır.
	Ot yemeyi çok sever.
	Sıcak bölgelerde yaşar.

	Kötü insanları yakalar.
	Bizim güvenliğimizi sağlar.
	Bayan polis yoktur.

✚ İşlemleri yaparak sonuçlara göre harfleri yazıp atasözünü bulunuz.

Ç $6+5+2$

O $19-4$

M $9+7+1$

R $25-6$

K $7+7+4$

N $20-9$

S $3+5+2$

I $19-7$

E $8+5+7$

Z $22-6$

D $6+7+8$

A $17-3$

Anlamı: Tehlikeleri gözünde büyüterek işe girişmekte çekingen davranan kimse, amacına ulaşamaz.




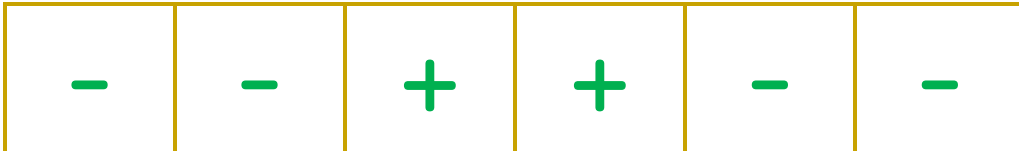
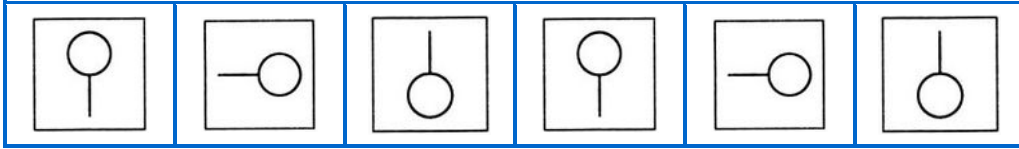
10	20	19	13	20	21	20	11

18	15	19	18	14	11

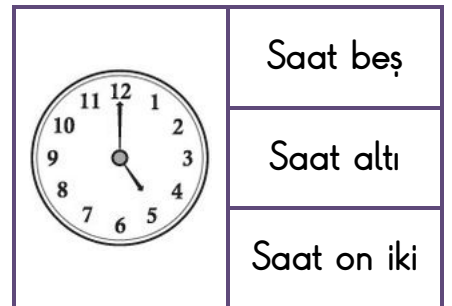
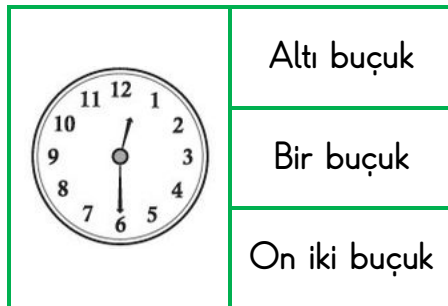
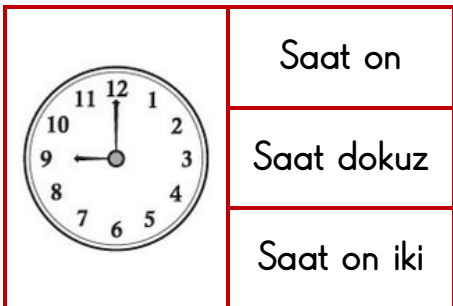
21	14	19	12

20	18	17	20	16

✚ Örüntü kurallarına göre son kutulara gelecek şekilleri çiziniz.



✚ Saatlerin doğru okunuşlarını içeren kutuları sarıya boyayınız.



✚ Eş anlamlı kelimeleri eşleştiriniz. Ardından farklı olan kelimeyi boyayınız.

EŞ ANLAMLIL KELİMLERİ EŞLEŞTİR	
fayda	armağan
siyah	iri
konuk	sözcük
hediye	yarar
özlem	cevap
yanıt	kalp
düş	kara
büyük	rüya
kelime	misafir
yürek	hasret

FARKLI OLANI BOYA		
kafa	ayak	baş
fikir	düşünce	uyku
yıl	sene	hafta
okul	mektep	ev
müdür	öğrenci	talebe
komik	gülünç	ciddi
deli	akıllı	uslu
hemşire	doktor	hekim
fakir	zengin	yoksul
kırmızı	mavi	al

✚ Verilen harflerle başlayan, başlıklarla ilgili kelimeleri yazınız.

MESLEK İSMİ	HAYVAN İSMİ	İÇECEK İSMİ	MEYVE İSMİ	TAŞIT İSMİ
M	G	S	Ç	A
B	C	A	K	T
Ö	İ	G	E	B
H	P	M	Ş	U

✚ Verilen cümlelerle alakalı soruları cevaplayınız.

Teyzesi, Merve'ye çiçek desenli elbise almış.	→	Kim elbise almış?	→	<input type="text"/>
	→	Elbisenin deseni nasılmış?	→	<input type="text"/>
Salih arabanın anahtarını yanlışlıkla denize düşürdü?	→	Kim anahtarı düşürdü?	→	<input type="text"/>
	→	Anahtarı nereye düşürdü?	→	<input type="text"/>
Ayşe, bulaşıkları yıkayan annesine yardım etti.	→	Annesi ne yapıyordu?	→	<input type="text"/>
	→	Ayşe ne yaptı?	→	<input type="text"/>

✚ Saksidaki sonuçlara göre verilmeyen toplananları bulunuz.



✚ Verilen sayıların öncesini ve sonrasını yazınız.



✚ Aşağıdaki iki işlemlili problemleri çözünüz.

43 sayısının 6 eksiğini bulunuz. Bulduğunuz sayıya 10 ekleyiniz. Sonuç kaç oldu?

Çözüm

Bir çiftlikte 10 inek vardır. İneklerden 3 eksik keçi vardır. İnek ve keçilerin sayılarının toplamı kaçtır?

Çözüm

50 lira param vardı. Dedem 5 lira daha verdi. Paramın 9 lirasını harcadım. Geriye kaç liram kaldı?

Çözüm

✚ Onar onar sayarak elmaların üzerine yazınız.

