



## ZEKA OYUNLARI



### ☆Deniz Fenerleri 2

Oyunun Kuralı: Tablonun kenarındaki fenerleri gemilere ve birbirlerine **komşu** (yatay, dikey veya çapraz) **olmayacak biçimde** yerleştiriniz. Gemilerin bulunduğu kareler sarı renkle gösterilmiştir. Karelerdeki sayılar gemilerin yatay, dikey ve çapraz olarak gördükleri fener sayılarına karşılık gelmektedir.

- Deniz fenerleri buldukları doğrultuda diğer deniz fenerlerinin görünmesine engel değildir.
- Gemilerin arkasında kalan deniz fenerleri görülemezler.

**A**

			1
2			

●  
●

**B**

	2		
1			

●  
●

**C**

3				
			2	

●  
●  
●

**Ç**

1				2
2				

●  
●  
●

**D**

			2	
2				

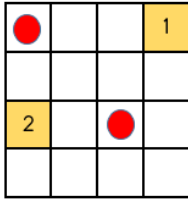
●  
●

**E**

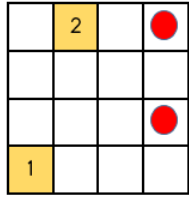
	1			2
1				

●  
●

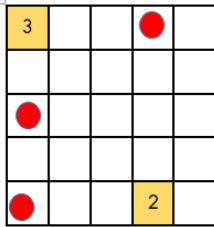
# CEVAPLAR



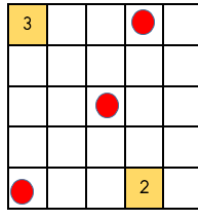
A



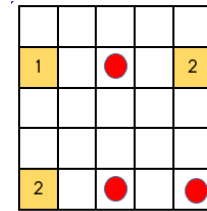
B



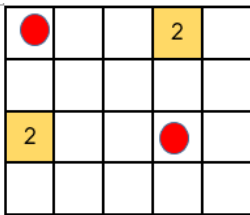
C



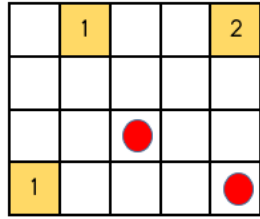
C



Ç



D



E