

HAYAT BİLGİSİ



Hazırlık Kitabı

2'den 3'e kitabı sana 2. sınıf konularını MEB kazanımlarına ve müfredata göre 3. sınıfın konularıyla bilimsel bağlantılar kurarak tekrar ettirecek. Bu tekrarlar seni 3. sınıfın en önemli derslerinden biri olan Hayat Bilgisi dersine hazırlayacak. Böylece temelin sağlamlaşacak.

İçindekiler

Okulumuzda Hayat

- Test- 1 Kendimizi Tanıyor, Tanıtıyoruz Sayfa 4
- Test- 2 Bireysel Farklılıklarımız Sayfa 5
- Test- 3 Okulumuzun Yeri ve Konumu Sayfa 6
- Test- 4 Okulda İletişim Kuralları Sayfa 7
- Test- 5 Grup Çalışmalarımız - Oyun Oynarken Sayfa 8
- Test- 6 Bu Okul Hepimizin Sayfa 9

Evimizde Hayat

- Test- 7 Ev Adresi Sayfa 10
- Test- 8 Evdeki Görev ve Sorumluluklar Sayfa 11
- Test- 9 Evimizde Tasarruf Sayfa 12
- Test- 10 Günlük Plan Sayfa 13
- Test- 11 İstek ve İhtiyaçlarımız Sayfa 14

Sağlıklı Hayat

- Test- 12 Sağlıklı Büyüme ve Gelişme Sayfa 15
- Test- 13 Mevsim Meyveleri ve Sebzeleri Sayfa 16
- Test- 14 Öğün Listesi - Yemekte Görgü Kuralları Sayfa 17
- Test- 15 Sağlık İçin Temizlik Sayfa 18

İçindekiler

Güvenli Hayat

- Test- 16 Ulaşım Türleri ve Araçları Sayfa 19
- Test- 17 Ulaşım Araçlarında Güvenlik Sayfa 20
- Test- 18 Trafikte Yardım Ederken Sayfa 21
- Test- 19 Acil Durumlar Sayfa 22
- Test- 20 Teknolojiyi Kullanırken Sayfa 23
- Test- 21 Oyun Oynarken Sayfa 24


Ülkemizde Hayat

- Test- 22 Vatanımızın ve Milletimizin Sembolleri Sayfa 25
- Test- 23 Kültür Ögelerimiz Sayfa 26
- Test- 24 Farklı Kültürler Sayfa 27
- Test- 25 Atatürk'ün Hayatı Sayfa 28

Doğada Hayat

- Test- 26 Bitki ve Hayvanların İhtiyaçları Sayfa 29
- Test- 27 Yakın Çevremizde Üretim Sayfa 30
- Test- 28 Yönler Sayfa 31
- Test- 29 Doğal Unsurların İnsan Yaşamına Etkisi Sayfa 32
- Test- 30 Doğa Olayları ve Doğal Afetler Sayfa 33
- Test- 31 Geri Dönüşüm Sayfa 34

1.



Görselleri verilen çocukların özellikleri ile ilgili bilineler şunlardır:

- Ayşe resim yapmayı çok sever.
- Ömer futbol oynar.
- Zeynep kitap okumaktan çok hoşlanır.
- Kuzey şarkı söylemeyi sever.

Buna göre kutucukların içine yazılan isimler hangi seçenekte doğru verilmiştir?

- | | | | |
|-----------|------|--------|-------|
| ■ | ● | ▲ | ★ |
| A) Ayşe | Ömer | Zeynep | Kuzey |
| B) Zeynep | Ömer | Kuzey | Ayşe |
| C) Kuzey | Ömer | Zeynep | Ayşe |

2.

Kısa boyluyum, kızıl saçlıyım.

Dans etmeyi severim.

Belgesel izlemekten keyif alırım.

Uzun boyluyum. Mavi gözlerim var.



Fiziksel özelliklerim



Hoşlandıklarım



Yapmak istediklerim

Yukarıdaki cümleler sembollerle verilen ifadelerle eşleştirildiğinde hangi sembol açıkta kalır?

A) ▲

B) ■

C) ★

1.



Sema

Bazı arkadaşlarım hayvanları çok sever, bazıları koşmaktan hoşlanır.



Poyraz

Herkes çok iyi gitar çalmak zorundadır.



Azra

Bazı arkadaşlarım çok güzel yazı yazar, bazıları çok akıcı kitap okur.

İnsanlar, farklı yetenekler ve özelliklere sahiptir.

Yukarıdaki öğrencilerden hangisinin düşüncesi bu ifadeye uygun değildir?

A)



Poyraz

B)



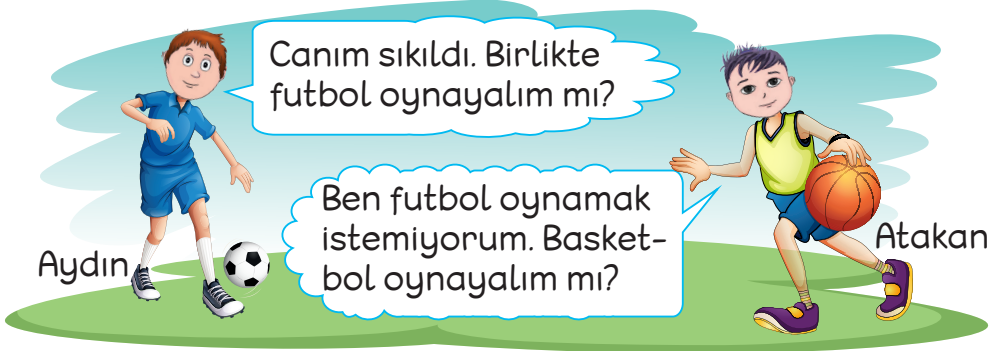
Sema

C)



Azra

2.



Aydın ile Atakan, bireysel farklılıklara saygı duyan öğrencilerdir.

Buna göre karşılaştıkları soruna nasıl bir çözüm bulmuş olabilirler?

- A) Önce futbol oynayıp sonra basketbol oynamışlardır.
 B) Hiçbir oyun oynamamışlardır.
 C) En güçlü kim ise onun dediğini yapmışlardır.

1, 2 ve 3. soruyu aşağıdaki görsele göre yanıtlayınız.

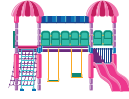


1. Okulun karşısında aşağıdakilerden hangisi vardır?

A)



B)



C)



2. Okulun solunda aşağıdakilerden hangisi vardır?

A)



B)



C)



3. Berk okula hangi cadde ve sokağı kullanarak gider?

A) Akay Sokak, Kuğu Caddesi'nden gider.

B) Akay Sokak, Aydın Caddesi'nden gider.

C) Ada Sokak, Kuğu Caddesi'nden gider.

1. Aşağıdaki resimlerde verilen durumlarla karşılaştığımızda söylememiz gerekenler altlarında karışık olarak verilmiştir.



Geçmiş olsun.

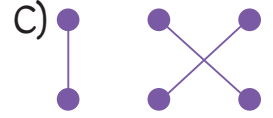
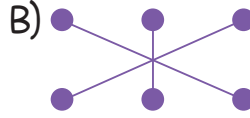
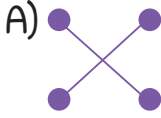


Kolay gelsin.



Afiyet olsun.

Resimleri uygun ifadelerle eşleştirdiğimizde oluşan şekil aşağıdakilerden hangisi olur?



2.

İstek ve itirazlarımı - - - - bir dille ifade ederim.

Düşüncelerimi çekinmeden ve - - - - olmadan söylerim.

Arkadaşıma hatalı davranışta bulunduğimde ondan - - - - dilerim.

özür

nazik

kırıcı



Yukarıdaki cümlelerde boş bırakılan yerlere uygun ifadeler yerleştirildiğinde sembol sıralaması nasıl olur?



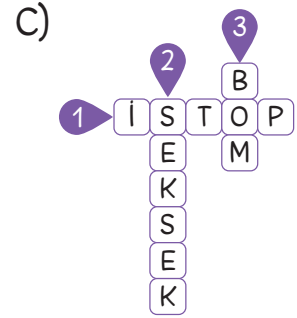
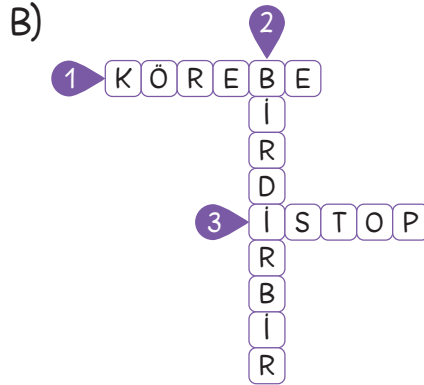
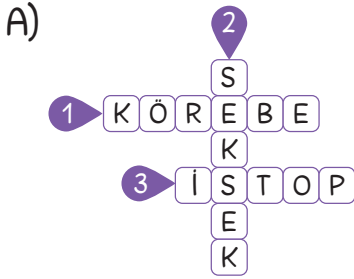
1.

1
Gözleri bağlı olan ebenin, oyna-
na katılan öteki
çocukları yaka-
lamaya çalıştığı
çocuk oyunu.


2
Oyuncuların
birbirinin
üstünden
atlayarak
oynadıkları
bir oyun.

3
Ebenin topu havaya
atması, diğerlerinin
kaçışması ve ebe tara-
fından diğer oyuncu-
ların topa vurulması
biçiminde oynanan bir
oyun.

Aşağıdaki bulmacaların hangisinde yukarıdaki açıklamalara
ait oyunlar verilmiştir?



2.



Görsellerdeki çocuklardan hangisi oyun kurallarına uyma-
mıştır?

A) ★

B) ●

C) ▲

1.



Gündüz vakti
açma beni.

Üzerime
yazılanlar, çizilenler
üzüyor beni.

Beni kapatmayı
unutursan boşa
akar dururum.

Numaralanmış görsellerin uygun ifade ile eşleştirilişi hangi seçenekte doğru verilmiştir?

A)

1	★
2	●
3	▲

B)

1	★
2	▲
3	●

C)

1	▲
2	★
3	●

2. Aşağıdaki tabloda verilen davranışlardan doğru olanların başındaki kutucuğa "D", yanlış olanlarınkine "Y" yazılacaktır.

	Gündüz sınıfta lambaları açık bırakırım.
	Sınıf kitaplığımızdaki kitapları özenli kullanırım.
	Kalemin ucunu gereksiz yere açmam.

Buna göre kutucukların son görünümü nasıl olur?

A)

Y
Y
D

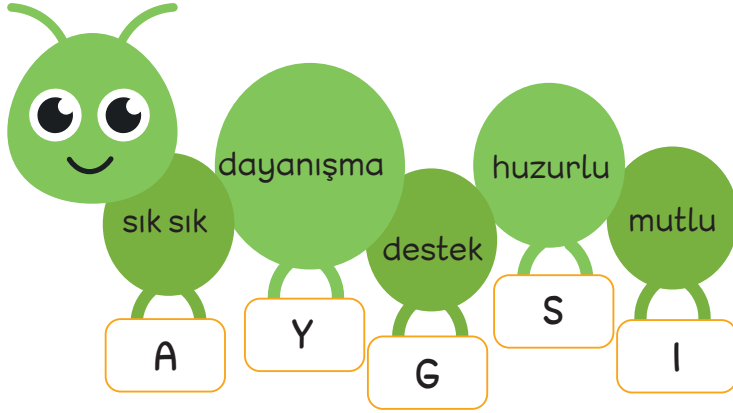
B)

Y
D
D

C)

D
Y
Y

1.



Aşağıdaki cümlelerde boş bırakılan yerlere tırtıl üzerinde verilenlerden uygun olanların altındaki harfler yazılacaktır.

- Akrabalarımızın yanında kendimizi rahat ve - - - - hissederiz.
- Akrabalarımızı - - - - ziyaret ederiz.
- Akrabalarımızla - - - - içinde oluruz.
- Zor zamanlarda akrabalarımıza - - - - oluruz.
- Akrabalarımızla birlikte olmak bizi - - - - eder.

Buna göre yukarıdan aşağıya yazılan harflerle oluşan sözcük aşağıdakilerden hangisidir?

A) SAYIG

B) GASIY

C) SAYGI

2.



Aşağıdaki açıklamalardan hangisini karşılayan kavram, bulmacada bulunmamaktadır?

- A) İl, ilçe vb. yerleşim bölgelerinde, iki yanında evler olan caddeye oranla daha dar veya kısa olabilen yol.
- B) Birkaç katlı ve her katında bir veya birkaç daire bulunan yapı.
- C) Bir kimsenin oturduğu yer.

1.



Ben İsmail. Bizim evimizde herkesin sorumlulukları vardır. Annem ile babam çalıştıkları hâlde ev işlerinde birbirlerine yardımcı olurlar. Ben de onlara yardımcı olmaya çalışırım. Odamdaki dağınıklığı toplar, oyuncaklarımı düzenler, sevimli köpeğim Sisli'nin yemek ve su ihtiyaçlarını karşılarım. Bizim evde sorumluluklar paylaşıldığı için işler çabuk biter. Bize de oyun oynamak için vakit kalır.

Aşağıdakilerden hangisi İsmail'in sorumlulukları arasında değildir?

- A) Evde beslediği hayvanın bakımını yapmak
- B) Duvarları boyamak
- C) Oyuncaklarını düzenlemek

2.

≡ Evdeki Sorumluluklar ≡




<p style="text-align: center;">Evimizde yapılması gereken işleri paylaşmalıyız.</p>	<p style="text-align: center;">Sorumluluklarımızı zamanında yapmalıyız.</p>	<p style="text-align: center;">----- ----- -----</p>
-------------------------------------------------------------------------------------	-----------------------------------------------------------------------------	--------------------------------------------------------------

Tahtaya "Evdeki Sorumluluklar" ile ilgili maddeler yazan Sevgi Öğretmen'in yazısı aşağıdakilerden hangisi ile devam ettirilebilir?

- A) Evdeki bütün işleri annemiz yapar.
- B) Odasını toplamak bir çocuğun görevidir.
- C) Evin tüm market alışverişini baba yapar.

Evimizde Tasarruf

1 ve 2. soruyu ,  ve  çatılı evlerin su ve elektrik faturalarına göre yanıtlayınız.

		
<p>SU FATURASI</p> <p>Toplam Tutar</p> <p>45 ₺</p> <p>Ödemeleriniz için teşekkür ederiz.</p>	<p>SU FATURASI</p> <p>Toplam Tutar</p> <p>68 ₺</p> <p>Ödemeleriniz için teşekkür ederiz.</p>	<p>SU FATURASI</p> <p>Toplam Tutar</p> <p>56 ₺</p> <p>Ödemeleriniz için teşekkür ederiz.</p>
<p>ELEKTRİK FATURASI</p> <p>Toplam Tutar</p> <p>40 ₺</p> <p>Ödemeleriniz için teşekkür ederiz.</p>	<p>ELEKTRİK FATURASI</p> <p>Toplam Tutar</p> <p>72 ₺</p> <p>Ödemeleriniz için teşekkür ederiz.</p>	<p>ELEKTRİK FATURASI</p> <p>Toplam Tutar</p> <p>50 ₺</p> <p>Ödemeleriniz için teşekkür ederiz.</p>

1. Hangi evde oturan aileler daha tasarrufludur?



2.  ve  evlerin elektrik ve su faturalarının farkı kaçtır?

A) Su faturası = 13 ₺
Elektrik faturası = 22 ₺

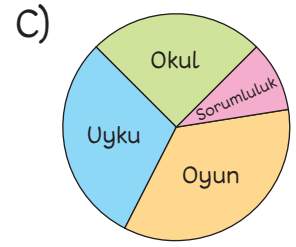
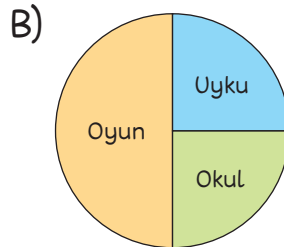

B) Su faturası = 23 ₺
Elektrik faturası = 32 ₺

C) Su faturası = 12 ₺
Elektrik faturası = 22 ₺

1, 2 ve 3. soruyu metne göre yanıtlayınız.

Enes arkadaşlarıyla sokakta oyun oynamayı çok sevdi. Sokakta oynamadığı zamanlarda da bilgisayarla oynardı. Okuldan dönünce ilk işi bilgisayarın başına oturmaktı. Annesi onu hep uyarırdı. "Enes ödevini yap.", "Enes ellerini yıkadın mı?"... Enes'in de cevapları "Yapacağım anne.", "Yıkayacağım anne." olurdu. Fakat Enes bunların birçoğunu yapamadan yorgunluktan geç saatte uyuyakalırdı.

- Enes aşağıdaki sorunların hangisiyle karşılaşabilir?**
 - Enes, ödevini yapmadığı için öğretmeni tarafından uyarılabilir.
 - Enes, bilgisayar oynamaya devam edebilir.
 - Enes, arkadaşları tarafından istenmeyebilir.
- Enes'in yapması gereken aşağıdakilerden hangisidir?**
 - Kitap okuması önerilir.
 - Gününü planlaması önerilir.
 - Biraz da televizyon seyretmesi önerilir.
- Aşağıdakilerden hangisi Enes'in doğru planlamasını gösteren çizelgedir?**



İstek ve İhtiyaçlarımız

1.



Yukarıda Manolya'nın alışveriş listesi bulunmaktadır.

Manolya'nın listesinin istek ve ihtiyaçlara göre sınıflandırılması hangi seçenekte doğru verilmiştir?

A)	İstek	İhtiyaç	B)	İstek	İhtiyaç	C)	İstek	İhtiyaç
	•Çikolata	•Su		•Çikolata	•Süt		•Çikolata	•Su
	•Oyuncak	•Süt		•Su	•Ekmek		•Oyuncak	•Süt
	•Elma şekeri	•Ekmek		•Oyuncak	•Yağ		•Dondurma	•Ekmek
	•Dondurma	•Yağ		•Elma şekeri	•Patates		•Sakız	•Yağ
	•Sakız	•Patates		•Dondurma	•Çorap		•Çorap	•Patates
		•Çorap		•Sakız	•Ayakkabı		•Ayakkabı	•Elma şekeri
		•Ayakkabı						

2.

Arda: Her zaman isteklerimize öncelik vermeliyiz.

Pırıl: Her zaman ihtiyaçlarımıza öncelik vermeliyiz.

Peri: Şeker, çikolata, cips birer ihtiyaçtır.

Yandaki dairelere, konuşmada verilen ifade doğru ise 😊, yanlış ise ☹ çizilecektir.

Buna göre hangi çocuğun dairelerine 😊 çizilir?

A) Arda B) Peri C) Pırıl


1. Mavi İlkokulundaki 2. sınıf öğrencileri ve öğretmenleri bugün okul gezisine gidecekler. Geziye gitmeden önce öğretmenler öğrencilerine ipuçları verdiler.
1. Önce yedi harfli bir sağlık kuruluşunu ziyaret edeceğiz.
 2. Ardından eş anlamlısı hekim olan bir meslek grubunu ziyaret edip onlara sorular soracağız.
 3. Sonra ziyaret ettiğimiz kurumun karşısındaki, ilaçlarımızı aldığımız kurumu ziyaret edip okulumuza geri döneceğiz.

Öğretmenlerin verdiği ipuçlarına göre okul gezisinin yapılacağı yerler ve kişiler hangi seçenekte doğru verilmiştir?

	1	2	3
A)	hastane	hemşire	eczacı
B)	hastane	doktor	eczane
C)	hastane	doktor	ambulans

2.


Biz çocuklar yaşımız kaç olursa olsun kişisel bakımımıza özen göstermeliyiz. Dengeli ve düzenli beslenmeliyiz. Yaşımıza ve ilgi alanımıza uygun spor yapmalıyız. Bunları yaparken zamanında ve yeteri kadar uyumalıyız.



Deniz'in yazısının konusu aşağıdakilerden hangisidir?

- A) Büyüme B) Sağlıklı büyüme C) Mutlu olma

1, 2 ve 3. soruyu tabloya göre yanıtlayınız.



1. Yukarıdaki tabloda bir yanlışlık yapılmıştır.




Aşağıdakilerden hangisi yapılırsa bu yanlışlık düzeltilebilir?

- A) Kiraz meyvesi yaz mevsimi bölümüne alınmalı.
 B) Sonbahar ile ilkbahar başlıklarının yerleri değiştirilmeli.
 C) Yaz ile kış başlıklarının yerleri değiştirilmeli.

2. **Sonbahar ve ilkbahar mevsimlerine hangi iki besin eklenebilir?**

	Sonbahar	İlkbahar
A)	Havuç	Pırasa
B)	Armut	Çağla
C)	Şeftali	Kivi

3. **Aşağıdaki meyvelerden hangisi tabloda turuncu bölüme yerleştirilmelidir?**



1. Şenol'un yemek listeleri aşağıda verilmiştir.

Şenol

Sabah

- Süt
- Yumurta
- Bal
- Peynir
- Bir dilim ekmek

Öğle

- Pilav
- Balık
- Salata
- Bir dilim ekmek

Akşam

Şenol dengeli beslenmek için akşam yemeğinde aşağıdakilerden hangilerini yemelidir?

- A)
 - Makarna
 - Patates kızartması
 - Gazlı içecek
- B)
 - Sebze yemeği
 - Hamburger
 - Tatlı
- C)
 - Çorba
 - Köfte
 - Ayran

2.

Aksu

Ayhan

Burcu

Yukarıdaki çocuklardan hangisi yemek yemesiyle ilgili yanlış bir ifade bulunmuştur?

- A) Aksu
- B) Burcu
- C) Ayhan

1. Pelin "Sağlıklı Bir Yaşam" başlıklı bir afiş hazırlamak istiyor.



Pelin'in ofisine asılacak afişte yukarıdaki numaralanmış nesnelere hangileri kullanılmalıdır?

A) 1, 2, 3 ve 4

B) 4, 5, 7 ve 8

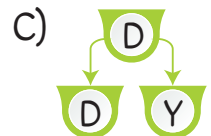
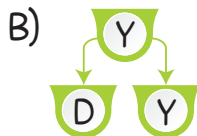
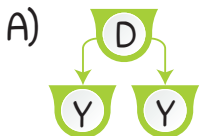
C) 1, 2, 3 ve 6

2.



Yukarıdaki ifadeler doğru ise ifadenin altındaki kutucuğa "D", yanlış ise "Y" yazılacaktır.

Buna göre şemanın görünümü nasıl olur?



1.

O yaz ailemle birlikte İstanbul'a gitmeye karar verdik. İstanbul'a yolculuğumdan bir gün önce çok heyecanlıydım. Sabah bulutların üzerinden geçerek çok kısa bir sürede İstanbul'a vardık. Bavullarımızı alarak bir tünelin içinden geçip sıra sıra vagonların olduğu bir araca bindik. İndiğimizde bizi sarı bir taksi karşıladı. Kalacağımız otele götürdü. Bavullarımızı bırakıp hemen deniz kenarına indik. Babam:
— Birazdan bu araçla karşı kıyıya geçeceğiz.
Ben çok heyecanlanmıştım. Hayatımda hiç böyle bir araca binmemiştim.



Cüneyt

Cüneyt İstanbul'daki bir gününü anlatmıştır.

Cüneyt yaşadığı olaylarda sırası ile ulaşım araçlarından hangilerini kullanmıştır?

- A) Uçak – Otobüs – Metro – Vapur
B) Uçak – Metro – Taksi – Vapur
C) Uçan Balon – Tren – Taksi – Vapur

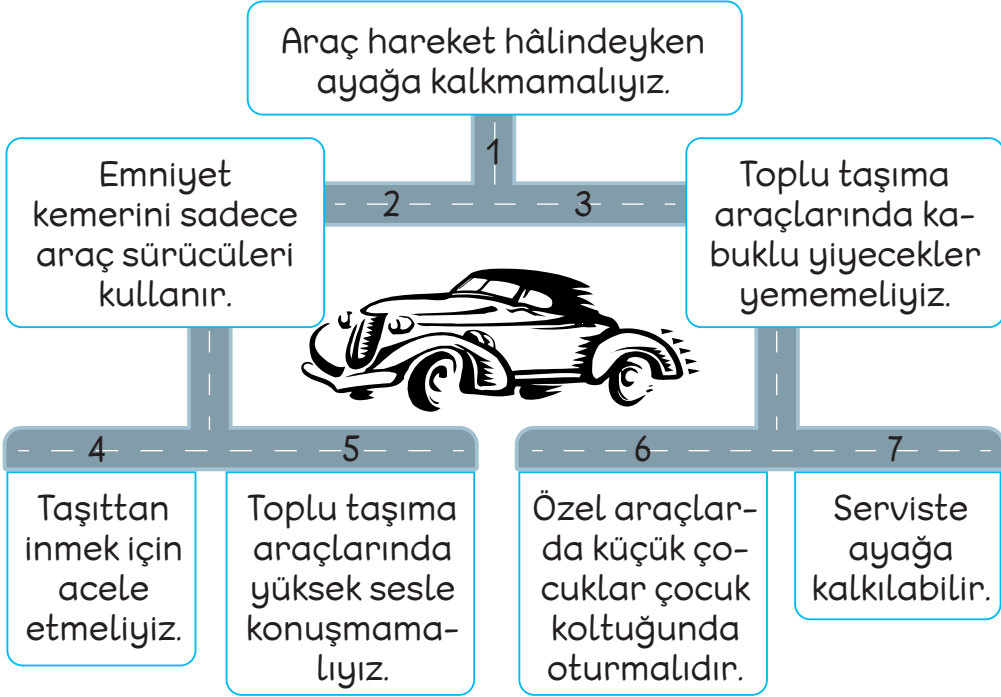
2.

		
■ Demir yolu	● Kara yolu	◆ Demir yolu
▲ Deniz yolu	★ Hava yolu	♥ Kara yolu

Görselleri verilen ulaşım araçlarının kullandıkları yollar işaretlendiğinde işaretlenen sembollerin sırası nasıl olur?

- A) ■ ★ ♥ B) ▲ ★ ♥ C) ■ ● ◆

1 ve 2. soruyu görsele ve kurallara göre yanıtlayınız.



Yukarıda yolcuların uyması gereken kurallar verilmiştir.

1. 1 numaralı yoldan başlayarak sadece doğru bilgi veren yolları takip ettiğimizde sırasıyla hangi yollardan geçeriz?

A) 1 – 3 – 7

B) 1 – 2 – 6

C) 1 – 3 – 6


2. Görsele göre yanlış bilgilerin yazdığı yol numaraları hangi seçenekte verilmiştir?

A) 2 – 3 – 5

B) 2 – 4 – 7

C) 2 – 3 – 4

1.



Yukarıdaki görselde verilen yanlıştın düzeltilebilmesi için aşağıdakilerden hangisinin yapılması gerekir?

- A) Tekerlekli sandalyeli bireyler için ayrılmış olan alandan insanlar çekilmelidir.
- B) Tekerlekli sandalyeli birey otobüsün arkasına geçmelidir.
- C) Toplu taşımadaki özel alan kaldırılmalıdır.

2.



Benim annem trafikte ihtiyacı olanlara yardımcı olur. Güler yüzüyle, samimi ve soğukkanlılığıyla trafikte sorun yaşayanların meleği olur. Karşıdan karşıya geçmeye çalışan ve gözleri görmeyen birine gerekirse yardımcı olur. Trafikteki taşıtların ve yayaların kontrolü geçişini sağlar.

Doruk'un anlattıklarına göre annesinin mesleği aşağıdakilerden hangisi olabilir?



1.

GAZETE DOĞRU

Sel Vurdu!

Gece yağın şiddetli yağmur sonucunda Rize'nin Çanaklı Köyü'nde oluşan selde evler ve iş yerleri sular altında kaldı. Yardıma gelen komşu köylerde yaşayan vatandaşlar ve - - - - ekibi sel mağdurlarının yanında oldu.



Yukarıdaki gazete haberinde boş bırakılan yere aşağıdakilerden hangisi gelmelidir?



2.

- Bu gece pijamalarımı giymiş, uyumak için hazırlanıyordum. Perdeyi kapatmak için pencereye yaklaştım. Sokağın karşısındaki evde yangın çıktığını gördüm. Çok korktum. Hızlı müdahale sonucunda yangın hemen kontrol altına alındı.

Eda'nın günlüğünde yazan durum için hangi yardım kuruluşundan destek alınmıştır?

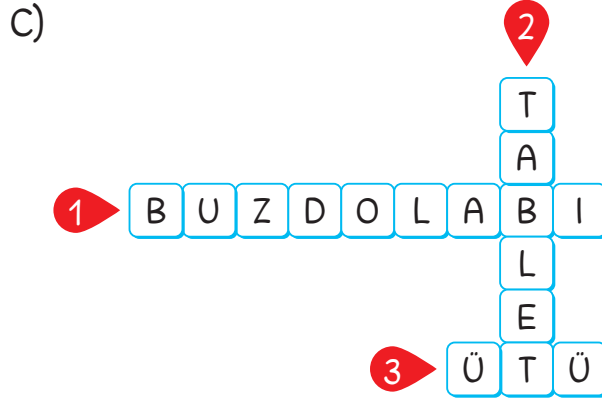
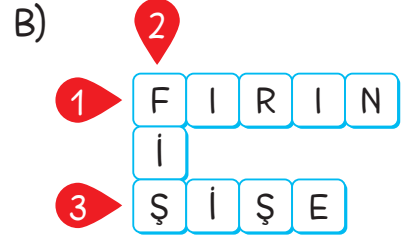
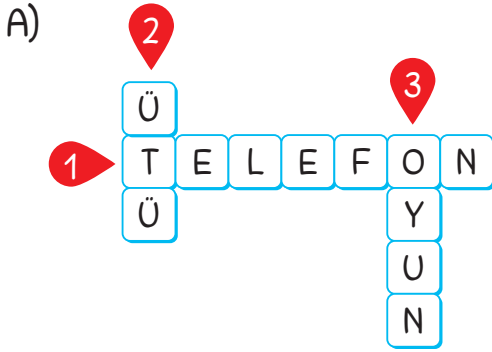
A) Ambulans

B) İtfaiye

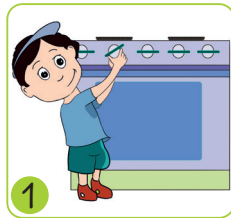
C) Jandarma

1. Mutfakta kullanılan, prize takılan bir alet.
2. Tek bir ünite de ekran devresi ve bataryası bulunan taşınabilir bilgisayar.
3. Kırıklıkları açmak için kullanılan, ıslak elle kablosunun prize yerleştirilmesi tehlike oluşturabilecek bir araç.

Verilen açıklamalara ait teknolojik ürünlerin bulmacaya doğru yerleştirilmiş şekli aşağıdakilerden hangisidir?



2.



Yukarıdaki resimlerde verilen çocuklardan hangileri yangına neden olabilecek davranış sergilemektedir?

A) 1 ve 3.

B) 2 ve 3.

C) 1 ve 2.

1.



Yukarıda güvenli oyun alanlarının görsellerinde bulunan harflerle oluşacak sözcük aşağıdakilerden hangisidir?

A) AYNA

B) OYUN

C) YANA

2.



Yandaki çocuğun güvenliğini sağlaması için aşağıdaki gereçlerden hangisini kullanmasına gerek yoktur?

A)



B)



C)



3.

- Kaykay kullanıyorsak dirseklik, kask ve -- 1 -- takmalıyız.
- Oyun araçlarını kullanırken -- 2 -- hareketler yapmamalıyız.
- Parklarda oyuncaklara -- 3 -- vermemeliyiz.

Yukarıdaki cümlelerde numaralanmış yerlere yazılması gerekenler hangi seçenekte sırasıyla doğru verilmiştir?

1

2

3

- | | | |
|-----------|-----------|-------|
| A) başlık | tehlikeli | zarar |
| B) dizlik | tehlikeli | zarar |
| C) dizlik | güzel | zarar |

1. Çınar İlkokulunda 2. sınıflar arasında kompozisyon yarışması düzenlenmiştir. Katılan her öğrenci bir konu hakkında yazı yazmıştır.

Aşağıda finale kalmış üç öğrenci ve yazdıkları yazının bir kısmı gösterilmiştir.



Yukarıdaki öğrencilerin yazdıkları konu aşağıdakilerden hangisiyle ilgili değildir?

- A) Türk Bayrağı B) İstiklal Marşı C) Yılbaşı tatili

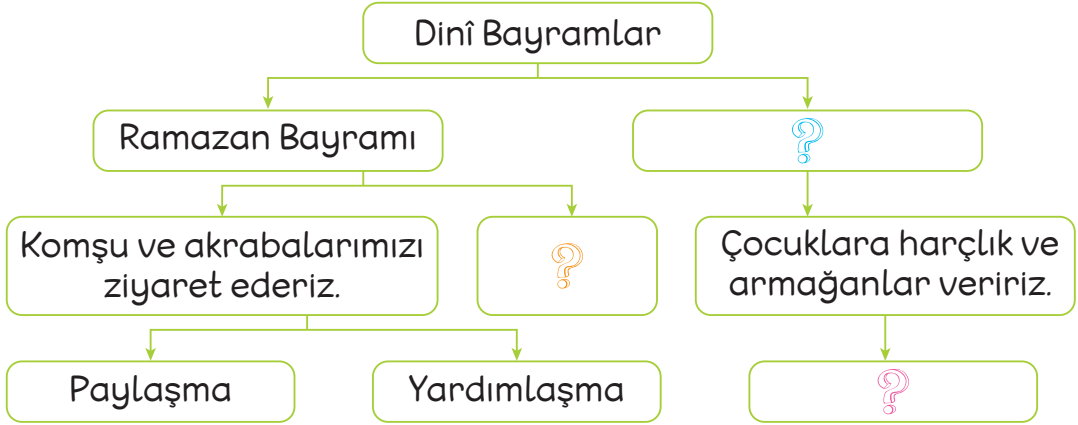
2. Ece, Eren ve Yıldız birlikte Türk Bayrağı yapmaya karar verdiler.



Çocuklardan hangisi bayrağımızla ilgili yanlış bir bilgiye sahiptir?

- A) Yıldız B) Ece C) Eren

1.



Yukarıda dini bayramlar ile ilgili zihin haritasındaki “?” ile belirtilen yerlere gelmesi gereken ifadeler hangi seçenekte doğru verilmiştir?



- A) Kurban Bayramı
B) Cumhuriyet Bayramı
C) Kurban Bayramı

Evlere bayrak asarız.
Şeker toplarız.
Büyüklerin ellerini öperiz.

Birlik
Beraberlik
Barışma

2.

<p>17. 04. 2021</p> <p>Sevgili Günlük, Önümüzdeki hafta yapacağımız kutlama törenleri için sınıfımızı bayraklarla, balonlarla süsledik.</p>	<p>Öğretmenim o gün okul bahçesinde yapacağımız tören için beni konuşmacı seçti. Çok heyecanlıyım. Yakın arkadaşım Burcu şiir okuyacak. Törene anne ve babalarımız da katılacak.</p>
-------------------------------------------------------------------------------------------------------------------------------------------------	--------------------------------------------------------------------------------------------------------------------------------------------------------------------------------------

Nur'un günlüğünde bahsettiği bayram aşağıdakilerden hangisidir?

- A) 23 Nisan Ulusal Egemenlik ve Çocuk Bayramı
B) 29 Ekim Cumhuriyet Bayramı
C) Kurban Bayramı

1.

Bu sabah köyün meydanından gelen seslerle uyandım. Elimi, yüzümü yıkayıp hemen köy meydanına gittim. Meydanda büyük kazanlarda yemekler pişiriliyordu. Köy çocukları etrafında koşturuyordu.

Dün kına gecesinde ellerime kına yakılmıştı. Hemen gelinin evine doğru yürümeye başladım. Gelin evinde köy meydanından daha telaşlı bir hâl vardı. Damat, evin avlusunda davul, zurna eşliğinde gelini bekliyordu. Gelin güler yüzüyle damadın yanına geldi.

Sınıf
2. Tekrarı

Yukarıdaki metinde kültürümüze ait öğelerden hangisi anlatılmıştır?

A) Askere gönderme

B) Kına gecesi

C) Düğün

2.

Farklı ülkelerden gelen çocuklarla oyun oynamamalıyız.

Ülkemize göç etmek zorunda olan kişilere olabildiğince yardımcı olmalıyız.

Ülkemizdeki farklı kültürlerden kişilerin yaşam tarzlarına saygılı olmalıyız.

Yukarıdaki şemada doğru olan ifadelerin kutucuğuna "D", yanlış olanlarınkine "Y" yazılırsa aşağıdaki görünümünden hangisi oluşur?

A)

Y	
D	Y

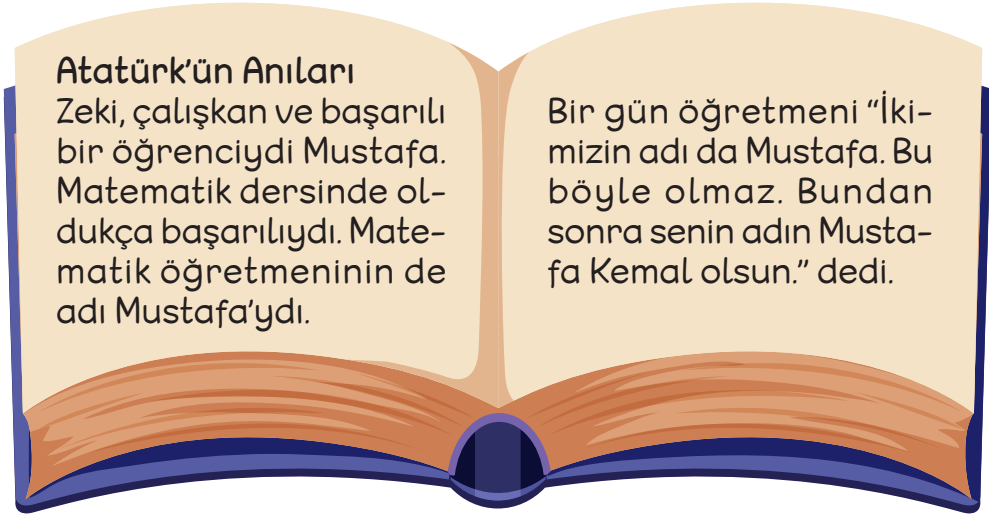
B)

Y	
D	D

C)

D	
Y	D

1.



Yukarıda Atatürk'ün bir anısı paylaşılmıştır.

Buna göre aşağıdakilerden hangisi yanlıştır?

- A) Atatürk zeki, çalışkan ve başarılı bir öğrenciydi.
B) Ona Kemal adını okul müdürü vermiştir.
C) Atatürk, matematik dersinde başarılıydı.

2.

	Atatürk, kardeşiyle oyun oynamazdı.
	Atatürk, başarılı bir öğrenciydi.
	Atatürk, ailesine yardımcı olmazdı.
	Atatürk, ailesine değer verirdi.

Yukarıdaki ifadelerden doğru olanların başındaki kutucuğa ●, yanlış olanlarınkine ▲ çizildiğinde kutucukların son görünümü nasıl olur?

A)

●
▲
●
▲

B)

▲
●
▲
●

C)

▲
▲
●
●

1.

Onlar, sıcak yaz günlerinde ve kışın zorlu hava koşullarında yiyecek ve içecek bulmakta zorlanabilir. Bu gibi durumlarda birlikte yaşadığımız bu canlıların su ve besin ihtiyaçlarını karşılamalıyız.



Yukarıdaki afişte hangi canlı türünden söz edilmektedir?

A) Hayvan

B) İnsan

C) Bitki

2.



Yukarıdaki görsellere bakılarak aşağıdakilerden hangisi çıkarılamaz?




A) Diğer canlılarla ilgilenmek merhamet duygumuzu artırır.

B) Diğer canlılar bizim çevremizde olmak zorunda değildir.

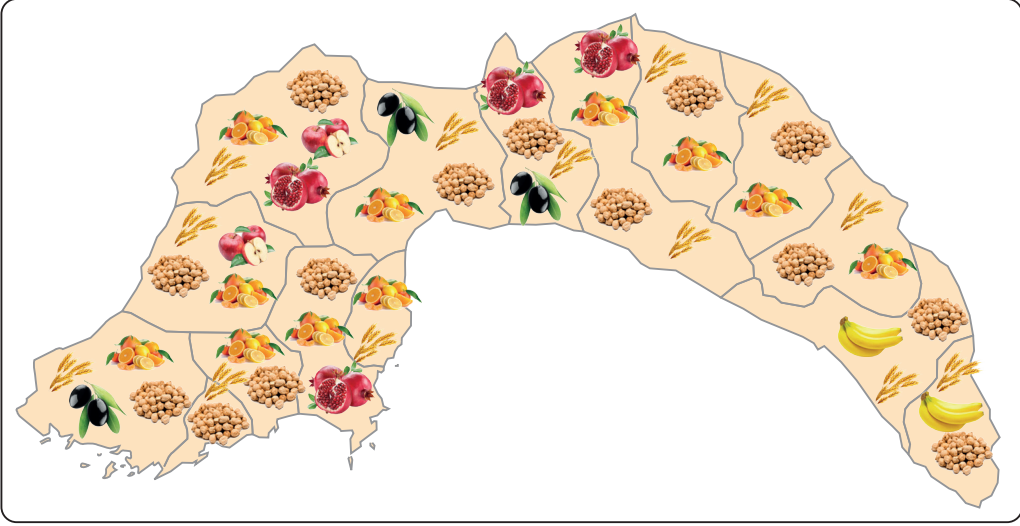
C) Diğer canlılar sayesinde sorumluluk bilincimiz artar.

3. Hayvanların, insanların yaşamları için önemi büyüktür. Kimi hayvanlar giyim ihtiyacımızı karşılarlarken kimisi de yiyecek ihtiyacımızı karşılar.

Bu bilgiye göre hangi hayvan giyim ihtiyacımızı karşılar?



1.



Yukarıdaki haritaya göre Antalya ilinin üretim faaliyeti ile ilgili hangisi doğrudur?

- A) Antalya ili bitkisel üretim faaliyeti göstermektedir.
 B) Antalya madencilikte ülkemizde liderdir.
 C) Antalya'da en fazla küçükbaş hayvancılık yapılır.

2.



Yukarıda yurdumuzda üretimi yapılan bazı ürünler verilmiştir.

Hangi bulmacada bu ürünlerin hepsinin isimleri bulunmaktadır?

A)

E	B	Ü	Z	Ü	H
İ	N	C	İ	R	A
K	S	M	A	R	L
Ç	A	Y	K	T	İ
Ü	Z	Ü	M	A	U

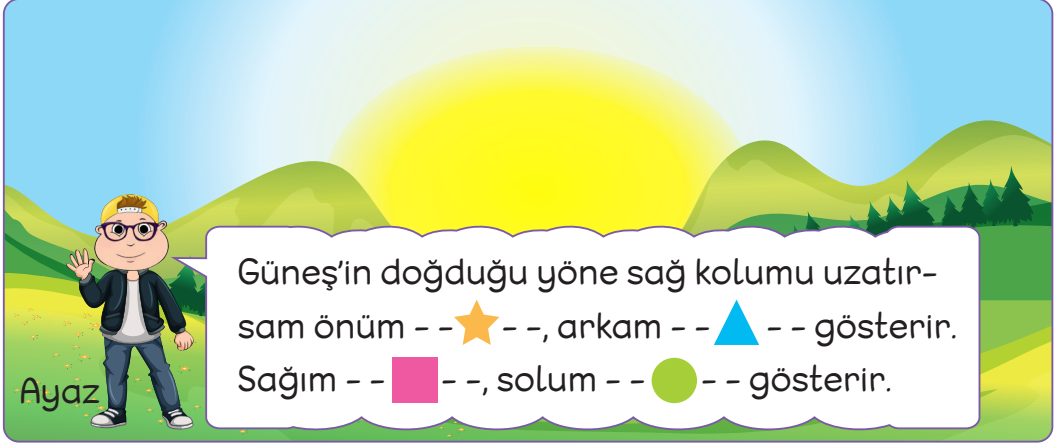
B)

Ç	S	R	İ	N	J
A	C	İ	R	R	M
Y	Ü	Z	Ü	M	G
İ	N	C	İ	R	Z
K	U	M	M	A	Ş

C)

P	E	R	D	E	Ç
İ	N	C	İ	R	A
F	I	N	D	I	Y
Ü	Z	Ü	M	K	O
K	U	M	A	Ş	Z

1.



Ayaz'ın ifadelerinde sembollerle belirtilen yerlere yazılması gerekenler hangi seçenekte doğru verilmiştir?

- | | | | |
|-----------|--------|--------|--------|
| ★ | ▲ | ■ | ● |
| A) güneyi | kuzeyi | doğuyu | batıyı |
| B) kuzeyi | güneyi | doğuyu | batıyı |
| C) kuzeyi | güneyi | batıyı | doğuyu |

2.



- Ülkemizin kuzeyinde Karadeniz yer almaktadır.
- Ege Denizi ülkemizin batısında yer alır.
- Akdeniz ülkemizin güneyinde yer alan denizdir.



Yukarıdaki ifadelerden hangileri haritaya göre doğrudur?

- A) 1, 2 ve 3. B) 1 ve 2. C) 2 ve 3.



1.

Dağ	Ev	Bitki
Hayvan	Ova	Okul

Yukarıdaki tabloda doğal unsurların bulunduğu kutucuklar boyandığında tablonun son görünümü nasıl olur?



2.

 <p>KAKTÜS</p>	<p>Çöllerde en çok rastlanan bitkilerin başında gelir. Çöl denilince aklımıza kavurucu sıcak, susuzluk gelir. Kaktüs bu ortamda yaşayabilir.</p>	 <p>ÇAY</p>	<p>Nemli ve yağışın bol olduğu ortamları sever.</p>
----------------------------------------------------------------------------------------------------------	--------------------------------------------------------------------------------------------------------------------------------------------------	--------------------------------------------------------------------------------------------------------	-----------------------------------------------------

Yukarıdaki bitkilerin yetişme ortamları farklıdır.

Aşağıdaki doğal unsurlardan hangisi bitkilerin yetişmesinde önemlidir?

A) Hava koşulları

B) Yer şekilleri

C) Dağlar

1.



Yukarıdaki doğal afetlerin adlarını altlarına yazdığınızda;

- 1. kelimenin 4. harfi,
- 2. kelimenin 2. harfi,
- 3. kelimenin 3. harfi,
- 4. kelimenin 4. harfinden

oluşan yeni kelime aşağıdakilerden hangisidir?

A) tepe

B) mele

C) sele

2.



Yukarıdaki gazete haberine göre aşağıdakilerden hangisi yanlıştır?

- A) Yerleşim yerinde deprem gerçekleşmiştir.
- B) Yaşanan doğal afet için AFAD yardımcı olur.
- C) İnsanların yardıma ihtiyacı yoktur.

1.



Yukarıdaki geri dönüşüm kutularına sırasıyla hangi maddeler atılır?



A) Gazete

Cam

Poşet

Teneke

bardak

kutusu

B) Cam
şişeKonserve
kutusu

Şişe

Mendil

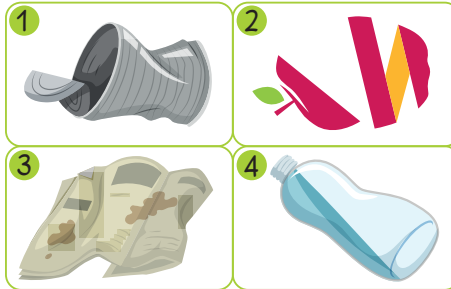
C) Karton

Poşet

Pil

Kalem

2.



Yukarıda numaralanmış ürünlerden hangilerinin geri dönüşümü mümkündür?

A) 1 ve 2.

B) 1, 3 ve 4.

C) 2, 3 ve 4.

OKULUMUZDA HAYAT

TEST 1 Kendimizi Tanıyor, Tanıtıyoruz 4
1. C 2. B

TEST 2 Bireysel Farklılıklarımız 5
1. A 2. A

TEST 3 Okulumuzun Yeri ve Konumu 6
1. B 2. C 3. A

TEST 4 Okulda İletişim Kuralları 7
1. C 2. B

TEST 5 Grup Çalışmalarımız - Oyun Oynarken 8
1. B 2. A

TEST 6 Bu Okul Hepimizin 9
1. A 2. B

EVİMİZDE HAYAT

TEST 7 Ev Adresi 10
1. C 2. B

TEST 8 Evdeki Görev ve Sorumluluklar 11
1. B 2. B

TEST 9 Evimizde Tasarruf 12
1. C 2. B

TEST 10 Günlük Plan 13
1. A 2. B 3. C

TEST 11 İstek ve İhtiyaçlarımız 14
1. A 2. C

SAĞLIKLI HAYAT

TEST 12 Sağlıklı Büyüme ve Gelişme 15
1. B 2. B

TEST 13 Mevsim Meyveleri ve Sebzeleri 16
1. A 2. B 3. B

TEST 14 Öğün Listesi - Yemekte Görgü Kuralları 17
1. C 2. A

TEST 15 Sağlık İçin Temizlik 18
1. C 2. C

GÜVENLİ HAYAT

TEST 16 Ulaşım Türleri ve Araçları 19

1. B 2. A

TEST 17 Ulaşım Araçlarında Güvenlik 20

1. C 2. B

TEST 18 Trafikte Yardım Ederken 21

1. A 2. B

TEST 19 Acil Durumlar 22

1. C 2. B

TEST 20 Teknolojiyi Kullanırken 23

1. C 2. C

TEST 21 Oyun Oynarken 24

1. B 2. C 3. B

ÜLKEMİZDE HAYAT

TEST 22 Vatandaşımızın ve Milletimizin Sembolleri 25

1. C 2. A

TEST 23 Kültür Ögeleri 26

1. C 2. A

TEST 24 Farklı Kültürler 27

1. C 2. B

TEST 25 Atatürk'ün Hayatı 28

1. B 2. B

DOĞADA HAYAT

TEST 26 Bitki ve Hayvanların İhtiyaçları 29

1. A 2. B 3. B

TEST 27 Yakın Çevremizde Üretim 30

1. A 2. C

TEST 28 Yönler 31

1. B 2. A

TEST 29 Doğal Unsurların İnsan Yaşamına Etkisi 32

1. A 2. A

TEST 30 Doğa Olayları ve Doğal Afetler 33

1. A 2. C

TEST 31 Geri Dönüşüm 34

1. A 2. B