





# DESTE



Arkadaşlar **1 destede** aynı türden **10 adet** nesne bulunur!  
Aşağıda verilen varlıkların bir deste olanlarını işaretleyelim.



Aşağıda verilen nesnelere bir deste olacak şekilde ekleme veya çıkarma yapalım !



Bir deste olması için ..... tane kalp ekleyelim.



Bir deste olması için ..... tane şeker çıkaralım.



Bir deste olması için ..... tane muz ekleyelim.



Bir deste olması için ..... tane roket çıkaralım.



Bir deste olması için ..... tane kalem ekleyelim.