





# DÜZİNE



Arkadaşlar **1 düzinede** aynı türden **12 adet** nesne bulunur!  
Aşağıda verilen varlıkların bir deste olanlarını işaretleyelim.



Aşağıda verilen nesnelere bir düzine olacak şekilde ekleme veya çıkarma yapalım !



Bir düzine olması için ..... tane çilek ekleyelim.



Bir düzine olması için ..... tane şeker çıkaralım.



Bir düzine olması için ..... tane muz ekleyelim.



Bir düzine olması için ..... tane elma çıkaralım.



Bir düzine olması için ..... tane silgi ekleyelim.