



Benim adım Efe, uzun bir yaz tatilinden sonra okulumuz açıldı. Okulumuzu o kadar özlemiştim ki heyecanla okuluma geldim. Birinci sınıf bitti artık ikinci sınıfa geçmiştik.

Selim ve Azra arkadaşlarımız başka şehirlere gitmişlerdi. Bu duruma çok üzülmişim. Fakat ; Furkan, Aybüke ve Hakan sınıfamıza yeni gelen arkadaşları - mızdı. Onlar ile tanışmak ve arkadaş olmak istiyorum.

Bu yıl çok çalışıp geçen seneki gibi başarılı geçmesini çok istiyorum.

Not: İlk 4 soruyu metne göre cevaplayınız.

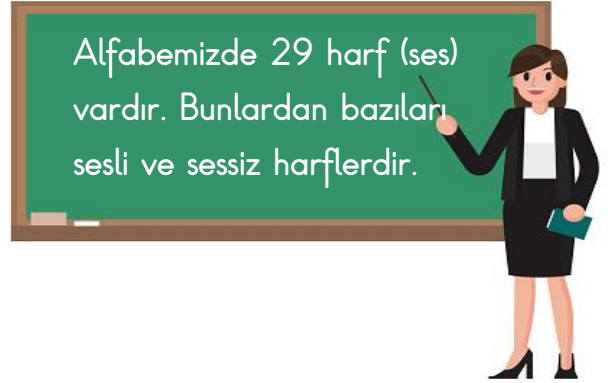
- 1) Aşağıdakilerden hangisi Efe'nin yaşadığı duygulardan birisi değildir?
A) Heyecan B) Şaşkınlık
C) Sevinç
- 2) Efe neden üzülmiştir?
A) Yaz tatili bittiği için
B) Okullar açıldığı için
C) Sınıf arkadaşları başka şehre gittiği için

3) Aşağıdakilerden hangisi sınıfa yeni gelenlerden biri değildir?

- A) Furkan B) Aybeniz
C) Hakan

4) Efe sınıfa yeni gelen arkadaşları ile ne yapmak istemektedir?

- A) Tanışmak ve arkadaş olmak
B) Oyun oynamak
C) Ders çalışmak



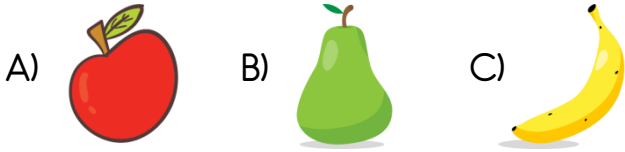
5) Öğretmenin vermiş olduğu bilgiye göre alfabemizdeki sesli ve sessiz harf sayısı hangi şıkta doğru olarak verilmiştir?

- A) 21 sesli harf, 8 sessiz harf
B) 21 sessiz harf, 8 sesli harf
C) 8 sessiz harf, 21 sesli harf

6) Aşağıdaki görseli verilen varlıkların hangi sözlük (alfabetik) sıralamada sonda yer almaktadır?




7) Aşağıda verilen varlıkların hangisinin adında harf sayısı daha fazladır?



Yaşadığım yerin adı alfabemizin 17. harfi ile başlıyor.

8) Buna göre Sila'nın yaşadığı yerin adı hangisi olabilir?

- A) Niğde B) Ordu C) Manisa

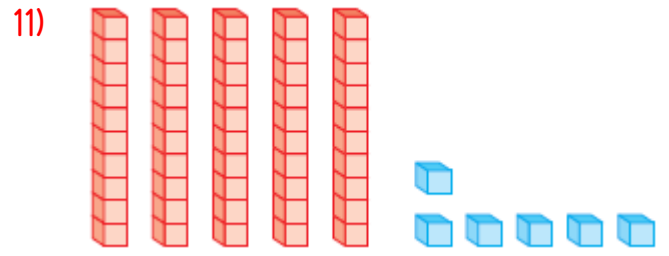


Yukarıda verilen görselde kaç tane havuç vardır?

- A) 39 B) 40 C) 41

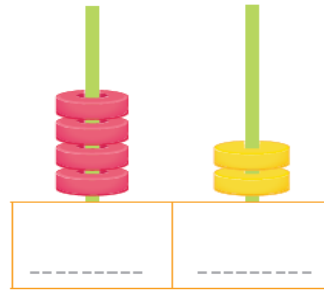
10) "Altmış dokuz" doğal sayısının rakamla yazılışı aşağıdakilerden hangisidir?

- A) 69
B) 96
C) 66



Onluk taban blokları ile modellenen sayının okunuşu aşağıdakilerden hangisidir?

- A) Elli beş B) Altmış altı
C) Elli altı



onluk birlik

12) Yandaki abaküste model ile gösterilen doğal sayı kaç onluk ve birlikten oluşmaktadır?

- A) 4 birlik 2 onluk
B) 4 onluk 2 birlik
C) 2 onluk 4 birlik

13) Deste ve düzine ile ilgili verilen bilgilerden hangisi **yanlıştır**?

- A) Aynı türden 10 tane varlığın oluşturduğu topluluğa **deste** denir.
B) Aynı türden ve eş özellikli 12 tane varlığın oluşturduğu topluluğa **düzine** denir.
C) Aynı türden 10 tane varlığın oluşturduğu topluluğa **düzine** denir.

14) Pandaların sayısı bir düzineden ne kadar **azdır**?



- A) 4 B) 2 C) 3

15) Aşağıdakilerden hangisi fiziksel özelliklerimizdendir?

- A) Spor yapmayı çok sevmemiz.
B) Çabuk heyecanlanmamız.
C) Saç rengimiz.



Okan: Çok iyi basketbol oynarım.



Ayşe: Uzun ve kahverengi saçlarım var.



Nil: Kısa boyluyum.

16) Hangi çocuk fiziksel özelliklerinden **bahsetmemiştir**?

- A) Okan B) Ayşe C) Nil

17) Aşağıdakilerden hangisi zamanla değişen fiziksel özelliklerimizden biridir?

- A) Göz rengi
B) Boy uzunluğu
C) Ten rengi



- Saç rengim kahverengidir.
- Çok iyi futbol oynarım.
- Kısa boyluyum.
- Ten rengim beyazdır.

18) Yukarıda verilenlerden kaç tanesi Emre'nin **fiziksel** özelliklerindedir?

- A) 4 B) 3 C) 2

Efe çok güzel saz çalıyor. Aynur çok güzel resim yapıyor. Seda çok güzel dans ediyor.

19) Yukarıda verilen bilgilere göre aşağıdakilerden hangi sonucu çıkaramayız?

- A) Özelliklerimiz birbirimizle aynı olmayabilir.
B) Arkadaşlarımız arasında farklılık doğaldır.
C) Farklı özellikleri olanlar birbirleriyle anlaşamazlar.

20)



Şarkı söylemeyi çok seviyorum. Duyduğum şarkıların sözlerini hemen ezberliyorum.

Hoşlandıkları ve yapabildikleri ile ilgili konuşan Pelin'in ileride hangisini yapması beklenir?

- A) Keman çalmayı öğrenmesi
B) Voleybol oynamayı öğrenmesi
C) Dans yarışmalarına katılması

Cevap Anahtarı

1)B 2)C 3)B 4)A 5)B
6)C 7)B 8)A 9)B 10)A
11)C 12)B 13)C 14)A 15)C
16)A 17)B 18)B 19)C 20)A