

CICI KUŞ

Komşumuzun muhabbet kuşu var. Adı Cici Kuş, adı gibi sevimli ve cidir. Kafesin içinden öter durur. Gevededir. Onu uzaktan sevmeye bayılırım. Elime almaktan korkarım. Kafeste olmasına ise bir türlü anlam veremem. Oysa kuşlar özgür olmalı. Ağaçtan ağaca konup şarkılar söylemeli. Bizi alıp kafese koysalar mutlu olabilir miydik? İşte bu yüzden, şöyle bir hayalim var. Bir gün cesaretimi toplayıp Cici Kuş'u elime alacağım. Onu kafeste yaşamaktan kurtaracağım. Pencereyi açıp "Haydi uç gökyüzüne!" diyeceğim. Arkasından mutlulukla gülümseyeceğim.



Not: İlk 3 soruyu metne göre cevaplayınız.

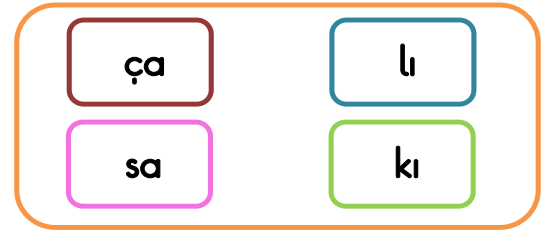
1) Cici kuş nasıl bir kuştur ?

- A) Hırçın B) Sessiz
C) Geveze

2) Cici kuş nerede ötmektedir ?

- A) Dalda B) Kafesin içinde
C) Pencerede

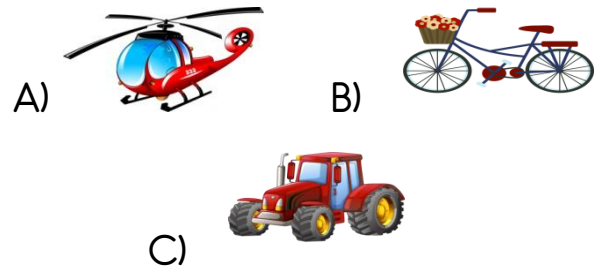
- 3) Metindeki çocuğun nasıl bir hayali varmış?
A) Cici kuşu kafesten kurtarmak
B) Komşusundan cici kuşu satın almak
C) Cici kuşla beraber özgürce uçmak




- 4) Yukarıdaki hecelerden aşağıda verilen hangi hece oluşturulamaz?


- A) Halı
B) Kısa
C) Çakı


- 5) Aşağıdaki taşıtların hangisinin adındaki harf sayısı fazladır?



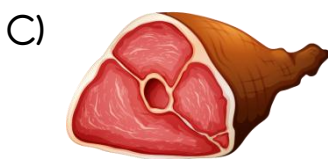
6) Aşağıdaki öğrencilerden hangisinin verdiği bilgi yanlıştır?

A)  Ünlü harfler tek başına hecedir.

B)  Sesli harfler 21 tanedir.

C)  Satır sonuna sığmayan heceleri ayırırken satırın başına ve sonuna tek harf bırakılmaz.

7) Aşağıdaki görsellerin hangisinin adı sözlükte diğerlerinden sonra gelir?




8) Aşağıdaki cümlelerin hangisinde kelime sayısı daha azdır?

A) Eda ile Bora bize gelir mi?

B) Bir, iki , üç diye saydık.

C) Pencereden dışarıya bakıyordu.

9) Dikkat () araba geliyor ()

 Yukarıdaki cümlede parantez () ile verilen yerlerde sırası ile hangi noktalama işaretleri olmalıdır?

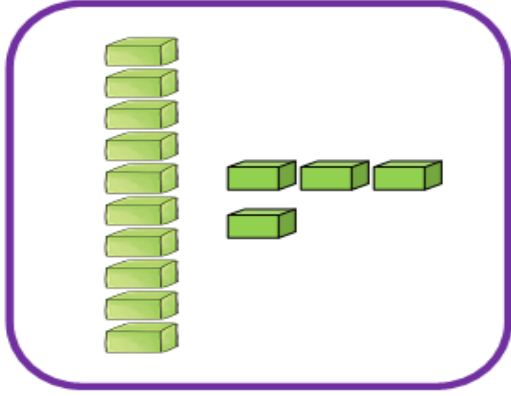


10) “ Ahmet usta bir şofördür ” cümlesinde altı çizili kelimenin zıt anlamlısı aşağıdakilerden hangisidir?

A-) kaliteli

B-) acemi

C-) yeteneksiz

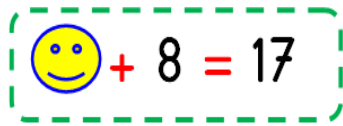


11) Yukarıda verilen onluk birlik modelinin oluşturduğu sayı 2 onluktan kaç eksiktir?

A) 14

B) 6

C) 16



12) Yukarıda verilmeyen toplananı bulma işleminde verilen  ile  şekilleri verilmiştir. Bu şekillerin ifade ettikleri sayıların toplamı ( + ) kaçtır?

A) 14

B) 15

C) 16

13)



Kumbaradaki paraların toplamı kaç Türk Lirasıdır?

A) 13

B) 14

C) 15

14) Keloğlan'ın çiftliğinde 20 tane hayvan vardır. Bu çiftlikte 4 inek, 7 koyun vardır. Çiftlikte geri kalan hayvanlar ise keçidir. Keloğlan'ın çiftliğinde kaç keçi vardır?

A) 9

B) 11

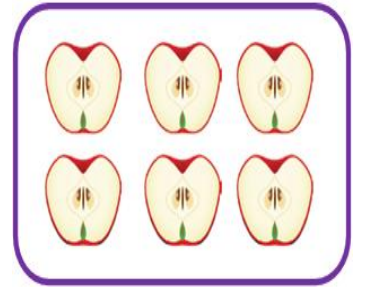

C) 13



15)



Kral Şakir aşağıda gösterilen yarım meyvelerin hepsini yemiştir. Kral Şakir toplam kaç bütün meyve yemiştir?



A) 6 bütün muz, 6 bütün meyve

B) 12 bütün muz, 3 bütün elma

C) 6 bütün muz, 3 bütün elma



Bir ay 7 gündür.
Bir gün 24 saattir.
Bir yıl 12 aydır.
Bir hafta 4 gündür.
Bir yılda 4 mevsim vardır.

16) Ali'nin zaman ölçüleri ile ilgili verdiği bilgilerden kaç tanesi doğrudur?

- A) 3
B) 2
C) 1

17) Tablo: 1/A Sınıfı En Sevilen Meyveler

Meyveler	Öğrenci Sayısı
ÇİLEK	
PORTAKAL	
MUZ	
ELMA	

NOT: Her şekil 1 öğrenciyi göstermektedir.

Yukarıda verilen 1/A sınıfı En Sevilen Meyveler Tablosuna göre aşağıdaki bilgilerden hangisi yanlıştır?

- A) En çok sevilen meyve ile en az sevilen meyvelerin farkı 4'tür.
B) 1/A sınıfında 21 öğrenci vardır.
C) En sevilen meyve çilektir.

18)



Aşağıdakilerden hangisi yukarıda verilen geometrik şekillerin ortak özelliği değildir?

- A) İkisinin de 4 köşesi vardır.
B) İkisinin de kenar uzunlukları eşittir.
C) İkisinin de 4 kenarı vardır.



19) Verilen örüntü kuralına göre noktalı yerlere sırası ile hangi hayvanlar gelir?

A)



B)



C)



20)



Aslan ödevlerini yapmaya başladığındaki saat yandaki görselde verilmiştir. Aslan'ın ödevlerini bitirmesi 2 saat sürmüştür. Aslan ödevlerini saat kaçta bitirmiştir?


A) 11.30

B) 10.30

C) 12.30

21) Aşağıdakilerden hangisi sınıflarımızda yer alan şeref köşesinde bulunmaz?

A)



B)



C)



22) Aşağıdakilerden hangisi sınıf içerisinde uymamız gereken kurallardan biri değildir?

A) Söz almadan konuşmamalıyız.

B) Koridorda koşmamalıyız.

C) Sınıf pencerelerinden sarkmamalıyız.

23) Aşağıdakilerden hangisi bitkisel bir besin değildir?

A)



B)



C)



24) Aşağıdakilerden hangisi kişisel bakım için yapmamız gerekenlerden birisi değildir?

A) Tırnak temizliği

B) Çöplerin, çöp kutusuna atılması

C) El, yüz ve ayak temizliği

25)



Arkadaşlar benim adım Tekin. Çevremizde bazen ev, iş yerleri ve ormanlarımızda yangın çıkmaktadır.

Çetin'in anlattığı durum ile karşılaşırsak öncelikle hangi acil durum numarasını aramalıyız?

A) 1-1-0

B) 1-1-2

C) 1-5-5

26) Atatürk ile ilgili verilen bilgilerden hangisi yanlıştır?

A) Atatürk'ün annesinin adı Zübeyde Hanım'dır.

B) Atatürk'ün anıt mezarı İstanbul'da yer alan Dolmabahçe Sarayı'ndadır.

C) Atatürk Selanik'te doğmuştur.

27) Aşağıdaki görsellerin hangisi Dini Bayramlarımızı anlatmaktadır?

A)



B)



C)










- 28) Soğuk havalar azalmaya başlar.
Ağaçlar çiçek açar.
Bu mevsimin ayları Mart-Nisan-Mayıstır.

Yukarıda verilen bilgiler, aşağıdaki hangi mevsimi anlatmaktadır?

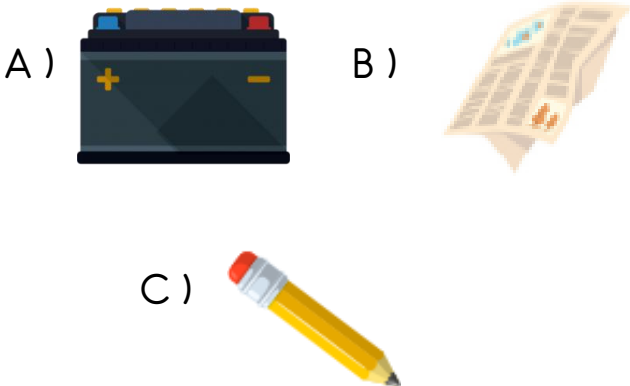
- A) Sonbahar
B) Yaz
C) İlkbahar

- 29) Aşağıdaki hayvanlardan hangisi otla beslenmektedir?



- A)  
B)  
C)  

- 30) Aşağıdakilerden hangisinin geri dönüşümü yoktur?



Cevap Anahtarı

1)A 2)B 3)A 4)A 5)A 6)B 7)B 8)C 9)C 10)B
11)B 12)B 13)A 14)A 15)C 16)A 17)B 18)B 19)B 20)C
21)C 22)B 23)C 24)B 25)A 26)B 27)C 28)C 29)B 30)C