





- 1)  Kek yapacaktık ama yağ kalmamış.
Sıla
-  Müzik dinlemeyi de çok seviyorum.
Orhan
-  Elmalar çürüdüğü için çöpe attım.
Eda
-  Okuduğum kitapları sana verebilirim.
Ömer

Çocuklardan hangisinin söylediği cümle sebep sonuç ifadesi içermektedir?

- A) Orhan B) Eda
C) Ömer D) Sıla
- 2) Aşağıdakilerden hangisi cümledir ve sonuna nokta koymak gerekir ?
- A) Taner ve Mert parktaki çiçekleri
B) Elin çantasındaki eşyaları
C) Yarın gideceğiz
D) Fırından kaç tane ekmek

- 3) Aşağıdaki cümlelerin hangisinde yazım yanlışı yapılmıştır?
- A) Gaye Cumhuriyet bayramında şiir okuyacak.
B) Yarın İzmir'e gideceğiz.
C) Dün Arda, Duman'ı parkta gezdirmiş.
D) Dedem 15 Mayıs 1953'te doğmuş.

- 4) ● yayınevi → ya - yı - ne - vi
■ ayakkabılık → a - yak - ka - bı - lık
▲ akşamüstü → ak - şam - üs - tü
◆ gevezelik → ge - ve - ze - lik


Yukarıdaki kelimelerden hangisi hecelerine **yanlış** ayrılmıştır?

- A) ▲ B) ●
C) ◆ D) ■

- 5) Yaşasın () İstedğim okulu kazandım ()

Yukarıdaki cümlede ayraç içine hangi noktalama işaretleri gelmelidir?

- A) , . B) , !
C) . ? D) ! .

- 6)  Vücudumuz için yararlı yiyecekler yemeliyiz.

Yukarıdaki cümlede "yararlı" kelimesinin yerine aşağıdaki kelimelerden hangisi gelirse cümlenin anlamı bozulmaz ?

- A) zararlı B) güzel
C) faydalı D) sebze

7) Aşağıdaki cümlelerden hangisi kurallı cümle **değildir**?

- A) Köy hayatını çok sevdim.
- B) Dedem parkta yürür her sabah.
- C) Annem dün camları sildi.
- D) Ablam balkonda halı yıkadı.

8)

yüksek	tam	basit
eksik	kolay	alçak

Yukarıda karşıt anlamlı kelimeler eşleştirildiğinde hangi kelimeler açıkta kalır?

- A) basit – tam
- B) yüksek - kolay
- C) kolay – basit
- D) tam - eksik

9) Aşağıdaki cümlelerin hangisinde "yaş" kelimesi **farklı** bir anlamda kullanılmıştır?

- A) Ablam yaş elbiseleri serdi.
- B) Salih'in çorapları yaş olmuş.
- C) Yaş tabakları kuruladım.
- D) Babam annemden dört yaş büyük.

10) **Kitaplığımda hikaye masal ve şiir kitapları var.**

Yukarıdaki cümlede bir noktalama işareti unutulmuş. Bu noktalama işareti hangisidir?

- A) virgül
- B) kısa çizgi
- C) kesme işareti
- D) ünlem işareti

11) Δ Almanya

- Pamuk
- Eylül
- Ramazan Bayramı

Yukarıdaki kelimelerden hangileri cümlede **her zaman** büyük harfle yazılır?

- A) \diamond
- B) Δ
- C) Δ
- D) \diamond

12) **Büşra ödevlerini hep zamanında yapar.**

Yukarıdaki cümle anlam yönünden aşağıdakilerden hangisidir?

- A) Olumsuz cümle
- B) Soru cümlesi
- C) Ünlem cümlesi
- D) Olumlu cümle

13) **bahçede – okudum – yüzdüler – sabah biz – uyuyor – masa – gittik - silecek**

Yukarıdaki kelimelerden kaç tanesi kurallı bir cümle oluşturulduğunda cümlenin sonunda yer alabilir?

- A) 4
- B) 3
- C) 5
- D) 6

14) Aşağıdaki cümlelerin hangisinde yazım yanlışı yapılmıştır ?

- A) Dün kaç sayfa kitap okudun.
- B) Hasan da bizimle gelecekmi?
- C) Babam Karabaş'a kulübe yaptı.
- D) Türkiye Asya ve Avrupa kıtaları arasındadır.

15) Arda, dedesi ile birlikte bahçedeki ağaca salıncak kurdu.

Yukarıdaki cümlede aşağıdaki sorulardan hangisinin cevabı yoktur?

- A) Ne zaman
- B) Kim
- C) Nereye
- D) Ne

- 16) Sekiz yüz beş sayısı "□⊙5" şeklinde yazılmıştır.



Yukarıdaki ifadeye göre □+⊙ işleminin sonucu kaçtır?

- A) 8 B) 9
C) 13 D) 7

- 17) 6 - 12 -
7 - 14 -



Önder ileriye doğru önce altışar, sonra yedişer saymış. Buna göre Önder aşağıdaki sayılardan hangisini her iki ritmik saymada da söylemiştir?

- A) 36 B) 49
C) 54 D) 42

- 18) 500 - 800 - 300

Aşağıdaki sayılardan hangisi yukarıdaki sayılardan birine **yuvarlanamaz**?

- A) 346 B) 854
C) 480 D) 839

19) ● 86 + 75

▲ 123 + 69

■ 58 + 96

◆ 93 + 32

Yukarıdaki toplama işlemlerinden hangilerinin sonucu çifttir?

A) ▲ ■

B) ▲ ◆

C) ● ■

D) ◆ ●

20) XIV - VI = ?

Yukarıdaki işlemin sonucu Sinem'in şimdiki yaşıdır. Sinem " IV " yıl sonra kaç yaşında olur?

- A) XI B) XIII
C) XII D) IX

21)
$$\begin{array}{r} 25\blacklozenge \\ + 3\blacktriangle 4 \\ \hline 592 \end{array}$$

Yukarıdaki toplama işlemine göre $\blacklozenge \times \blacktriangle$ işleminin sonucu kaçtır?

- A) 32 B) 18
C) 24 D) 20

22) Bir çiftçi 650 koyunun önce 126 tanesini , sonra 247 tanesini satmış.

Buna göre çiftçinin geriye kaç tane koyunu kalmıştır?

- A) 278 B) 277
C) 267 D) 287

23) Bir manav 63 kg domatesin $\frac{1}{7}$ 'i çürüdüğü için çöpe atmış.

Yukarıdaki bilgiye göre kaç kg sağlam domates kalmıştır?

- A) 9 kg B) 52 kg
C) 55 kg D) 54 kg

24) Okan'ın izlediği film 1 saat 45 dakika sürmüştür ve 18.50'de bitmiştir.

Yukarıda verilen bilgiye göre Okan'ın izlediği film saat kaçta başlamıştır?

- A) 17.00 B) 17.05
C) 17.15 D) 17.10

25) Pelin kare prizmanın yüzlerini kullanarak iki farklı geometrik şekil çizmiş.

Pelin aşağıdaki geometrik şekillerden hangilerini çizmiştir?

- A) kare – dikdörtgen
B) üçgen - kare
C) kare - çember
D) dikdörtgen - üçgen

26) Bir terzi her birine 125 cm kumaş kullanarak 2 tane pantolon dikmiş.


Terzinin kullandığı kumaşın tamamı 6 m olduğuna göre geriye kaç cm kumaş kalmıştır?

- A) 350 cm B) 250 cm
C) 450 cm D) 375 cm



Melih yukarıdaki paraları kumbarasına atmış. Buna göre Melih kumbarasına kaç lira atmıştır? -


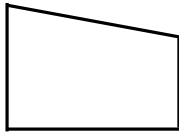
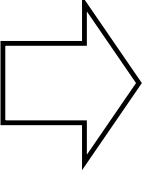

- A) 5 lira B) 6 lira
C) 4 lira D) 7 lira

- 28)  Babam 42 , annem 38 yaşındadır.

Sıla'nın verdiği bilgiye göre 6 sene sonra annesinin ve babasının yaşları toplamı kaçtır?

- A) 86 B) 82
C) 90 D) 92





- 29) Aşağıdaki şekillerden hangisinin simetri doğrusu **çizilemez**?

- A)  B) 
C)  D) 

- 30) Bir kenarı 25 m olan kare şeklindeki bahçemizin çevresine 3 sıra dikenli tel çektik.

Buna göre bahçenin çevresi için kaç m dikenli tel kullanılmıştır?

- A) 100 m B) 350 m
C) 250 cm D) 300 m

- 31)  Dünya tepsi şeklindedir.
İrem
-  Dünya küre şeklindedir.
Gökhan
-  Limana yaklaşan geminin önce yelkenlerini görürüz.
Asya
-  Dünya öküzün boynuzları arasındadır.
Mert

Dünya'nın şekli ile ilgili hangi çocukların verdiği bilgi doğrudur?

- A) İrem – Gökhan B) Asya - Mert
C) Gökhan – Asya D) İrem - Asya

- 32) Kulak Kalp
 Akciğer Deri

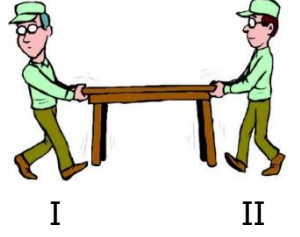
Yukarıdakilerden hangileri duyu organımızdır ?

- A) B)
C) D)

33) Balkondan aşağı bırakılan top aşağıdaki hareketlerden hangisini yapar?

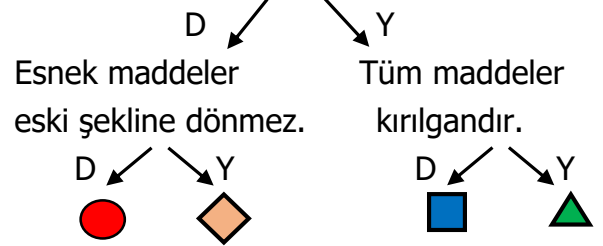
- A) Hızlanma B) Yavaşlama
C) Sallanma D) Yön değiştirme

- 34) Yandaki resimde masayı taşıyan kişilerin uyguladıkları kuvvet aşağıdakilerden hangileridir?






- | | I | II |
|----|-------|-------|
| A) | itme | itme |
| B) | çekme | itme |
| C) | çekme | çekme |
| D) | itme | çekme |

- 35) Yumuşak maddelere şekil verilebilir.



Yukarıdaki ifadelerin doğru ve yanlış olmalarını dikkate alarak ilerlersek hangi şekle ulaşırız?

- A)  B)  C)  D) 

- 36) Laboratuvarda yapılacak çalışmalar sırasında uyulacak kurallar vardır. Buna göre aşağıdakilerden hangisi **yanlıştır**?

- A) Eğlence amacıyla maddeleri birbirine karıştırabiliriz.
B) Deney yapılan yerde yemek yememeliyiz.
C) Deneyden sonra çalıştığımız ortamı temizlemeliyiz.
D) Kullanacağımız maddelerin üzerindeki etiketi okumalıyız.

37) I – Ayran II- Hava III- Pirinç

Yukarıdaki maddelerin halleri aşağıdakilerden hangisinde doğru verilmiştir?

	I	II	III
A)	sıvı	gaz	sıvı
B)	sıvı	katı	katı
C)	sıvı	gaz	katı
D)	gaz	gaz	katı

38) Görme olayının gerçekleşmesi için gereklidir.

Yukarıdaki cümlede noktalı yere aşağıdakilerden hangisi gelmelidir?

- A) Karanlık B) Ses
C) Işık D) Isı

39) Zil 6 Araba 7 Yağmur 8 Davul 9



Benim yaşım doğal ses kaynağında yazan sayıdır.

Umut'un verdiği bilgiye göre Umut kaç yaşındadır?

- A) 7 B) 8
C) 6 D) 9

- 40) Sesin işitilebilmesi şiddetine bağlıdır.
 Ses bir yöne yayılır.
 İnsanlar her sesi duyabilir.

Yukarıdaki ses ile ilgili ifadelerden doğru olanlara "D", yanlış olanlara "Y" yazarsak hangi sonuç ortaya çıkar?

- A)

D
Y
Y

 B)

D
D
Y

 C)

Y
Y
Y

 D)

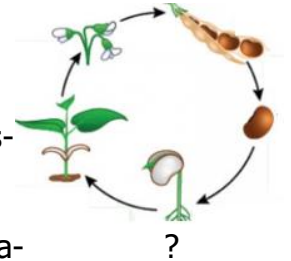
D
Y
D

- 41) Beslenirler
 Yürürler
 Solunum yaparlar
 Tepki verirler

Yukarıdakilerden hangisi canlıların ortak özelliğinden **değildir**?

- A) B)
C) D)

42) Yandaki resimde bir bitkinin yaşam döngüsüne ilişkin aşamaları verilmiştir.



Buna göre "?" yerine aşağıdakilerden hangisi yazılmalıdır?

- A) Tohum B) Çiçek
C) Fidan D) Çimlenme

43) Aşağıdakilerden hangisi geri dönüşümle tekrar kullanılabilen atıklardan **değildir**?

A)



B)



C)



D)



44) Aşağıdakilerden hangisi yapay çevredir?

A)



B)



C)



D)



45) Aşağıdakilerden hangisinin elektrik kaynağı diğerlerinden **farklıdır**?

A)



B)



C)



D)



CEVAP ANAHTARI

TÜRKÇE	MATEMATİK	FEN BİLİM.
1) B	16) A	31) C
2) C	17) D	32) B
3) A	18) B	33) A
4) A	19) A	34) B
5) D	20) C	35) D
6) C	21) C	36) A
7) B	22) B	37) C
8) C	23) D	38) C
9) D	24) B	39) B
10) A	25) A	40) A
11) B	26) A	41) D
12) D	27) C	42) D
13) C	28) D	43) A
14) B	29) B	44) B
15) A	30) D	45) C